



親  
愛  
精  
誠

课题：第2课 古代手工业的进步（二）

学科：历史

年级：高一

教材：人教版必修二

授课老师：吴风

工作单位：广州市第六中学





親  
愛  
精  
誠

## 第2课 古代手工业的进步（二）

### 1. 两张“名片”

(1) 丝绸

(2) 瓷器






## 第2课 古代手工业的进步（二）

### 1. 两张“名片”

#### (1) 丝绸

史料 古希腊人把中国叫做“塞里斯”，即“丝绸之国”。在古罗马，执政官恺撒曾身穿丝绸长袍出现在剧场，引得在场的贵族羡慕不已，他们甚至不惜用相等重量的黄金去购买丝绸。





## 第2课 古代手工业的进步（二）

### 1. 两张“名片”

#### (2) 瓷器

材料 关于英文称呼中国国名为“CHINA”一词的来历，比较流行的说法是来源于瓷器，因为在英语里中国和瓷器都是“CHINA”。





親  
愛  
精  
誠


西汉时期，中国丝绸远销亚洲、欧洲，为中国获得“丝国”的美誉。

唐朝起，中国瓷器大量输出国外，远达欧洲、非洲。

明清时期瓷器对外的销量更大，中国被称为“瓷器大国”。

1. 在对外交往中，中国主要输出的是手工业产品。
2. 中国古代手工业发展水平长期领先世界，由于自然经济长期存在，并没有根本性突破。





親  
愛  
精  
誠

## 为什么中国古代手工业产品会广受海外欢迎？

1. 日用品与艺术品的结合。中国古代的手工业产品集内质美、造型美、色泽美于一体。
2. 古代封建王朝利用馈赠手工业产品的方式，加强与亚、非、欧各国的友好往来。
3. 丝绸之路的开通提供了便利的条件。





## 第2课 古代手工业的进步（一）

### 2. 两条“丝路”

(1) 陆上丝绸之路

(2) 海上丝绸之路

親  
愛  
精  
誠






欧洲  
公元12世纪

GUA



# 汉朝陆上丝绸之路之路和海上丝绸之路线路图





丝绸之路是指起始于中国，连接亚洲、非洲和欧洲古代商业贸易路线。

从运输方式上分为陆上丝绸之路和海上丝绸之路。



## (1) 陆上丝绸之路

陆上丝绸之路自中国西部通过中亚和西亚，最终抵达非洲和欧洲。

自从西汉武帝派遣张骞两次出使西域，开辟了中西交通道路之后，中国的丝织品开始远销亚欧。

“然张骞凿空，其后使往者皆称博望侯，以为质（诚信）与国外，外国由此信之”

——司马迁《史记》



## (2) 海上丝绸之路

海上丝绸之路以中国东南沿海为起点，经东南亚、南亚、非洲、最后到达欧洲。

親  
愛  
精  
誠

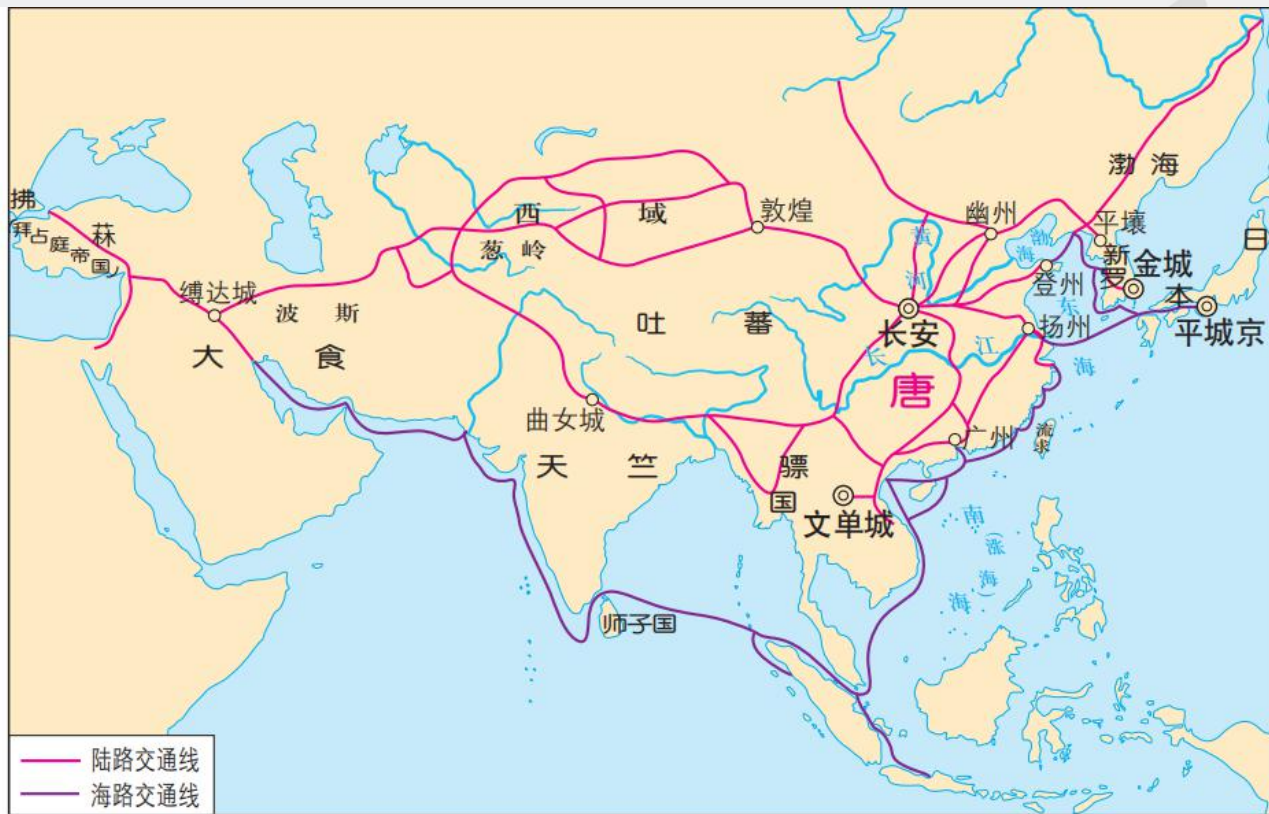


## 西汉丝绸之路主要路线



▲ 丝绸之路线路图

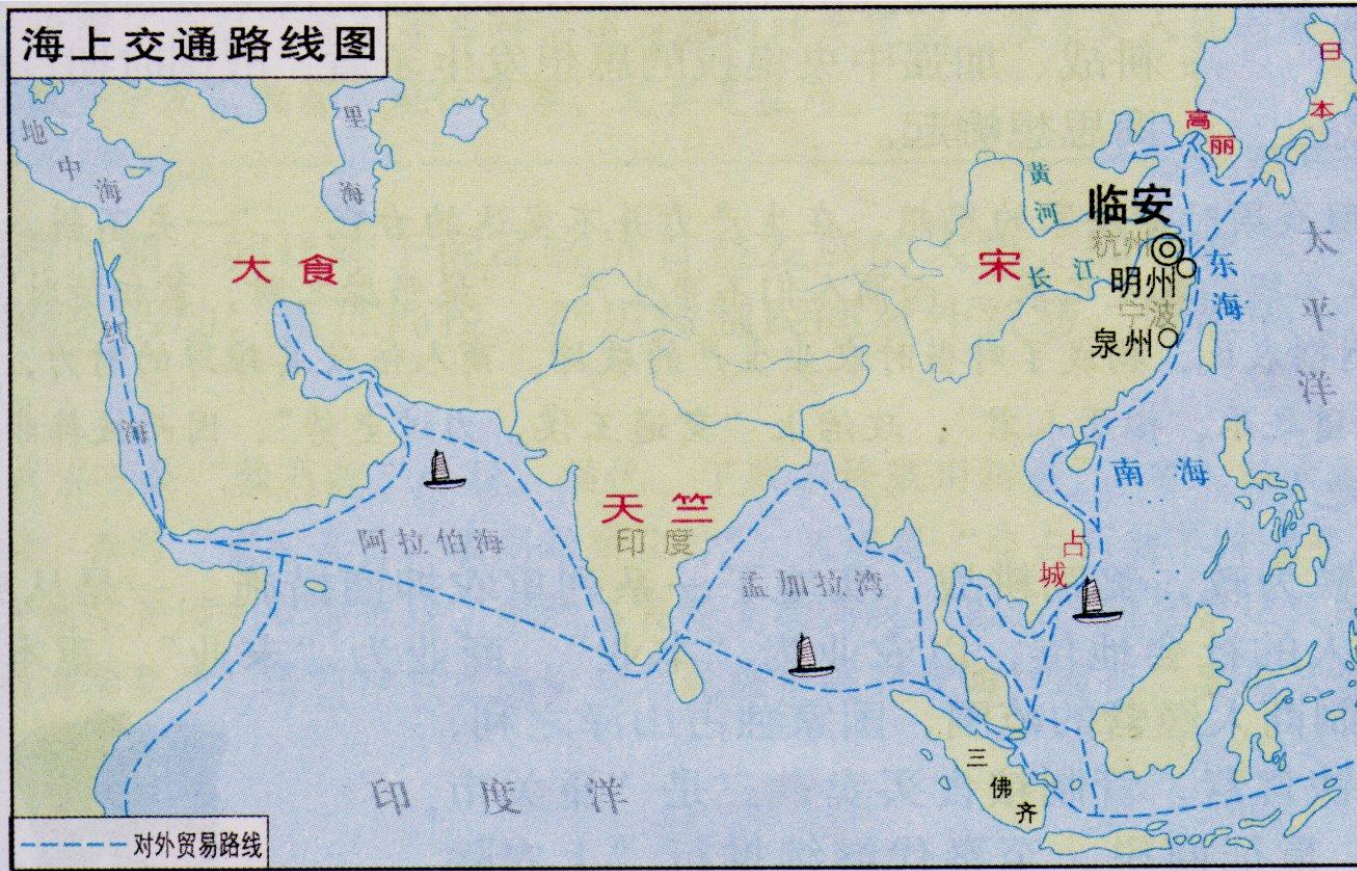
## 唐朝对外主要 交通线路



▲ 唐朝对外主要交通路线示意图



# 宋朝海上丝绸之路主要路线





親  
愛  
精  
誠

## 我国古代丝绸之路的主要运输方式

1. 汉朝：陆上为主
2. 唐朝：海陆并重
3. 宋朝：海上为主



马匹、皮毛、瓜果蔬菜、香料、药材、  
珠宝、音乐、舞蹈、宗教.....

西方

丝绸之路

东方

友谊之路

丝绸、瓷器、漆器、铁器、冶铁技术、  
蚕种和养蚕技术.....

促进东西方经济文化的交流

親愛精誠





## 21世纪“一带一路”示意图





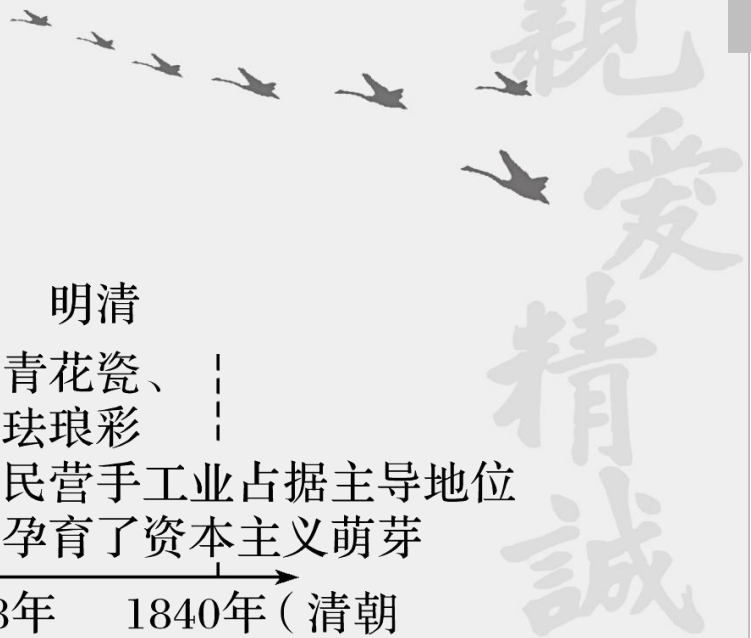
親  
愛  
精  
誠

“一带一路”是“丝绸之路经济带”和“21世纪海上丝绸之路”的简称。

2013年由中国国家主席习近平提出。旨在借用古代丝绸之路的历史符号，高举和平发展的旗帜，积极发展与沿线国家的经济合作伙伴关系，共同打造政治互信、经济融合、文化包容的利益共同体、命运共同体和责任共同体。





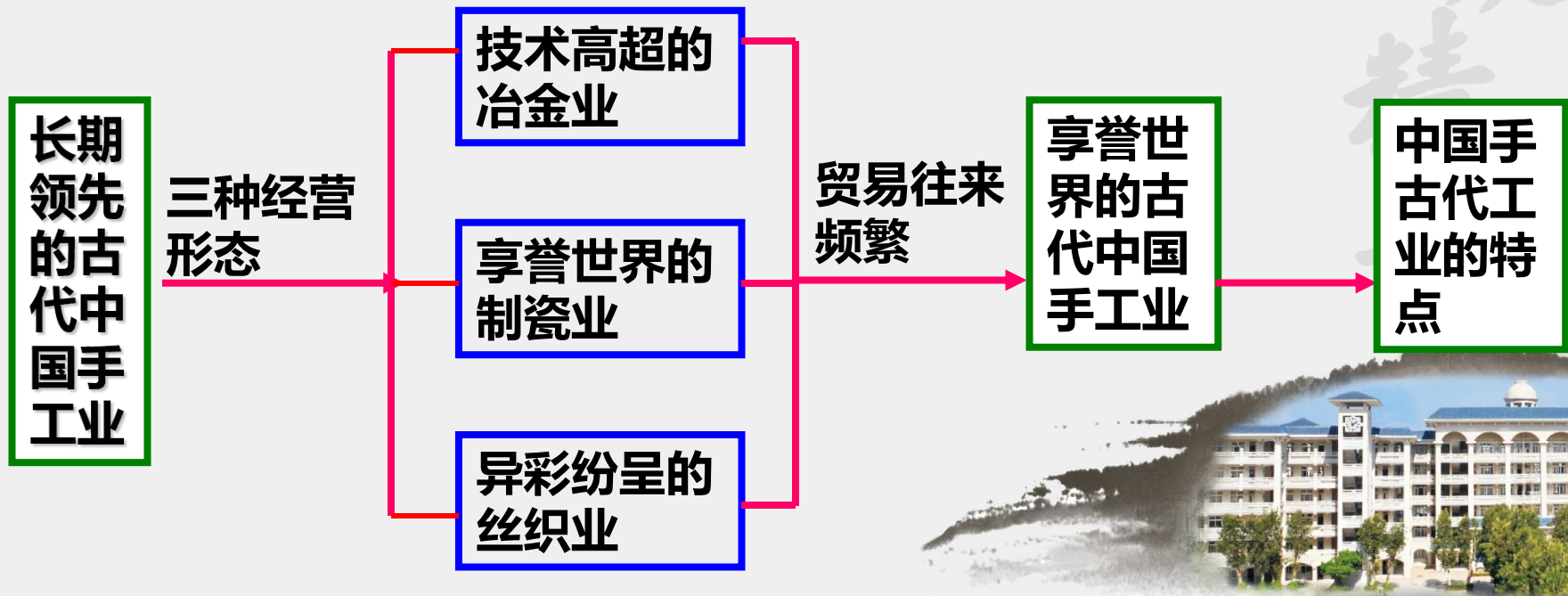


## 时空观念

夏商周	春秋战国	两汉	魏晋南北朝	隋唐	宋元	明清
青铜时代	民间手工业兴起	高炉炼铁 水排青瓷	灌钢法 白瓷	南青北白	五大名窑	青花瓷、珐琅彩 民营手工业占据主导地位 孕育了资本主义萌芽
约前2070年	前771年	前221年	前202年	220年	581年	907年
				960年	1368年	1840年 (清朝前期)



## 本课知识结构





親  
愛  
精  
誠

(练习一) 鲁班复姓公输，名般，是春秋战国时期的著名工匠。传说他发明了锯子、刨子、钻子、凿子、铲子等木工用具。这些工具的发明主要得益于 **C**

- A. 小农经济的发展
- C. 冶金技术的进步

- B. 政府政策的支持
- D. 工艺制作水平的提高



铁制品





親  
愛  
精  
誠

(练习二) 中国古代官营手工业素来发达，产品大多精美，质量上乘，之所以出现这一现象的主要原因是 **B**

A. 工匠优秀，积极性高

B. 国家权力的支持

C. 市场需要高质量的产品

D. 生产不计成本



由政府直接经营





親  
愛  
精  
誠

(练习三) “丝路花雨，铃声悠扬”是后人对古代东西方陆上贸易通道的描述，在该通道上流通的主要商品是 **B**

A. 玉米

B. 丝织品

C. 马铃薯

D. 烟草

丝织品

丝绸之路







(练习四) 下表为明朝苏州地区居民职业结构表。据此可知

D

职业	自耕农、地主	佃农	<u>工场主、雇工</u>	商人
占人口总比例	24%	36%	30%	10%

- A. 明朝苏州商品经济占主导      B. 明朝的自然经济开始解体  
C. 苏州已经是丝织业中心      D. 苏州已出现资本主义萌芽



雇佣关系



景德镇制瓷业繁荣发达

(练习五) 材料

明朝万历时王世懋在《二酉委谭摘录》中说景德镇是“天下窑器所聚，其民繁富，甲于一省”。

资本主义生产关系萌芽

万历三十四年，萧近高说：“镇上佣工，皆聚四方无籍游徒，每日不下数万人。”

清代唐英在《陶冶图说》中也记载了当时的实况：  
“景德镇袤延仅十余里……以陶来四方商贩，民窑二三百座，工匠人夫不下数十万，藉此食者甚众。”

民营手工业者占据主导地位





親  
愛  
精  
誠

请同学们课后结合教材第2课，及  
时地巩固今天所学到的知识。

下节课我们将学习新的内容——  
古代商业的发展。





親  
愛  
精  
誠

感谢同学们的聆听！

