

2020 年春学期高二年级期中考试（开卷）

政治试卷(理科)

考试范围：必修 1 考试时间：60 分钟

第 I 卷（选择题）

一、单项选择题（总共 35 小题，每小题 2 分，共 70 分；每题给出的四个选项中，只有一个选项符合题目要求）

1. 截至 2020 年 2 月 2 日,天津邮政受理地方政府、公益组织、企事业单位和医疗器械生产企业等机构向湖北地区捐赠的各类防疫物资,共计 1759 件,其中包括定向免费邮件 394 件,防护服、口罩、体温检测仪、呼吸机等其他防护医用物资 1355 件。这里捐赠的“防疫物资

- A. 不是商品,因为它不具有使用价值和价值 B. 是商品,因为它是供人们消费的
C. 不是商品,因为它没有用于交换 D. 是商品,因为它是劳动产品

2. 国家统计局发布的 2020 年 1 月份全国 CPI 数据显示, CPI 同比上涨 5.4%, 创近八年新高,超过国际公认的通货膨胀的 3%警戒线。据此,预防通货膨胀成为关注的焦点。若不考虑其他因素,可能引发通货膨胀的传导路径是

- ①消费品供不应求→消费品原材料价格走高→消费品出厂价格走高
②居民收入上升→消费需求扩大→消费品价格走高
③社会总供给小于社会总需求→物价总水平持续上涨
④企业利润扩大→企业投资增加→失业率下降

- A. ④→①→③→② B. ①→④→②→③
C. ①→③→④→② D. ④→②→①→③

3. “石油人民币”来了!中国原油期货 3 月 26 日在上海国际能源中心(INE)挂盘交易。中国原油期货的最大亮点是人民币在上海和香港交易所可完全兑换黄金。中国原油期货上市,将弥补现有国际原油定价体系的缺口,建立反映中国及亚太市场供求关系的原油定价基准。中国原油期货上市

- ①表明人民币已成为国际原油结算的主要货币

- ②有利于优化我国能源产品消费结构,促进国民经济提质增效
③能及时掌握国际石油市场供求关系变化,优化石油资源配置
④有利于人民币走向国际市场,减少国内汇率波动风险

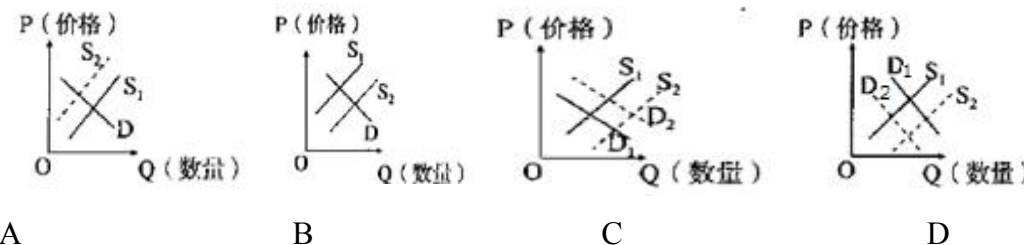
- A. ①② B. ③④ C. ②③ D. ①④

4. 自 2015 年汇改以来,人民币汇率经历了多次即将“破 7”尖峰时刻,但都在 6.96 关口收回失地。2019 年 8 月 8 日,人民币对美元中间价(人民币元/100 美元)报 700.39。若不考虑其他因素,这对我国对外经济造成的影响有

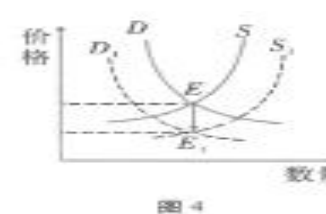
- ①中国企业在美国投资成本上升,不利于中国企业在美国投资
②美国商品在中国市场的价格下降,有利于中国进口美国商品
③美国公民来华旅游成本下降,有利于吸引美国公民赴华旅游
④中国商品在美国市场的价格上升,不利于中国商品出口美国

- A. ①③ B. ①④ C. ②③ D. ②④

5. 据统计,2019 年彩电开机率降到 30%,使用者主要为 40 岁以上者;同时,受惠于社会劳动生产率大幅度提高,彩电成本大幅度降低。这给彩电市场带来巨大影响,彩电价格走势将是(S1、S2 分别为变化前后的供给曲线;D1、D2 分别为变化前后的需求曲线)



6. 下图表示某商品供求关系变化与价格变动的关系,其中 D 为需求曲线, S 为供给曲线, E 为价格均衡点。下列能导致均衡点发生 E 向 E1 变化的是



- ①2019 年国家对农民养殖给予养殖补贴(该商品为牛、羊、猪等养殖农产品)
②2019 年新能源汽车国家补贴标准降低 50%以上新能源汽车销量持续下滑

通往清华北大的路是用卷子铺出来的

向规范、速度、准确多要 10 分

③2019 硫酸产量稳步增长，以硫酸为生产原料的化工企业受效益下滑、环保等因素影响硫酸需求量下降趋势

④2018 年秋，巴西加大了大豆种植规模，2019 年中国发力农业科技使中国进口大豆的需求减少（该商品为巴西大豆）

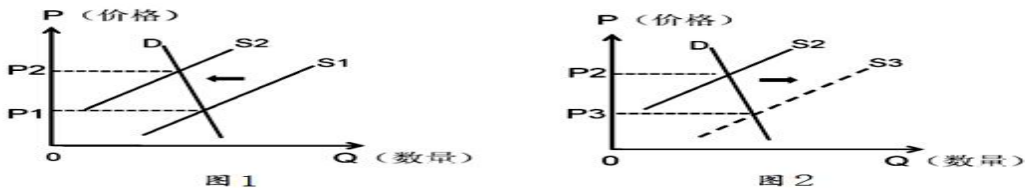
- A. ①② B. ①④ C. ②④ D. ③④

7. 2019 年 5 月，华北地区的苹果价格达到了每千克 27 元左右，与去年同期相比增长近 4 倍，创下历史新高。其原因可能有

- ①资本介入，存在炒作因素 ②自然灾害等原因导致苹果产量大幅减少
③苹果质量提高，使用价值大 ④社会必要劳动时间减少，价值量上升

- A. ①② B. ①④ C. ②③ D. ③④

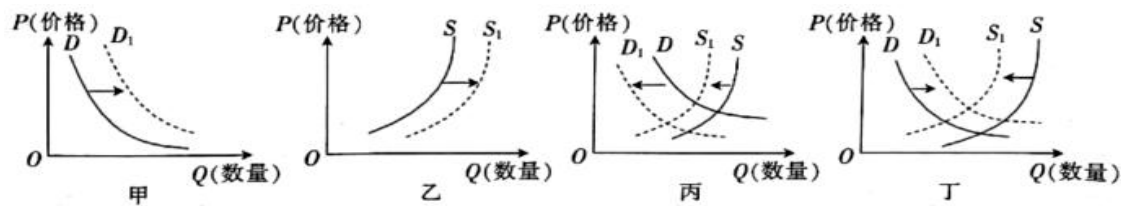
8. 受非洲猪瘟、“猪周期”、一些地方政府“一刀切”的环境整治等因素影响，2018 至 2019 年我国猪肉价格大幅上涨，影响了居民的生活，如图 1 所示(S 代表供给曲线，D 代表需求曲线)。若其他条件不变，要实现猪肉市场上图 1 状态向图 2 状态转化，应该



- ①加快生物安全立法，保障生猪产业绿色发展
②增加国家的猪肉收储，对猪肉进行限价销售
③加快供给侧改革，促进其他禽养殖业发展
④优化宏观调控，平滑生猪养殖的周期性波动

- A. ①② B. ①④ C. ②③ D. ③④

9. 下图中 S 表示供给曲线，D 表示需求曲线。不考虑其他因素，下列判断正确的有



①图乙能反映中俄天然气管道(俄罗斯向中国供气)开通后我国天然气市场的变化

②图甲能反映牛肉价格上涨后其互补品需求的变化

③图丙能反映 5G 时代到来后 4G 手机的供求变化

④图丁能反映禽流感蔓延后我国家禽市场的供求变化

- A. ①③ B. ①④ C. ②③ D. ②④

10. 下表为 2018 年我国 GDP 及居民收入、消费有关情况。从表中可以看出

GDP 增速 (%)	全国居民人均可支配收入增速 (%)	全国居民人均消费增速 (%)	农村居民人均消费支出增速 (%)	城镇居民人均消费支出增速 (%)
6.6	6.5	6.2	8.4	4.6

注：数据来自国家统计局 2019 年 2 月 28 日《国民经济和社会发展统计公报》

- ①我国城乡居民收入存在差距 ②居民收入是消费的前提和基础
③我国居民恩格尔系数不断下降 ④我国居民收入增长与经济发展基本同步

- A. ①② B. ①③ C. ②④ D. ③④

11. 当前农村消费水平越来越高。在不少经济条件好的农村，农民不再局限于单纯的物质满足，消费理念逐渐与城市居民接轨，消费行为日趋成熟。促成当前农村消费这一变化的原因有

- ①农民收入水平不断提高，兜里有钱“能消费”
②农民树立适度消费理念，行为理性“乐消费”
③农村社会保障日益完善，制度保障“敢消费”
④农村食品支出不断减少，收支合理“愿消费”

- A. ①② B. ①③ C. ②④ D. ③④

12. 现实中，决策棘手是常态。某经济学家进行了如下实验：请大学生根据月租高低、与学校距离的远近来选择公寓。两套公寓都无绝对优势，对距离更在意的选 A，对租金更敏感的选 B，经济学家找到了一组选 A 和 B 各占一半的学生，增加了公寓 C，让学生再次选择。令人惊讶的是，虽然无人选 C，但选 B 的人却增加了，占到了 70%。

对此最合理的解释是

- A. 公寓 B 比 C 更具价格的相对优势，所以学生倾向于选 B
- B. 公寓 B 比 C 占有绝对优势，所以 C 的出现增加了学生对 B 选择
- C. 公寓 B 的租金优势比 A 的距离优势更吸引人，所以选 B 的学生增加了
- D. 公寓 A 比 C 占有绝对优势，所以没有学生选 C

13. 房屋装修风格可以自己设计、选择，旅游路线可以自己确定，手机铃声可以自己制作……如今在人们的生活中，“自己作主”式消费已经成为一种新的消费模式。这种消费模式的出现

- ①体现了消费者的求异心理 ②是经济发展和社会进步的具体表现
- ③违背了适度消费的原则 ④体现了消费者的攀比心理
- A. ①② B. ②③ C. ①④ D. ③④

14. 已经持续 11 年的“双十一”购物狂欢节今年再次燃起。根据以往的交易成绩，天猫“双十一”每一年都在不断刷新和翻倍交易额记录。2019 天猫“双十一”全天成交额为 2684 亿元人民币，超过去年的 2135 亿元人民币，再次创下新纪录。这一现象表明

- ①商品价格是影响消费水平的根本因素 ②营销手段能影响消费者的消费行为
- ③消费者需要保护环境，绿色消费 ④消费者需要避免盲从，理性消费
- A. ②③ B. ①③ C. ②④ D. ①④

15. 奶茶已有上千年历史，现在是一些年轻人的时尚饮品。奶盖茶、脏脏茶、芝士茶……不断迭代的奶茶正在摆脱“廉价”标签。不少奶茶店将中国茶与奶茶有机结合，凭借爆表颜值、产品创新、网络社交，成为众多年轻人的新晋“网红打卡点”。新式奶茶受到追捧的原因有

- ①借助网络平台增加知名度 ②通过提高价格打造自身品牌
- ③产品创新满足个性化需求 ④消费升级对生产具有反作用
- A. ①② B. ①③ C. ②④ D. ③④

16. 2017 年中央一号文件指出，农产品供需结构失衡、粮食库存持续增加、农产品进口冲击、农民增收动力衰减、资源环境严重透支等问题制约了农业农村持续平稳发展。这些问题供给和需求两侧都存在，但主要在供给侧。为此，需要

- ①从生产端入手，着力提高农产品有效供给
- ②完善分配制度和分配政策，提高居民收入
- ③调整产品结构，提供高质量、个性化农产品
- ④发展农业科技，扩大经营规模

- A. ①② B. ②④ C. ①③ D. ③④

17. 2019 年前 8 个月，我国央企累计净利润增长 6.99%。三分之一央企已引进社会资本，半数以上的国有资本集中在公众化的上市公司，各省区市混合所有制企业户数占比达 49%。对此下列认识正确的是

- ①国企混合所有制改革有利于激发市场主体的活力和创造力
- ②国企混合所有制改革提升了非公有制经济在国民经济中的地位
- ③股权多元化削弱了国有资本的控制力，转换了国企经营机制
- ④国企混合所有制改革有利于提高资源配置效率，增强国企竞争力
- A. ①③ B. ①④ C. ②③ D. ②④

18. 我国力争到 2021 年基本完成农村集体产权制度改革。农村集体资产产权归属不清、权责不明、保护不力等问题日益突出，侵蚀了农村集体所有制的基础，影响了社会稳定，改革势在必行。农村集体产权制度改革

- ①明确土地所有权归属，壮大集体经济
- ②激活农村各类生产要素潜能，调动农民积极性
- ③推进农地农房流通，增加农民财产性收入
- ④变革集体经济的性质，促进农村经济发展
- A. ①③ B. ②③ C. ③④ D. ②④

19. 波士顿矩阵又称四象限分析法、产品系列结构管理法等（由美国著名的管理学家、波士顿咨询公司创始人布鲁斯·亨德森于 1970 年首创），表示将企业现有产品从销售增长率和市场占有率角度进行再组合，依次为“明星产品”“问题产品”“金牛产品”“瘦狗产品”，其目的在于通过产品



图 2 波士顿矩阵

所处不同象限的划分,使企业采取不同决策,实现产品及资源分配结构的良性循环。

针对处于不同象限的产品,企业经营者应该

- ①对“明星产品”采取发展战略,继续投资,增强其竞争力
- ②对“问题产品”采取撤退战略,减少批量生产或立即淘汰
- ③对“金牛产品”采取收割战略,稳定市场份额获取丰厚利润
- ④对“瘦狗产品”采取选择性投资战略,进行改进或长期扶持

A. ①③ B. ①④ C. ②③ D. ②④

20. 大数据时代,企业可以通过对大数据的搜集与分析全面了解市场供求变化的信息,有效引导生产。以下传导路径正确的是

- ①增强消费便利一刺激消费需求一扩大生产规模
- ②及时掌握数据一调节产品投放一提高附加价值
- ③分析市场信息一了解消费需求一减少盲目决策
- ④作出生产决策一合理调配资源一调节生产规模

A. ①② B. ①④ C. ②③ D. ③④

21. 2018年7月,北京、天津、重庆、上海等地出现高温酷暑天气,杭州、重庆气温再次突破40℃。高温下保障劳动者的权益需要

- ①有关部门采取措施落实高温补贴政策
- ②劳动者与用人单位依法签订劳动合同,因为这是劳动者获得权利、维护权益的前提
- ③尊重劳动者平等就业和选择职业的权利
- ④劳动者主动学会用法律武器维护自己的切身利益,不能忍气吞声

A. ①② B. ③④ C. ①④ D. ②③

22. “两栖青年”是近些年来青年人群中很大的一个群体,他们是兼职者:创业者,生意人,他们是小微企业主,他们有主业有副业,他们的主业可能是一份工作、一种小生意,副业可能是一份兼职或正在进行的创业,以此增加个人或家庭的收入。这给劳动者的启示是

- ①要敢想敢干敢创造,树立多种方式就业观 ②要主动适应市场需要,及时转变就业观念
- ③要优化自身就业环境,树立职业平等观念 ④要勇于承担社会责任,提升自身职业技能

A. ①② B. ①③ C. ②④ D. ③④

23. 下图漫画所示,银行拒绝为列入黑名单的客户办理贷款,这是因为商业银行

- A. 贷款业务是基础业务
- B. 存款业务是利润的主要来源
- C. 结算业务是基础业务
- D. 以利润为主要经营目标



24. 永续债(无固定期限资本债券)在国际上是商业银行补充资本的常用工具。中国农业银行于2019年8月16日和9月3日分两期成功发行永续债1200亿元,对农行业资本补充成效显著,为该行服务实体经济、服务“三农”、服务民营和小微企业等提供有力支撑。下列对发行永续债的传导效应理解正确的是

- ①增强商业银行信贷投放能力 ②拓宽商业银行资本补充渠道
 - ③提升商业银行服务实体经济的能力 ④优化商业银行资本结构
- A. ①—②—③—④ B. ②—④—①—③
- C. ③—①—②—④ D. ④—①—②—③

25. 再保险,是投保人(普通公民和企业法人)向保险公司投保之后,保险公司(即保险人)觉得风险太大,超过自身的承受能力,于是向再保险公司转嫁投保风险的行为。它体现的是保险公司和再保险公司之间的关系。发展再保险业务

- ①是保险公司降低风险的措施 ②增强投保人抵御大灾的能力
 - ③将会增加投保人的保费负担 ④将减少给投保人的风险赔偿
- A. ①② B. ①③ C. ②④ D. ③④

26. 下列对股票投资和债券投资认识正确的是

- A. 股票是有价证券,债券不是有价证券 B. 公司都要按约定到期偿还本金支付利息
- C. 一般来讲,债券安全性比股票大 D. 债券的流通性强于股票,可自由交易

27. 甲是某国有控股公司的员工,收入主要是工资和奖金;乙是私营企业主,有大量雇工;丙是某独资外企的技术人员;丁承包本村土地进行种植获取收入。下列关于他们收入方式的说法正确的是

- A. 甲和乙是按劳分配 B. 甲和丙是按生产要素分配

- C. 丙和丁是按劳分配 D. 乙和丙是按生产要素分配
28. 发展社会主义市场经济,要求确立生产要素按贡献参与分配的原则。下列对于这一原则的认识正确的是
- ①参与收益分配的生产要素由劳动、资本、技术、信息和管理等
②参与收益分配的各类生产要素应得到等量的报酬
③生产要素参与分配对市场经济条件下各种生产要素存在合理性、合法性的确认
④生产要素参与分配有利于一切创造社会财富的源泉充分涌流
- A. ①②③ B. ②③④ C. ②③④ D. ①③④
29. 基尼系数是国际上通用的用来衡量居民收入差距的常用指标。(基尼系数介于0~1之间,基尼系数越大,表示不平等程度越高,国际上通常把0.4作为收入分配差距的警戒线。)2018年我国基尼系数大约在0.474.下列举措有利于降低我国基尼系数的有
- A. 完善企业股权激励制度 B. 取缔过高收入,增加低收入者收入
C. 努力扩大中等收入群体比重 D. 完善最低工资保障制度等再分配机制
30. 践行“共享发展”理念,让人民共享改革发展成果,就要从人民群众最为关心的最直接最现实的利益出发,着力构建公平公正共建共享的发展新机制。从分配角度看,下列做法有助于公平公正的有
- ①改革分配制度,实现收入分配均等化 ②精准扶贫,让贫困人口共享改革发展成果
③降低创业成本,有效激发社会投资活力④健全再分配调节机制,缩小社会收入差距
- A. ①③ B. ①④ C. ②③ D. ②④
31. 社会保障是精巧的“社会减震器”。2019年4月以来,我国多地启动社会救助和保障标准与物价上涨挂钩的联动机制。当单月CPI(居民消费价格指数)同比涨幅达到3.5%或CPI中的食品价格指数同比涨幅达到6%时,发放价格临时补贴,更好地保障困难群众基本生活。这说明
- A. 政府通过财政支出,提高低收入者的劳动收入
B. 国家通过初次分配,保障低收入人群的基本生活
C. 价格临时补贴能够降低物价,提升人民生活水平

- D. 价格临时补贴有利于促进社会公平,共享发展成果
32. 依照《环境保护税法》规定,2018年4月1日起,国家开始对大气、水、固体、噪声等四类重点污染物征收环境保护税,多排污多缴税,少排污少缴税,税收收入全部作为地方的财政收入使用。征收环境保护税将产生的积极效应是
- ①利用税收杠杆→调节利益分配→加强科技创新→优化产业结构
②提高征税比例→加大治污力度→遏制乱排乱放→改善生态环境
③销售价格上涨→消费数量减少→生产规模萎缩→环境压力减小
④企业成本提高→倒逼企业转型→淘汰落后产能→实现节能减排
- A. ①③ B. ①④ C. ②③ D. ②④
33. 2019年12月10日至12日,中央经济工作会议在北京举行。会议提出2020年要加快补齐民生短板,有效解决进城务工人员子女上学难问题。为此,需要
- ①增加新税种,增加财政收入以保证教育需要
②完善税收制度,保障财政收入的可持续增长
③优化教育经费投入使用结构.提高资金使用效益
④改变征税对象,激发企业开办学校的积极性
- A. ①② B. ①④ C. ②③ D. ③④
34. 国家税务总局近日发布《关于纳税信用修复有关事项的公告》,明确2020年1月1日起,对纳入纳税信用管理的企业纳税人,通过作出信用承诺、纠正失信行为等方式开展纳税信用修复,进一步鼓励和引导纳税人增强依法诚信纳税意识,积极构建以信用为基础的新型税收监管机制。材料体现了
- ①信用监管对诚信纳税的引导,发挥信用管理正向激励作用
②市场经济建立在信用基础上,良好信用可以促进市场交易
③营造法治公平的税收环境,让每个人都能主动遵守信用规则
④对失信者施以信用惩戒,承受相应的失信成本
- A. ①② B. ①③ C. ②③ D. ③④
- 35.珠宝、汽车、食品、洗护品、健康产品.....全球30余个国家4000余种优质产品应有尽有,产品仓库从海关内的保税区直接移到市中心,供消费者和地方零售机构选购。

江苏国际商品博览会成为上海之外大陆地区的首个365天全年无休全球商贸一站式交易服务平台。该平台对我国的积极作用在于

- ①创新了我国对外投资的方式，更好地推动开放型世界经济的建设
- ②为海外企业铺设高效便捷的来华贸易新通路，拓宽销售渠道
- ③打造了国际合作新平台，有利于保护外商投资合法权益
- ④成为我国消费者需求满足的窗口，为消费升级提供优质供给

A. ①② B. ①③ C. ②④ D. ③④

第II卷（共30分）

二、非选择题（本大题有3小题，共30分）

36. “农创客”是浙江为一群懂农业、爱农村、爱农民，全心投入现代农业建设的大学生起的新名字。小王就是其中的优秀代表之一。他大学毕业后，本着“无论什么工作，只要脚踏实地，都能有所作为”的观念，响应省政府号召，返乡投农创业。他利用专业特长，与当地农科所合作研发出了一款新型智能化农业机械，大大提高了农业生产效率；同时，小王与他人一起创办了W有限责任公司，实行“水稻+水产+瓜果”稻田立体生态循环种养新模式，现在已取得很好的经济效益，实现了经济效益和环境保护的统一。

结合材料，运用“企业经营”的知识，总结W公司成功的经验。(9分)

37. 改革开放以来，我国充分调动各方积极性，共同铸就中国经济的辉煌。

国产大飞机筑梦蓝天、“复兴号”完美首发、“蓝鲸一号”成功试采可燃冰——2017年这些闪亮的成就，有着共同的标志：国企创造。这一过程中，民企也未缺席，融入供应链、提供零配件，民企与国企一道分享“中国骄傲”的荣光。

被称作中国“新四大发明”的高铁、移动支付、共享单车、网购，除高铁外的3项，都是民营企业的创新之举。新业态快速崛起的背后，离不开通信国企从3G突破到4G并跑的有力支撑。快速普及的网络基础设施，为“互联网+”提供了丰沃土壤。

千帆竞发，百舸争流。“国有”“民营”各领风骚，充分发挥优势，促进了经济社会发展。

根据材料，运用我国基本经济制度的知识，分析“国有”“民营”是如何促进经济社会发展的。（9分）

38.材料 《“互联网+”人工智能三年行动实施方案》提出到2018年，打造人工智能基础资源与创新平台，人工智能产业体系、创新服务体系、标准化体系基本建立；基础核心技术有所突破，总体技术和产业发展与国际同步，应用及系统技术局部领先；在重点领域培育若干全球领先的人工智能骨干企业，初步建成基础坚实、创新活跃、开放协作、绿色安全的人工智能产业生态，形成千亿级的人工智能市场应用规模。

结合材料和所学经济知识，分析说明我国大力发展人工智能产业对我国经济发展的积极影响。（12分）