

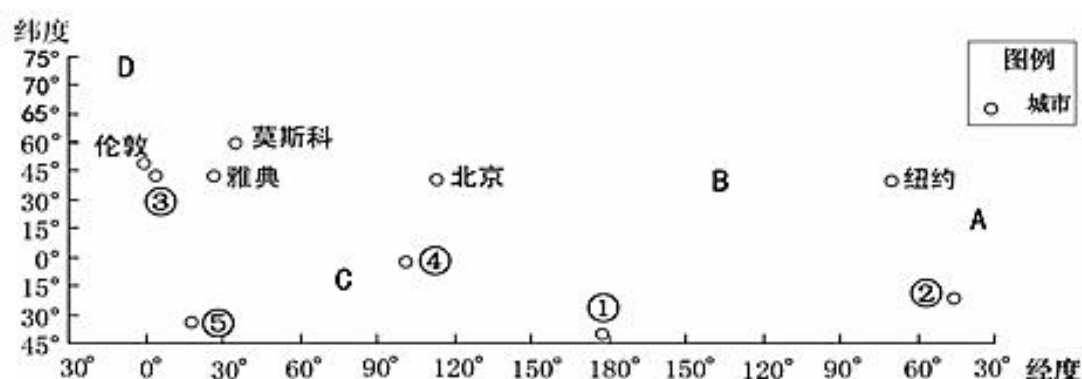
珠海市第一中学高二年级期中考试试卷

地理卷

一、单选题（每小题 2 分，共 60 分）

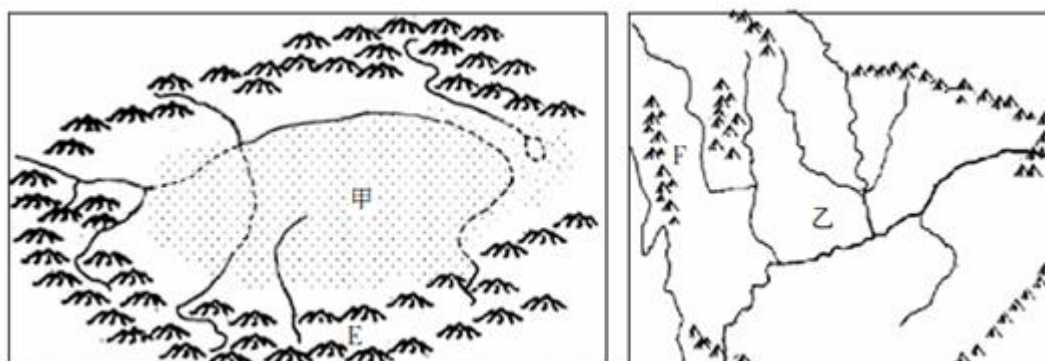
1. 我国没有的温度带是（ ）
A. 寒带 B. 热带 C. 亚热带 D. 温带
2. 关于我国四大高原描述错误的是（ ）
A. 云贵高原地形崎岖，喀斯特地貌广布 B. 黄土高原沟壑纵横，水土流失严重
C. 青藏高原雪山连绵，冰川广布 D. 内蒙古高原地形平坦，石漠化严重

读图，图中 A、B、C、D 表示四个大洋，完成下列各题。

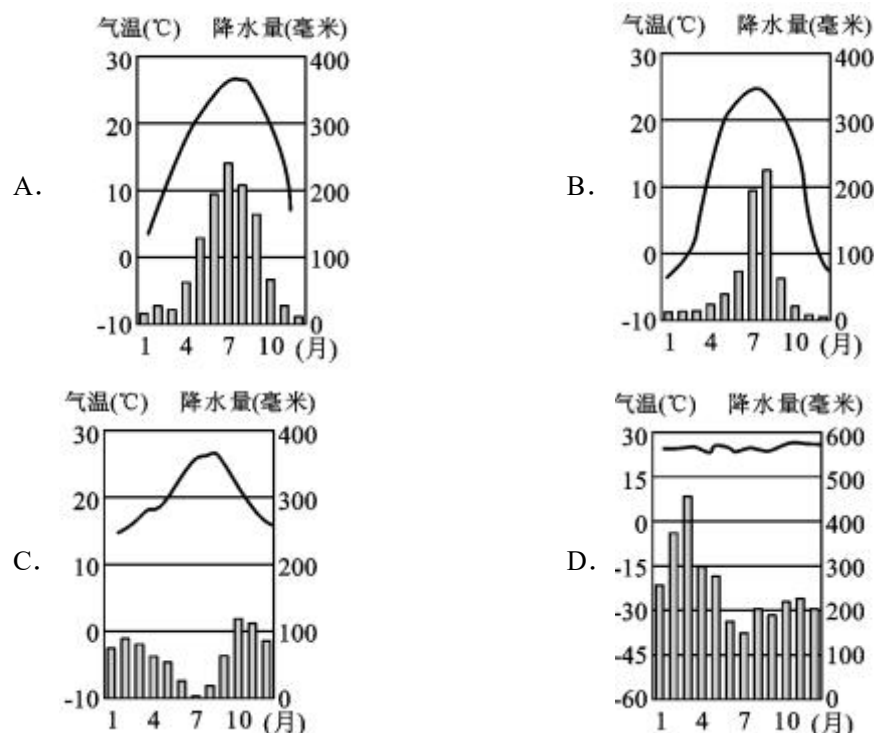


3. 图中城市
A. 中纬度比低纬度多，北半球比南半球少
B. 西半球比东半球多，南美洲比北美洲少
C. 热带比温带多，干旱地区比湿润地区多
D. 除南极洲外，各大洲城市图中均有分布
4. 连接图中 B 和 D 两大洋之间的海上通道是
A. 巴拿马运河 B. 白令海峡
C. 马六甲海峡 D. 直布罗陀海峡
5. 欧洲流经国家最多的河流是（ ）
A. 莱茵河 B. 伏尔加河 C. 多瑙河 D. 易北河
6. 与正常年份相比，夏季风弱的年份，我国东部季风区容易出现的现象是（ ）
A. 北方雨季开始早 B. 南方雨季开始早
C. 南涝北旱 D. 北涝南旱

读“我国甲、乙两盆地山河分布示意图”，完成下列各题。

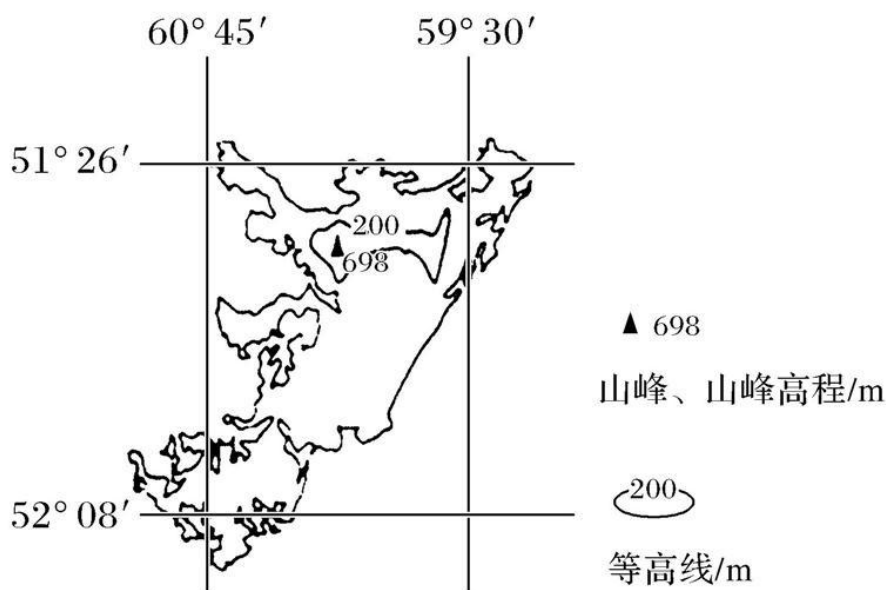


7. 图示 E 山脉北坡自然带谱较 F 山脉东坡自然带谱简单得多, 其主要原因是 E 山脉北坡 ()
- A. 相对高差较小, 水热条件的变化不明显
B. 地形坡度较陡, 不适宜不同植物的生长
C. 降水太少, 不具备森林生长的水分条件
D. 人类活动较密集, 自然带谱的破坏较严重
8. 与乙盆地相比, 甲盆地发展种植业的优势条件是 ()
- A. 热量丰富 B. 光照充足 C. 地形平坦 D. 土壤肥沃
9. 甲、乙两盆地发展工业都具备的有利条件是
- A. 技术力量雄厚 B. 常规能源资源丰富
C. 水陆交通便利 D. 靠近国内主要消费市场
10. 德国 85% 的人口居住在城市, 人口分布比较均匀, 中小城市散布全国, 人口超过百万的城市仅有三个, 据此, 可以看出德国是一个 ()
- A. 大中城市为主的国家 B. 中小城市为主的国家
C. 农业人口占多数的国家 D. 城市集中分布的国家
11. 等高线与等温线的相互关系是
- A. 等高线越密集, 等温线越稀疏
B. 等高线等温线一定完全重合
C. 若只考虑海拔对气温的影响, 则等高线值越大, 等温线值越小
D. 若只考虑海拔对气温的影响, 则等高线值越小, 等温线值越小
12. 长江三角洲地区夏季高温多雨, 冬季温和少雨, 下图中, 与其气候特点对应的是 ()



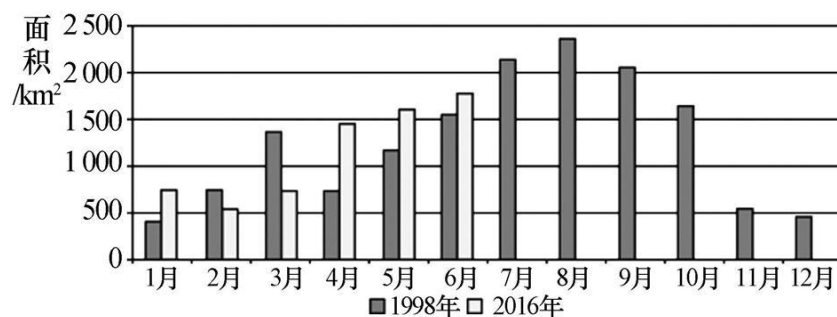
13. 我国的四大牧区是 ()
- A. 宁夏、新疆、青海、四川 B. 内蒙古、新疆、青海、西藏
C. 陕西、西藏、甘肃、宁夏 D. 山西、西藏、甘肃、青海
14. 古诗云: 一阵风来一阵沙, 有人行处没人家。该地区的聚落特点是 ()
- A. 呈点状, 分布在山间盆地 B. 呈点状, 分布在有水源的绿洲

- C. 呈带状, 分布在高原边缘 D. 呈团状, 分布在盆地中央
- 下图为某岛屿区域略图, 该岛屿降水充沛。据此完成 15-16 题。



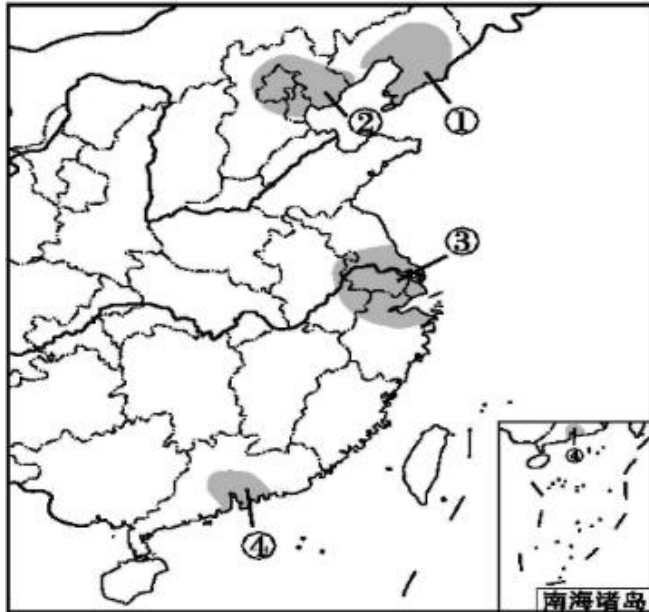
15. 该岛屿降水充沛的主要原因为 ()
- ①地形阻挡②受盛行风控制③寒流降温④受海洋影响大
- A. ①③ B. ②④ C. ②③ D. ①④
16. 该岛屿上主要的农业地域类型最有可能的是 ()
- A. 商品谷物农业 B. 水田农业
- C. 畜牧业 D. 园艺业

读气象卫星 2016 年洞庭湖水体各月面积与 1998 年对比统计图, 完成 17-18 题。



17. 洞庭湖水体面积夏季较大, 影响其主要原因是该季节 ()
- A. 湖泊范围的降水多 B. 冰雪融水补给量大
- C. 河流补给的水量大 D. 地下水资源汇入多
18. 与 1998 年比, 2016 年 1~6 月洞庭湖水体面积总体变化及最可能的原因正确的是 ()
- A. 变小; 围湖造田 B. 变小; 泥沙淤积
- C. 变大; 退田还湖 D. 变大: 全球变暖
19. 下列作物中, 主要分布在我国南方的是 ()
- A. 水稻和甜菜 B. 水稻和甘蔗 C. 花生和小麦 D. 大豆和油菜

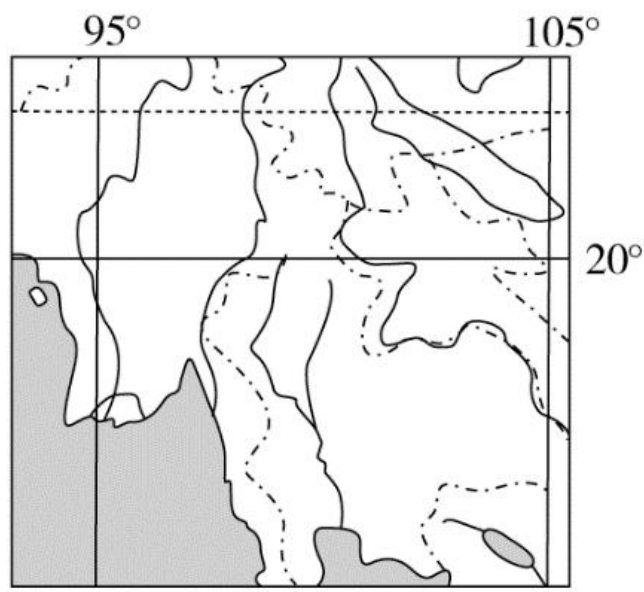
读我国主要工业基地分布图, 完成下列各题。



20. 以轻工业为主的工业基地是
A. ① B. ② C. ③ D. ④
21. 相对于③和④工业基地，①工业基地的最大优势是
A. 水资源充足 B. 水运便利
C. 科技发达 D. 矿产丰富
22. 关于自然资源特征的叙述，正确的是()
①自然资源的分布具有一定的地域性
②大部分自然资源都只有一种功能和用途
③许多自然资源之间的关系是相互影响，相互制约的
④自然资源的数量是无限的
A. ①② B. ①③ C. ③④ D. ②④
23. 亚洲地形的特点是()
A. 以高原为主，平均海拔最高的洲 B. 地形复杂多样，地势中部高四周低
C. 以平原为主，平均海拔最低的洲 D. 西部是山地，中部是平原，东部是高原
24. 澳大利亚的生物具有古老性、独特性，原因是()
A. 人类影响干扰少，动物进化快
B. 气候干旱，物种进化缓慢
C. 草原面积广大，生存环境优越
D. 孤立在南半球的海洋上，自然环境单一，缺少大型野生食肉动物
25. 咱们广东属于南方地区，南方地区与北方地区的分界线接近于()
A. 400mm 年等降水量线 B. 地势第一、二阶梯分界线
C. 小麦、水稻集中分布区分界线 D. 年平均气温 0℃ 等温线
26. 安第斯山脉南北狭长的原因是()
A. 沿板块消亡边界发育 B. 沿火山地震带发育
C. 沿板块生长边界发育 D. 沿海陆作用边界发育
27. 关于德国的叙述正确的是
A. 现代化工业高度发达，是世界上经济实力最强的国家
B. 发展工业所需的原料、燃料都依靠进口
C. 埃森、杜伊斯堡是鲁尔区重要工业中心

D. 汉堡是位于莱茵河下游的最大港口城市

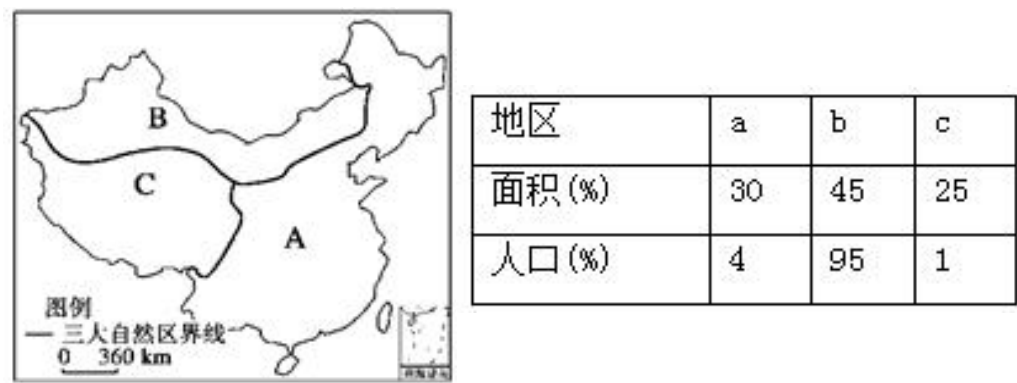
下图示意中南半岛部分地区河流分布。读图，完成下面小题。



28. 图示区域内中南半岛的地形地势特征描述正确的是
- A. 地形以平原为主
 - B. 北部为高原
 - C. 北高南低，北部起伏大
 - D. 北高南低，南部起伏大
29. 该地区的主要经济作物是
- A. 天然橡胶
 - B. 水稻
 - C. 黄麻
 - D. 棉花
30. 2018 年 10 月 24 日，港珠澳大桥正式通车，下列说法不正确的是（ ）
- A.港珠澳大桥将全面提升湾区各城市等级
 - B.港珠澳大桥将优化城市产业结构，促进城市分工合作
 - C.港珠澳大桥将促进创新要素的高效流动和配置
 - D.港珠澳大桥面临三地制度问题，通勤效率受到一定的限制

二、综合题

31.（20 分）读下图回答问题



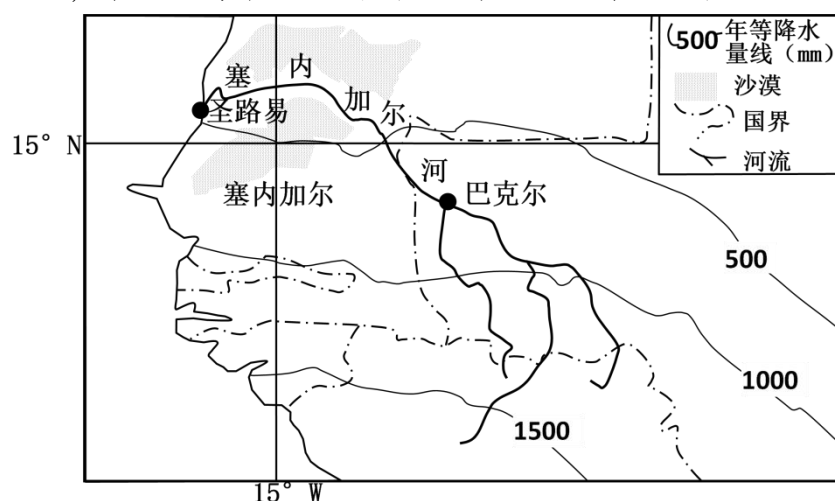
(1) 图中 A、B、C 三地分别与表中的_____、_____、_____ (填字母) 对应。

(2) 图中 A、B、C 三地区相比，夏季气温最低的是_____区，原因是_____；A、B 两地区相比，降水量较少的是_____区，原因是_____。

(3) B 地区的植被自东向西依次为_____、_____、_____。

32. (20 分) 阅读下列材料，回答以下问题。

材料一 塞内加尔河是西非重要的河流，自上而下流经不同的气候区，各地降雨量相差很大，有明显的季节变化。下图为塞内加尔河水系示意图。



材料二：塞内加尔地处非洲西部，地形以平原为主。西非最古老的海港圣路易是塞内加尔河下游地区重要的城市，位于塞内加尔河口地区。其城市的发展始于 1626 年法国殖民者的侵入，1902 年前商业繁盛。自通往首都达喀尔的铁路建成后，渐成为达喀尔的辅助港和重要渔港。

(1) 描述图示区域降水量的空间分布特征，并分析原因。(6 分)

(2) 分析 17 世纪早期法国殖民者率先选择在塞内加尔河河口建立城市的原因。(6 分)

(3) 2015 年以来，中国政府多次派专家帮助塞内加尔发展蔬菜生产。列举在塞内加尔河下游地区大规模种植蔬菜可能遇到的自然灾害，说明圣路易市在应对自然灾害方面可以发挥的作用。(8 分)