

# 哈师大附中2019—2020学年度高一下学期

## 第二次（线上）考试 历史试卷

### 第一部分 选择题（共60分）

1. 西周的诗篇有大量描写“千耦其耘”的劳动场景,到春秋战国时期,出现“五口之家,治百亩之田”的现象。这一变化出现的主要原因是  
A. 铁犁牛耕的使用      B. 分封制崩溃      C. 井田制瓦解      D. 水利工程的兴建
2. 《尉缭子·治本》认为:“夫在芸耨,妇在机杼,民无二事,则有储蓄……春夏夫出于南亩,秋冬女练于布帛,则民不困。”材料反映的是  
A. 商品经济      B. 小农经济      C. 市场经济      D. 计划经济
3. 北朝时均田法令规定奴婢和耕牛均可授田。到了隋代奴婢授田受到限制,耕牛授田逐步取消,唐代则奴婢及耕牛均不得授田,妇女也不得授田。这从侧面反映了隋唐时期  
A. 奴婢现象已经不复存在      B. 男耕女织生产模式初步形成  
C. 儒学复兴影响均田法令      D. 人口增加政府田亩不足分配
4. “权耙扫帚扬场掀,碌碡簸箕使牛鞭;筛子抬筐麻袋囤,胶轮条筐和车绊……锄镰锨镢样样有,各种农具要健全。”该农谣反映出古代农耕经济怎样的特点  
A. 自给自足      B. 家庭经营      C. 男耕女织      D. 精耕细作
5. 古代中国出现“富者田连阡陌,贫者无立锥之地”现象的根源在于  
A. 商品经济的发展      B. 土地私有制度的存在  
C. 土地买卖的盛行      D. 政府不抑兼并的政策
6. 明中后期,租佃关系已普遍采用订立契约的形式。在商品经济发达的江浙等地已经盛行定额租。明中后期租佃关系的发展  
A. 冲击了小农经济      B. 提高农民生产积极性  
C. 激化了阶级矛盾      D. 增加政府财政收入
7. 在中国古代历史上,最稀少和最美的东西,往往会被皇家垄断。宫廷使用和收藏的手工艺品主要来自于  
A. 民间私营手工业      B. 官营手工业      C. 家庭手工业      D. 外国贡品
8. 位于河南安阳的商代好墓,出土的随葬品数量巨大,种类丰富,充分反映了商代手工业制造水平。下列文物应该出土于该墓葬的是



A.



B.



C.

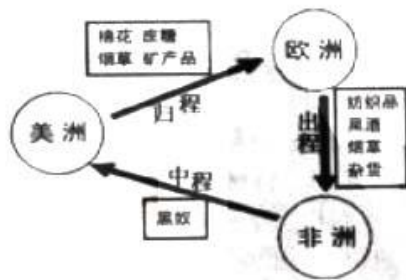


D.

9. 扬州是古运河的交通枢纽,在唐代“雄富冠天下”,时称“扬一益二”。出现这一现象的主要因素是  
A. “交子”广泛使用      B. 坊市界限严格  
C. 商业的发展繁荣      D. 商帮活动频繁
10. 下面文本框内是某同学总结的某一时期的经济现象。根据内容判断,他学习的主题应该是

1. 民营手工业占据主导地位
2. 大量白银流入中国，成为流通货币
3. 甘薯、玉米等外来作物引入中国

- A. 西汉的农业      B. 唐朝的商业      C. 元朝的外贸      D. 明朝的经济
11. 明朝小说《警世恒言》里描写的苏州盛泽镇上的施复夫妇，靠养蚕织绸生活，本是小户人家……几年后他们增买了三四张织机雇人织绸。由此可知
- ①施复夫妇是机户      ②当时江南地区出现资本主义萌芽
  - ③当时农业还较落后      ④自然经济仍占主导地位
- A. ①③      B. ①②      C. ②④      D. ③④
12. 《广志绎》称：明代万历时，“天下马（码）头，物所出所聚处，苏、杭之币（丝织品），淮阴之粮，维扬之盐……无锡之米”无所不有。这说明当时
- A. 商品经济繁荣      B. 抑商政策废弃      C. 坊市制度形成      D. 自然经济瓦解
13. “它扩展了人类活动的范围，海洋在人类文明中的地位迅速上升，世界的人种地理分布、宗教与文化格局开始发生重大的变化。”带来这种重大影响的事件是
- A. 郑和下西洋      B. 海上丝绸之路的开通
- C. 新航路的开辟      D. 立体交通时代的到来
14. 下图为三角贸易示意图。下列关于三角贸易所产生的影响表述错误的是



- A. 导致非洲丧失大量劳动力，但促进了非洲文明的进步
- B. 为美洲新大陆开发提供了劳动力
- C. 客观上有利于近代整体世界的形成
- D. 促进了欧洲资本原始积累，推动了资本主义发展
15. 经过长期的殖民争夺，到 18 世纪中期，英国最终确立了世界殖民霸权，自诩为“日不落”帝国。期间与英国进行过激烈殖民争夺的列强有
- A. 葡萄牙、西班牙、德国      B. 葡萄牙、荷兰、美国
- C. 意大利、西班牙、法国      D. 西班牙、荷兰、法国
16. 它是资本主义发展史上用机器大生产代替手工劳动的飞跃；它既是生产技术的一次革命，也是生产关系的一场革命；它为世界市场的发展和人类文明进步奠定了雄厚的物质基础和先进技术基础。材料中的“它”是指
- A. 英国对外扩张      B. 工业革命
- C. 第二次工业革命      D. 信息技术革命
17. 在第一次工业革命中出现的新的生产组织形式是
- A. 手工作坊      B. 手工工场
- C. 工厂      D. 垄断组织
18. 第二次工业革命中，既解决了交通工具的动力问题，又推动了石油开采业发展的重大发



明是

- A. 珍妮机                      B. 蒸汽机                      C. 织布机                      D. 内燃机

19. 第二次工业革命促成了工业生产结构的巨大变化, 其表现为

- A. 轻纺工业占据工业生产的主导地位                      B. 重化工业成为工业生产主要成分  
C. 信息技术产业成为领先行业                      D. 环保产业异军突起

20. 史料记载, 19 世纪的最后三十年, 一些作为“未来”工业时代标志的新兴工业, 像电气工业、化学工业、光学工业等, 得到最早的开发和扶植。下列项中, 为电气工业发展奠定基础的是

- A. 西门子大功率发电机                      B. 贝尔的电话机  
C. 纽约市珍珠街发电厂                      D. 马可尼的无线电报


21. 19 世纪中期以后, 上海、武汉、南京、广州、福州等地的市场上外国商品日益增多, 洋钉子、洋纱等用品在距离这些城市较远的乡村都有出售, 而且充足。这种状况表明

- A. 自给自足的自然经济彻底解体了  
B. 中国关税主权开始丧失  
C. 近代中国市场主动开放, 惠及乡村  
D. 民众生活与世界市场联系日趋密切

22. 厦门被开放为通商口岸以前, 产自江浙和福建的棉布十分畅销, 但自从开埠通商后, “江浙之棉布不复畅销, 商人多不贩运。”造成这种变化的主要原因是

- A. 土产棉布质量的下降                      B. 交通运输的不便  
C. 人民生活水平的下降                      D. 洋布洋纱的冲击

23. 下图是洋务运动时期某企业的中国工匠独立制造的“平远”号铁甲舰, 其性能不亚于北洋舰队从国外购买的“远”字号战舰。该企业是



- A. 开平煤矿                      B. 福州船政局                      C. 大生纱厂                      D. 汉阳铁厂

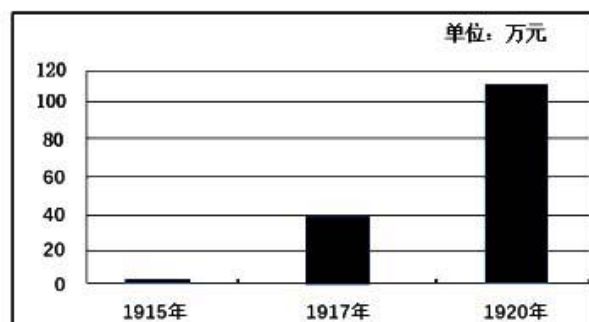
24. 1872 年创办的上海轮船招商局是中国最早的航运企业, 1873 年创办的继昌隆缫丝厂使用机器进行生产。上述企业所反映的民族工业产生路径包括

- ①外商投资                      ②洋务派创办                      ③商人投资                      ④手工工场转型  
A. ①②                      B. ①③                      C. ②③                      D. ②④

25. 有学者说: “1895 年以后民营工业之所以发展较快, 乃外人大量设厂所激起之经济民族主义使然。外人大量设厂之后, 一面有民间提倡挽回利权, 一面有清廷倡导于上。”该学者认为民族工业发展的原因有

- ①自然经济开始解体                      ②清政府放宽对民间设厂的限制  
③实业救国思潮涌现                      ④欧洲列强暂时放松对华经济侵略  
A. ①②                      B. ②③                      C. ①④                      D. ③④

26. 1915 年, 民族资本家荣氏兄弟创办了申新纱厂。下图是该厂建厂初期的盈利情况, 图中数据能够说明



- A. 清朝末年洋务企业的兴起                      B. 甲午战争后民族工业的产生
- C. 民国初期民族工业的发展                      D. 国民政府前十年经济的增长
27. 19 世纪 80 年代，是否修建铁路成为社会争论的焦点，有一批官员认为，修建铁路使“山川之神不安，即旱涝之灾易召。”材料反映了当时中国修建铁路的阻力是
- A. 社会动荡不安                                      B. 西方列强的侵略
- C. 经济实力不足                                      D. 思想观念的陈旧
28. 戊戌变法时期，有人做诗曰：“大半旗装改汉服，宫袍裁作短衣裳，脚跟形势先融化，说道莲钩六寸长。”此诗主要反映的历史现象是
- A. 易服、不缠足运动                              B. 反清革命
- C. 倡导婚姻自由                                      D. 工业化政策
29. 下列歌谣中，不能反映民国初年社会风尚的是
- A. 结婚证书当堂读，请个前辈来证婚
- B. 文明洋伞小包裹，长筒洋袜短脚裤
- C. 辫线斜拖三尺短，之乎者也说荒唐
- D. 改良的头，改良的花，改良的姑娘大脚丫
30. 《申报》在 20 世纪 30 年代常刊登“共用黄汽车”“云飞汽车，日夜出租”“教授驾驶汽车，包领驾驶执照”等广告。这说明当时的上海
- A. 交通工具趋同化                                      B. 交通迈向近代化
- C. 汽车驾驶普及化                                      D. 汽车制造国产化

## 第二部分 非选择题（共40分）

31. （12 分）阅读下列材料，回答问题。

材料一 唐前期，随着农业和手工业的发展，商业和交通也迅速发展起来。所有政治性城市都在程度不等地迅速增强其商业功能，例如京城长安既是全国的政治中心，又是最大的商业城市，外商云集，“胡风”甚盛。此外，当时各大城市和州以及多数县的治所都设有“市”。

——摘编自张传玺《简明中国古代史》

材料二 （汴梁）沿河设市，临街开铺到处都是繁华而杂乱的商业街。官民杂处，商民混居，在潮水一般的世俗生活力量的推动下，“夜禁”也被突破，出现了繁华的夜市。

——吴均《宋：现代的拂晓时辰》

材料三 （清代）中国城市不像当时欧洲城市……商人的绝大部分没有形成成为投资城市工业、吸收剩余劳动力的社会力量，反而购地收租，跻身于官僚与地主相结合的乡绅阶层。

——马克垚《世界文明史》

请回答：

（1）依据材料一，概括唐前期商业发展的表现。（4 分）



(2) 依据材料二，概括宋朝“市”的特点。(6分)

(3) 材料三所描述的现象是受哪些政策的影响?(2分)

32. (12分) 阅读下列材料，回答问题。

材料一 哥伦布发现美洲以及接踵而来的葡萄牙人、英国人、法国人等，通过对新土地的殖民和占有，与土著居民的接触、交往和融合，给欧洲人送去了新世界的文明，还使新旧大陆的物产得以交换和传播……没有美洲贡献的大量金银与物质财富，没有北美的自由移民垦殖区，西方资本主义的发展将会缓慢得多，英国也不可能成为发动工业革命的国家……东西两半球的不同文化圈的大汇合，加速了人类从传统农耕文明向现代工业文明转变的过程。

——黄邦和《通向现代世界的500年：哥伦布以来东西两半球汇合的世界影响》

材料二 火车、轮船、电报等新式交通工具和电讯器材的出现，把世界各地的生产、流通和消费紧紧联结在一起。1869年苏伊士运河通航，使欧洲到印度的航路缩短了4000英里……轮船的不断更新，使航速大大提高，欧美航程从42天缩短为5天。

——斯塔夫里阿诺斯《全球通史》

请回答：

(1) 依据材料一，归纳新航路开辟的影响。(8分)

(2) 概括材料二所反映的社会经济现象，结合所学知识简要说明其形成的原因。(4分)

33. (16分) 阅读下列材料，回答问题。

材料一 1868年，瑞蚨祥在山东济南成立，1893年设立了北京分号。在短短几年内几乎垄断了京城的绸布行业。同时在天津、青岛、烟台、上海等地的分号相继设立。

材料二 1887年5月，李鸿章上奏朝廷，建议开办淄川铅矿；1887年，山东巡抚张曜又主持开办了淄川煤矿。第二年开始使用少量机器进行开采。

材料三 1956年，瑞蚨祥公司向毛泽东主席呈写了《瑞蚨祥公司生产情况报告》。毛主席指示“历史名字要保存，瑞蚨祥、同仁堂一万年要保存！”

请回答：

(1) 材料一、二中瑞蚨祥与李鸿章、张曜开办的企业各属于哪一类企业？李鸿章当时属于哪一运动的代表人物？(6分)

(2) 上述企业的创办，反映了当时中国经济结构发生了怎样的变化？(6分)

(3) 指出材料三中毛主席的指示有何重要意义？(4分)