

## 高二政治试卷

命题人：田桂玲

注意事项：

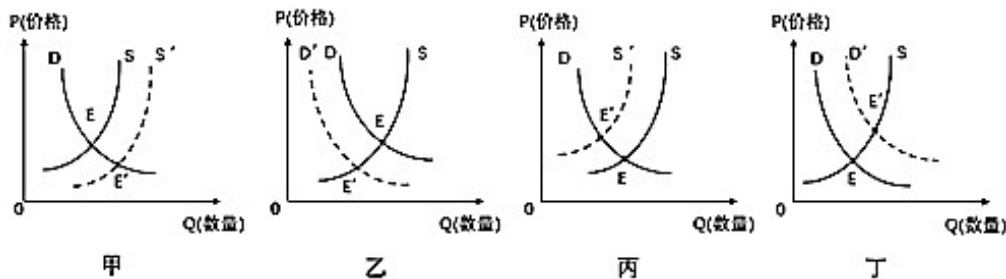
1. 本试卷分第Ⅰ卷（选择题）和第Ⅱ卷（非选择题）两部分。总分 100 分，考试用时 90 分钟。
2. 回答第Ⅰ卷时，选出每小题选出答案后，用铅笔把答题卡上对应题目的答案标号涂黑，如需改动，用橡皮擦干净后，再选涂其他答案标号。写在试卷上无效。
3. 回答第Ⅱ卷时，将答案写在答题卡上，写在试卷上无效。

### 第Ⅰ卷（选择题，共 60 分）

本卷共 30 小题，每小题 2 分，共 60 分。在每小题给出的四个选项中，只有一个是符合题目要求的。

1. 电影插曲《卡路里》随着国产影片《西虹市首富》的播出一路走红。影迷们下载《卡路里》作为手机铃声，必须缴纳一定的下载费用。这里的《卡路里》  
①不是商品，因为它只具有满足人们某种需要的属性  
②是商品，因为它凝结着人类的无差别的智慧和劳动  
③不是商品，因为它从网络上下载就能得到，它不是劳动产品  
④是商品，因为它具有使用价值，有价值，能用于交换  
A. ①③      B. ①④      C. ②③      D. ②④
2. 2019 年“十一”期间，李女士看中了一辆标价为 18.6 万元的轿车，经过讨价还价，她支付 17.3 万元买下该车，并缴纳车辆购置税 1.05 万元。在上述材料中  
①标价 18.6 万元，货币执行了价值尺度职能  
②支付 17.3 万元，货币执行了支付手段职能  
③缴纳购置税 1.05 万元，货币履行了支付手段职能  
④17.3 万元和 1.05 万元都充当了商品交换的媒介  
A. ①②      B. ①③      C. ②④      D. ③④
3. 微信是腾讯公司推出的一款多功能应用程序。目前微信用户覆盖 200 多个国家、超过 20 种语言。此外，各品牌的微信公众账号总数已经超过 800 万个，移动应用对接数量超过 85000 个，广告收入增至 3679 亿人民币，微信支付用户则达到了 4 亿左右。对于微信下列说法正确的是  
①微信提供的各种服务是不具有价值的      ②微信支付履行了货币的价值尺度职能  
③微信的商业价值是通过多种形式实现的      ④微信支付属于移动支付，创新了转账结算方式  
A. ①②      B. ①③      C. ②④      D. ③④
4. 2019 年 4 月 1 日人民币对欧元汇率中间价为 7.534 元人民币；而 2019 年 2 月 18 日银行间外汇市场人民币  
汇率中间价为：1 欧元=7.640 元人民币。若不考虑其他因素，下列推导正确的是  
A. 欧元升值→欧洲留学生赴中国留学成本上升→不利于欧洲留学生赴中国留学  
B. 欧元贬值→欧洲商品在中国市场的价格上涨→不利于中国进口欧洲的商品  
C. 人民币升值→中国居民去欧洲旅游成本降低→有利于中国居民去欧洲旅游  
D. 人民币贬值→中国企业在欧洲投资成本上升→不利于中国企业在欧洲投资
5. 甲企业去年生产 M 商品的劳动耗费价值 12 元，产量为 100 万件，M 商品的价格为 10 元。如果今年生产 M 商品的社会劳动生产率提高了 25%，甲企业的劳动生产率提高了 20%，其他条件不变，则甲企业今年 M 商品的销售收入与去年相比  
A. 增加 40 万元      B. 减少 48 万元      C. 减少 40 万元      D. 保持不变

6. 需求曲线(D)与供给曲线(S)相交于E点(平衡点)。如果不考虑其他条件,当某种条件发生变化时,会引起E点向E'点移动。以下对这种移动解释合理的是



- ① 绿色产品日益受到人们青睐,发生甲图变化  
 ② 进口汽车受整车进口关税下调的影响,发生乙图变化  
 ③ 国家加强环保整治力度,某行业限产停产增加,发生丙图变化  
 ④ 受人工智能发展的影响,创新型劳动力的需求旺盛,发生丁图变化
- A. ①②      B. ①④      C. ②③      D. ③④
7. 下图为 2019 年不同收入家庭的消费情况,对此正确的理解有



- ① A家庭的恩格尔系数较高,应为低收入家庭  
 ② B家庭食品消费支出较少,应为高收入家庭  
 ③ 收入因素是影响家庭消费水平的前提和基础  
 ④ 当前我国收入分配领域还存在着不公平现象
- A. ①③      B. ②③      C. ①④      D. ②④
8. “618 网络购物狂欢节”已落下帷幕,有数据显示,不同于往年,2019 年剁手党们使用蚂蚁花呗和京东白条进行了大量透支消费。这些消费者
- ① 是在生存资料消费基本满足后进行发展资料消费  
 ② 是在预支未来收入,“花明天的钱,圆今天的梦”  
 ③ 受到求异和攀比心理影响,日常消费向网络看齐  
 ④ 要注意避免只盯着“满减”优惠活动,盲目跟风
- A. ①②      B. ②④      C. ①③      D. ③④
9. 中央电视台 2019 年“3·15”晚会披露:某女士网上短期消费贷遭遇不法机构,被强行非法扣除 30%的“砍头息”,借 7000 元仅得 4900 元,后因到期无力偿还这笔借款,又反复网贷新款还旧帐,加上逾期费用,短短 3 个月,背上了 50 多万元的巨额债务。该女士的经历警示消费者
- ① 坚持理性消费,拒绝网上消费贷  
 ② 坚持量入为出,避免无度消费贷

③ 增强法律意识, 远离非法消费贷

④ 务必货比三家, 选择线下消费贷

A. ①③

B. ①④

C. ②③

D. ②④

10. 我国经济运行面临的突出问题是结构性失衡, 供给结构跟不上国内中等收入群体扩大而变化的消费结构, 导致经济循环不畅。为此, 我国必须进行供给侧结构性改革, 努力实现供求关系新的动态均衡。下列有利于实现供求关系新的动态均衡的路径是

① 鼓励创新, 增强活力→提高劳动生产率和全要素生产率

② 深化行政管理体制改革→打破垄断, 健全要素市场

③ 提高产品供给质量→更好满足人民日益增长的美好生活需要

④ 深入研究市场变化→了解现实需求和潜在需求

A. ①→③→④→②

B. ④→②→①→③

C. ①→④→②→③

D. ④→①→③→②

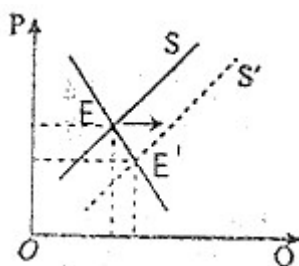
11. 第五代移动通信技术(简称 5G)时代已经来临, 2019 年我国将逐步建立包括云计算、物联网、大数据、产业互联网和工业互联网在内的“万物智联”的生态系统, 不考虑其他条件, 5G 通讯的供需曲线出现图所示的变化(P 为价格, Q 为数量)的原因可能有

① 国家支持建设信息消费体验中心

② 通信技术革新带来 5G 生产成本降低

③ 现代工业的智能化改造亟待提升

④ 通信运营商为应对竞争抢占市场



A. ①②

B. ①③

C. ②④

D. ③④

12. 近年来, 伴随收入水平提升, 城乡居民体育锻炼的积极性不断增强, 人均体育消费水平大幅度提高, “咕咚”、悦跑圈等运动 APP 也迅速挤占了健身爱好者的手机内存。这一现象说明

① 生产决定消费对象的质量和水平

② 消费对生产具有重要的导向作用

③ 收入水平决定消费观念和消费选择

④ 城乡居民消费结构不断优化升级

A. ①②

B. ①③

C. ②④

D. ③④

13. 某西部地区拥有山茱萸、柑橘、大米、黑米、乌鸡、腊肉、茶叶等丰富的物产, 过去主要受制于交通及信息的不畅, 这些东西经常出现“卖难”现象, 而电子商务的发展和高铁开通, 让这些农产品有了稳定的市场销售渠道。这表明

① 信息是沟通生产与消费的桥梁

② 交换方式对生产和消费都有着重要影响

③ 消费是生产的最终目的和动力

④ 生产在社会再生产过程中起决定性作用

A. ①②

B. ③④

C. ①③

D. ②④

14. 2019 年 1 月 22 日《华夏时报》报道：改革开放 40 年，中国经济创造了发展奇迹，民营经济功不可没。在世界 500 强企业中，我国民营企业由 2010 年的 1 家增加到 2018 年的 28 家。“民营经济的发展不是中国的权宜之计。”要进一步促进民营经济的发展，就应该
- ①消除制约民营经济发展的体制、机制等障碍
  - ② 完善产权制度，使公有与非公经济融合发展
  - ③让民营经济在国民经济中起引领、示范作用
  - ④继续坚持、巩固民营经济社会主义经济地位
- A. ①②                  B. ①④                  C. ②③                  D. ③④
15. 我国继续深化农村土地制度改革，实行农村土地所有权、承包权、流转土地经营权分置并行，为解决“三农”问题提供了新的路子。“三权分置”对农村经济发展的意义有
- ①发展土地规模经营，拓宽农民增收渠道
  - ②优化土地资源配置，着力推进农业现代化
  - ③ 变更土地所有权，壮大农村集体经济实力
  - ④完善基本经济制度，促进非公有制经济发展
- A. ①②                  B. ①③                  C. ②④                  D. ③④
16. 近年来，国有企业积极通过与各类非国有资本合作新设公司、推动所属企业增资扩股、改制上市等方式，与各类非国有资本形成了大量混合所有制经济。对此理解正确的是
- ①混合所有制经济是社会主义市场经济体制的根基
  - ② 发展混合所有制经济有利于增强国有资本控制力
  - ③混合所有制是我国基本经济制度的重要实现形式
  - ④国有资本通过混合所有制改革已经占据支配地位
- A. ①②                  B. ①④                  C. ②③                  D. ③④
17. 华为公司是典型的敢于创新领先、做智慧全场景产业的王者，其 5G 技术已经世界领先，首款 5G 手机计在 2019 下半年亮相，同时以客户需求为驱动，提供客户化的产品和端到端的服务，形成著名的“华为优势”。“华为优势”说明
- ①自主研发提高产品价值是企业发展的根本原因
  - ②独特的技术能促进企业竞争优势形成
  - ③ 拓宽产业链能提升企业的竞争优势
  - ④从供给侧不断优化产品实现供需有效对接
- A. ①②                  B. ②④                  C. ①③                  D. ③④
18. 就业是民生之本、财富之源。当前和今后一个时期，我国必须把就业摆在更加突出的位置。为促进就业创业，可以采取的合理措施是
- ①动员社会力量开展职业技能培训                  ②鼓励企业降低用工学历要求
  - ③要求企业增设岗位扩大用人规模                  ④依法维护劳动者的合法权益
- A. ①②                  B. ①④                  C. ②③                  D. ③④

19. 狗年除夕夜，由无人车、无人船、无人机组成的全球首个“陆海空”无人系统联合展演在世界最长的跨海大桥—港珠澳大桥上演，由百度 Apollo 无人车组成的百余辆车，成为首批跑上港珠澳大桥的车队。人们在为人工智能迅猛发展而欢呼的同时，也开始担忧自己的就业前景。面对这种情况

- ①劳动者要努力提升个人综合素质，增强就业创业能力
- ② 企业可借助人工智能扩大生产规模，降低社会失业率
- ③政府应实施更加积极的就业政策，实施就业优先战略
- ④发展中国家生产力水平较低，可避免人工智能的挑战

A. ①③                  B. ②④                  C. ②③                  D. ①④

20. 中国人民银行决定于 2019 年 1 月下调金融机构存款准备金率 1 个百分点。这意味着

- A. 国家加强金融风险管控                  B. 存款储蓄利息收益减少
- C. 市场上流通货币量增大                  D. 政府实施积极财政政策

21. 金融是现代经济的核心。金融是国家重要的核心竞争力。金融要为实体经济服务，满足经济社会发展和人民群众需要。金融活，经济活；金融稳，经济稳。经济兴，金融兴；经济强，金融强。经济是肌体，金融是血脉两者共生共荣。金融业要为实体经济发展提供更高质量、更有效率的金融服务。下列属于金融业服务实体经济的是

- ①通过股票市场为实体经济融资
- ② 通过商业银行为实体经济筹资
- ③通过债券市场为公司发行股票
- ④通过保险市场为实体经济雇工

A. ①②                  B. ①④                  C. ②③                  D. ③④


22. “可转换公司债券”是上市公司发行的一种含权债券。在债券状态下，利息比普通债券低；但此投资可除了拥有债权之外，还拥有转股权，即购买人可自主选择在规定时间范围内将其购买的债券以事先约定的转股价格转换成指定公司的股票。由此可见

- ①若“可转债”转换成股票，可以降低投资者的投资风险
- ②企业发行“可转换债券”，有利于降低其融资成本
- ③ 投资者可同时享有债券收益和股票收益
- ④若“可转债”转换成股票，投资者由债权人转变为公司的股东

A. ①②                  B. ②③                  C. ②④                  D. ③④

23. 一位投资者谈到自己的投资经历时表示，不知不觉自己做投资已经六年多了，曾经辉煌过，也低迷过，一路走来经历了很多很多，既经历过翻十倍的投资回报，也经历过短短一周亏得血本无归。根据下图判断，该投资者的投资类型

- A. 可能是①，风险大，但收益低
- B. 可能是④，收益高，但风险大
- C. 可能是③，风险小，但收益高
- D. 可能是②，风险与收益成正比



24. 2019 年的中央一号文件提出要稳步扩大“订单农业+保险+期货（权）”试点，即通过保险公司与农户签订保底租地协议，保证农户最低收入，同时可以分享价格上涨的红利，有效降低农、企合作中易出现的农户违约风险。对此，下列认识正确的是
- ①发挥社会保险的经济补偿保障功能，实现农企合作共赢
  - ② 显示出保险的互助特征，提升全产业链的风险管控能力
  - ③是对传统农业补贴模式的改变，实现农产品“有效供给”
  - ④提高农户生产经营中的抗风险能力，提高农民生产积极性
- A. ①②                      B. ③④                      C. ①③                      D. ②④
25. 习近平指出，马克思主义不仅深刻改变了世界，也深刻改变了中国，使中国这个古老的东方大国创造了人类历史上前所未有的发展奇迹。前进道路上，中国共产党将继续高扬马克思主义伟大旗帜，这是因为
- ①中国特色社会主义进入了新时代，马克思主义要不断与时俱进
  - ②马克思主义是革命的理论，是指导无产阶级“改变世界”的科学
  - ③ 马克思主义能为中华民族伟大复兴提供科学的世界观和方法论
  - ④马克思主义是真理，坚持用马克思原著指导社会主义现代化建设
- A. ①②                      B. ①④                      C. ②③                      D. ③④
26. 近日,我国科学家成功完成了小麦 A 基因组的测序和染色体精细图谱的绘制,全面揭示了小麦 A 基因组的结构和表达特征。该成果将对深入和系统研究麦类植物的结构与功能基因组学,进一步推动栽培小麦的遗传改良具有重要理论意义和实用价值。这表明
- ①人类意识活动具有自觉选择性和主动创造性
  - ② 认识是不断克服谬误而逐步接近真理的过程
  - ③人们可在规律指导下能动地认识和改造世界
  - ④真理因人们认识途径的不同而有不同的标准
- A. ①③                      B. ①④                      C. ②③                      D. ②④
27. 一个关于月球起源的假说——月球岩浆洋理论，认为月幔是由橄榄石等较重的矿物下沉形成的。2019 年 1 月 3 日，“嫦娥四号”探测器着陆在月球背面，成功获取了着陆区高质量光谱数据。我国某科研团队通过对数据的分析证实了月幔富含橄榄石的推论，为完善月球形成与演化模型提供支撑。这一研究成果体现了
- ①意识活动具有主动创造性，有利于揭示自然界之谜
  - ②人能通过实践把观念中的改造对象变成现实的东西
  - ③ 认识发展是推动科学实验的根本动力，推动人类探索月球
  - ④实践的发展提供了新的认识工具，促进人类认识的发展
- A. ①②                      B. ①④                      C. ②③                      D. ③④
28. 下图漫画“低头族”讽刺现实生活中的某些人
- A. 主次不分，没有抓住主要矛盾
  - B. 急功近利，没有注重量的积累
  - C. 墨守成规，没有坚持发展的观点
  - D. 囫囵吞枣，没有坚持辩证否定观



29. 在《携手努力共谱合作新篇章》重要讲话中,习近平主席指出,中国将坚持扩大对外开放,增加商品和服务进口,扩大外资市场准入,加强知识产权保护,形成全方位、多层次、宽领域的全面开放新格局。中国这样做是基于

- ①事物间的相互联系构成了事物的变化和发展      ②整体统率着部分,要立足部分,统筹全局  
③分析和把握了事物存在和发展的各种条件      ④离开了人为因素,国与国的联系就不能实现

A.①③      B.①④      C.②③      D.②④

30. 每一位时代楷模都是时代的代言人,在他们身上,我们能看到清晰的时代印记,如改革、创新:每一位时代楷模都是高风厚德的传承者,在他们身上,我们能够清晰地感受到道德的魅力和吸引力。我们要做到时刻与时代楷模同行。从时代楷模身上我们可以感受到

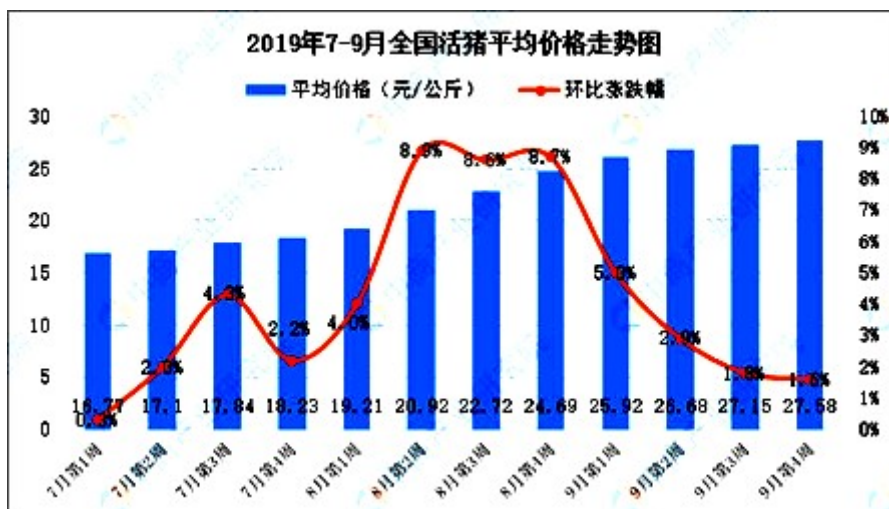
- ①人生的真正价值在自我价值的实现程度      ②价值判断和价值选择的社会历史性特征  
③价值观对人们价值选择的制约和导向作用      ④价值选择的差异导致人们价值观的差异

A. ①②      B. ①④      C. ②③      D. ③④

## 第 II 卷(非选择题,共 40 分)

31. 阅读材料,完成下列要求。

材料一:中国是世界上最大的猪肉生产国和消费国,生猪产量约占世界总量的一半,猪肉占居民肉类消费的 62.7%。非洲猪瘟疫情发生以来,猪肉市场波动始终是各方关注的热点。下图为我国今年 7-9 月全国活猪价格走势



材料二:针对猪肉供应紧张和价格上涨问题,近期,国家发改委会同有关部门制定出台保供稳价的方案和措施,大力支持生猪养殖能力建设,增强储备调控能力,切实做好困难群众基本生活保障等。为了填补市场缺口,中国正在增加进口,并从中央储备中释放冷冻猪肉。但着眼于一个长期的解决方案,中国正在鼓励大规模养猪。为了稳定猪肉供应,中国决定从中央预算中向大型养猪场提供补贴,以支持其设施建设。补贴在 50 万元到 500 万元之间。

稳定猪肉价格,关键在于稳定生猪生产。据农业部表示,自 8 月底以来,中国已经出台了 17 项措施来支持生猪生产,其中大部分已经实施。伴随着国内补栏积极性的回升,以及政府各项鼓励生猪养殖的政策开始落实,今年年底前生猪产能将探底趋稳,猪肉市场供应有望逐步稳定和恢复。

请结合材料分析猪肉价格大幅上涨带来的影响。(16 分)

**32. 阅读材料，完成下列要求。**

材料：近年来，随着我国经济的中高速增长，居民收入的不断增加，人们对新能源汽车的需求越来越多。并且越来越多的消费者在选择私家车时坚持讲求实惠、低碳环保的生活理念，这使得新能源汽车消费热点也渐趋成熟。新能源汽车拥有量的快速增长，拉动了电池、快速充电桩等产业的发展，相关的汽车服务业也得到了空前的发展。

运用消费的相关知识，分析材料中体现的经济生活道理。（12 分）

**33. 阅读材料，完成下列要求。**

材料：目前我国制造业大而不强，突出表现在缺少核心技术，缺少创新设计等方面。作为制造业大国，在 500 多种主要工业品中，中国有 220 多种产量世界第一。然而，值得骄傲的成绩背后却是无法回避的尴尬；在世界制造业品牌百强中，至今没有中国品牌入围。如今人们已经从对实物的简单需求，转向对品质、品牌的体验需求，要求生产企业也要向这方面转型，实现创新发展，这是中国制造由大到强必须练就的内功。伴随 5G 技术商用化的推进，我国制造业也将迎来发展的大好机遇。

结合材料，运用企业经营的相关知识，说明我国制造企业如何实现创新发展？（12 分）