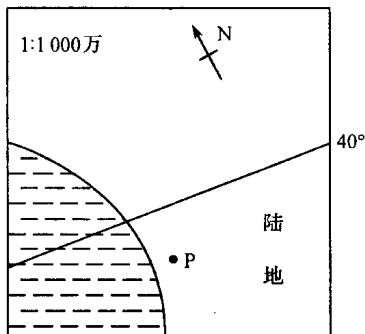


江苏省南通中学线上课程居家测试

高二地理参考答案

- 1、C 2、A 3、D 4、B 5、B
6、C 7、C 8、B 9、B 10、A
11、C 12、B 13、B 14、C 15、B
16、A 17、D 18、B 19、A 20、A
21、C 22、C 23、C 24、B 25、B
26、C 27、C 28、C 29、C 30、A
31、C 32、D 33、A 34、B 35、A
36、D 37、A 38、B 39、D 40、D
41、B 42、B 43、A 44、D 45、B
46、B 47、C 48、A 49、C 50、B

51. 读图分析P点的位置（图中直线是一条纬线），回答下列问题。（2分）

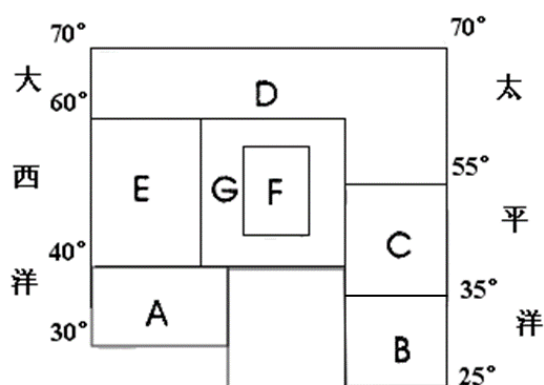


（1）若P点常年受西风的影响，则P的位置正确的是 D （填写字母代号）。

- A. 欧洲西部 B. 美国西部沿海 C. 非洲西南沿海 D. 南美洲西南沿海

（2）若P地季节性受西风影响，则该地的气候类型是 地中海气候 ，

52. 读“亚欧大陆部分地区自然带分布模式图”，完成下列要求。（5分）



(1) 写出字母表示的自然带名称：A 亚热带常绿硬叶林带；

(2) 图中各自然带中，E和C自然带的名称相同，对应的气候类型不同；

G和F自然带的名称不同，对应的气候类型相同（填写字母代号）。

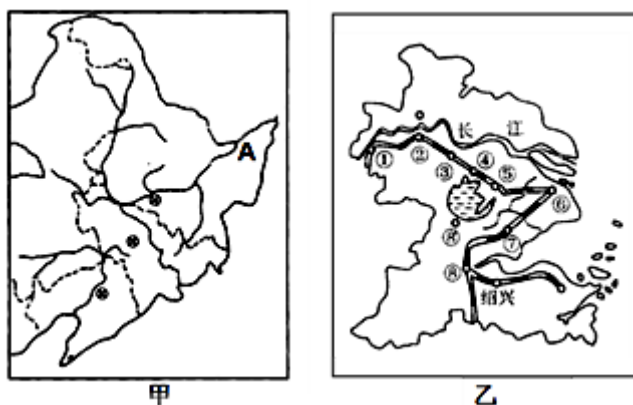
(3) 自然带由A→E→D的变化体现了自然带纬度地带性（由赤道到极地）的地域分异；

(4) 简析自然带D的分布南界，在大陆西部偏北（60° N），大陆东部偏南（55° N）的原因。（1分）

大陆西岸受暖流影响，对沿岸有增温增湿的作用。（1分）

（或）大陆东岸受寒流影响，对沿岸有降温减湿的作用。

53. 下图为“我国甲、乙两个区域简图”，读图完成下列问题。（7分）



(1) 甲乙两区域主要农业地域类型分别是商品谷物农业和水稻种植业。

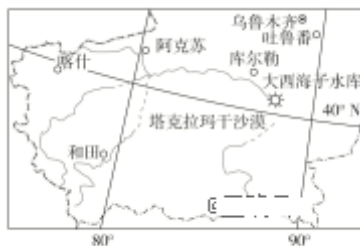
(2) 简述甲图A处湿地的功能：_

①调节气候②保护生物多样性③涵养水源④净化水质。（任意两点2分）

(3) 乙地区原是我国重要的商品粮基地，近年来商品粮基地地位不断下降，分析其原因①农

业生产结构的调整②城市化进程使耕地减少③生态退耕。（3分）

54. 读塔里木河流域图，回答下列问题。(7 分)



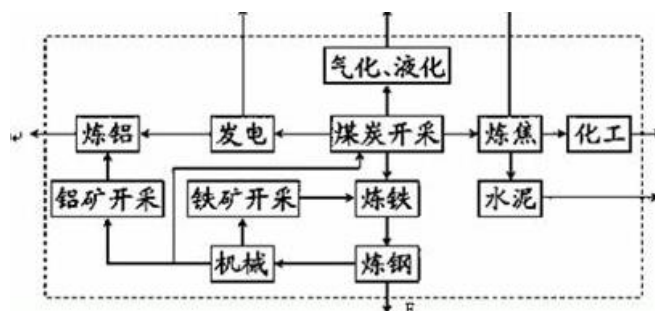
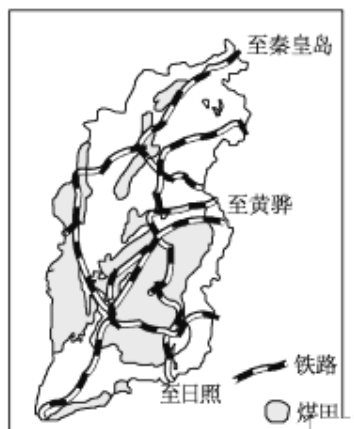
(1) 塔里木河主要依靠 冰雪融水 补给，流域内主要的新能源有 太阳能 或 风能

(2) 简述塔里木河的水文特征。(3 分)

①主要为内流河，流量小②径流量季节变化大，主要靠冰雪融水补给为主、汛期在夏季；③含沙量大④有冰期

(3) 20 世纪 50 年代，在塔里木河的下游修建了大西海子水库，水库建成后库区周边气候可能发生的变化有 温差变小、湿度变大；

55. 读山西省煤田分布图和山西省煤炭的综合利用图，回答问题。(4 分)



(1) 简述山西煤炭综合利用如何促进该地可持续发展的？(4 分)

生态：①减少废弃物的排放，有利于改善区域生态环境（保护环境）（1分）

经济：②有利于优化产业结构③延长产业链，增加附加值④提高经济效益（2分）

社会：①增加就业机会（1分）