

## 2020 年春季高一开学测试政治试题（答案附后）

本卷共 50 个小题,每小题 12 分,共 100 分。在每小题给出的四个选项中,只有一项是符合题目要求的。

1.疫情期间,在某电商平台官网上,原价只有 1 元的某品牌口罩,在二手市场的价格短时间内暴涨到 5 元,涨了 5 倍。“口罩热”的出现

- ①与商家的供应不足有关      ②完全是“炒作”的结果  
③是价值规律作用的必然结果      ④是社会总体收入水平提高的表现

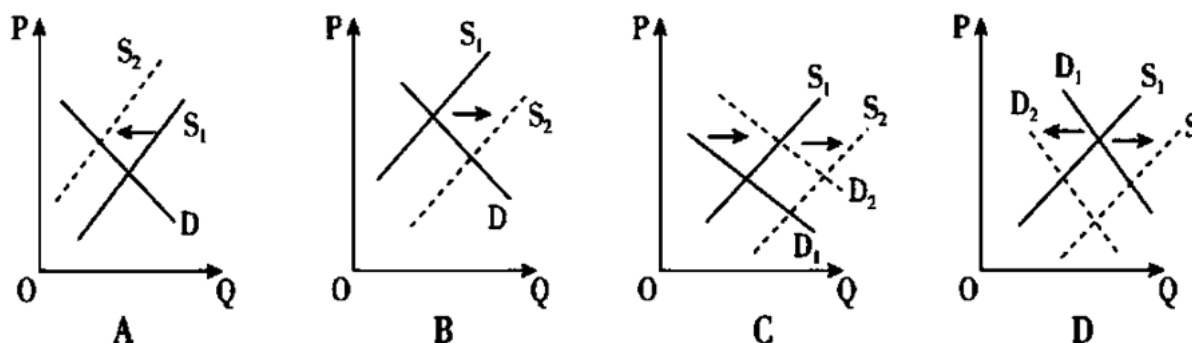
A.①③      B.①④      C.②③      D.②④

2.刷脸支付的过程非常简单,用户只需要面对 pos 屏幕上的摄像头,刷脸支付系统就会自动将消费者的面部信息与个人帐户关联起来,实现高效快捷的支付。刷脸支付的普及

- ①会提升用户移动支付体验      ②会进一步增强消费者的支付安全  
③会弱化货币的流通手段职能      ④会带动相关移动支付产业链的发展

A.①③      B.①④      C.②③      D.②④

3.据统计,2019 年我国彩电开机率下降到 30%,使用者年龄大部分在 40 岁以上;同时,劳动生产率大幅度提高、彩电成本大幅度降低。这两大因素给彩电市场带来的巨大影响如下图所示(图中 P 代表价格,Q 代表需求量, $S_1$ 、 $S_2$  代表变化前后的供给曲线, $D_1$ 、 $D_2$  代表变化前后的需求曲线)。据此判断,我国彩电价格走势将是 D



4.右图漫画启示消费者在消费时需要

- A.诚信经营,开展规范促销  
B.避免盲从,进行理性消费  
C.勤俭节约,节制正常消费  
D.保护环境,崇尚绿色消费



5.专家表示,2019 年我国人均 GDP 超过 1 万美元,文化和旅游消费已经成为人们美好生活和精神追求方面不可或缺的一部分。这意味着大众旅游时代已经来临,多层次、多元化的文旅需求和消费市场格局开始形成。这表明我国

- ①居民消费结构得到优化      ②居民消费具有盲目从众性  
③文化旅游产业发展前景光明      ④居民储蓄率下降、消费率上升

A.①②      B.①③      C.②④      D.③④

6.近年来,中央企业混合所有制改革步伐加快,改革成果令各方瞩目。数据显示,中央企业已经实施混改 3700 多项,引入非公资本超过 1 万亿元人民币,混合所有制企业户数占比超过 70%。混合所有制改革对发展国有经济的作用为

- A.壮大集体经济,增加公共积累  
B.使国有资产在社会总资产中占优势  
C.放大国有资本功能,促进其保值增值

D.使国有经济成为社会主义市场经济重要组成部分

7.2019 年 12 月,山西省发改委批复了太原市城市轨道交通 1 号线一期工程可行性研究报告。项目总投资估算 224.587 亿元,拟采用 ppp 模式实施。ppp 模式即政府和社会资本合作,是公共基础设施中的一种项目运作模式。该模式鼓励私营企业、民营资本与政府进行合作,参与公共基础设施建设。这一模式

- ①有利于拓宽社会资本的投资领域      ②表明社会资本积极参与公益事业
- ③有利于促进资源合理配置              ④会消除当地政府存在的财政赤字

A.①②                  B.①③                  C.②④                  D.③④

8.法人是具有民事权利能力和民事行为能力,依法独立享有民事权利和承担民事义务的组织。

下列具有法人资格的有

- ①合伙企业      ②上市公司      ③有限责任公司      ④股份有限公司分公司

A.①②                  B.①④                  C.②③                  D.③④

9.赞皇“土布”曾因为一家一户的力量有限,经济效益太低,导致产销不旺。后来,赞皇县成立从棉花种植到纺织精深加工为一体的专业合作社,开展统一的社员培训、新产品研发和产品展销,让这种传统工艺焕发新生。这一模式

- ①有利于降低一家一户经营的风险              ②会减轻纺织品市场竞争的压力
- ③延伸了“土布”产品的价值链              ④打破了“土布”纺织市场的垄断

A.①②                  B.③④                  C.①③                  D.②④

10.2019 年 12 月,一家 A 股汽车零部件行业上市公司完成了对某德国老牌汽配公司

84.23%股权的收购,收购价总额超过 37 亿元。企业并购

- ①会提高宏观调控水平              ②会导致劣势企业破产
- ③有利于扩大企业规模              ④有利于提高市场份额

A.①②                  B.①④                  C.②③                  D.③④

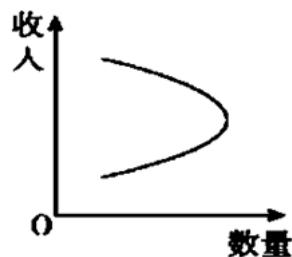
11.陕西省榆林市政府大力支持民营企业发展,其一是实施“企业白领计划”,选聘 1250 名优秀高校毕业生到 500 多家民营企业工作,连续三年发放薪酬补贴;其二是采取措施加快民营企业人才孵化基地建设,引导规模以上民营企业建立院士博士工作站。这一做法

- ①符合积极就业政策的要求,有利于扩大就业
- ②表明我国高校毕业生已经具备多种方式就业观
- ③说明人才是先进生产力的集中体现和主要标志
- ④有利于缓解制约当地民营企业发展的人才短缺问题

A.①②                  B.①④                  C.②③                  D.③④

12.右图曲线描述的是人们收入增加对某种商品需求量变化的影响状况,对此判断正确的是

- A.随着收入的增加,人们对该商品的需求逐渐减少
- B.该商品有可能是低档商品,人们对其需求先增多后减少
- C.该商品有可能是高档商品,人们对其需求先减少后增多
- D.图示表明不同商品需求对价格变化的反应程度不同



13.“996 工作制”指的是早上 9 点上班、晚上 9 点下班,中午和傍晚休息 1 小时,总计工作 10 小时以上,并且一周工作 6 天的工作制度,代表着中国互联网企业盛行的加班文化。对此

- ①劳动者应该发扬崇尚奋斗、热爱劳动的精神
- ②劳动者可依法投诉,劳动监察部门应该加强监管
- ③企业应该遵守劳动法规,自觉维护劳动者的合法权益
- ④政府应该加强失业救助,提供全方位公共就业服务

A.①②                  B.①④                  C.②③                  D.③④

14.2019 年 11 月,我国商业银行合计发行金融债券 1790 亿元,环比增幅高达 1266%。投资者购买金融债券

- A.会成为发行银行的股东      B.可以增加国家的财政收入  
C.有助于扩大银行的贷款业务      D.利率通常低于一般的企业债券

15.对右图所示的保险认识正确的有

- ①旅游保险可以把风险转移给保险公司,避免风险发生  
②此类保险属于社会保险,是社会保障制度的组成部分  
③此类保险具有“我为人人、人人为我”的互助特征  
④保险双方要遵循公平互利、协商一致、自愿订立原则

- A.①②      B.①④      C.②③      D.③④



16.改革开放以来,我国农村贫困发生率逐年下降,从 1978 年的 97.5%下降到 2018 年的 1.7%。

这主要得益于我国

- ①在生产发展基础上,有效处理了公平与效率的关系  
②重视消费对生产的反作用,不断增强居民消费能力  
③重视居民供给结构的改善,使恩格尔系数逐年降低  
④以共同富裕为根本目标,贯彻城乡协调发展的理念

- A.①②      B.①④      C.②③      D.③④

17.党的十九大报告指出,要激发和保护企业家精神,鼓励更多社会主体投身创新创业。一名优秀的创业者应该具备

- ①较强的风险承担能力      ②持续不断进行创新的能力  
③消除市场调节缺陷的能力      ④向工会提起诉讼的维权能力

- A.①②      B.①③      C.②④      D.③④

18.下列选项中有利于提高我国劳动报酬在初次分配中比重的是

- ①在劳动生产率提高的同时实现劳动报酬同步提高  
②降低个人所得税起征点,减轻中等收入群体的经济负担  
③鼓励技术、资本、土地、管理等生产要素按贡献参与分配  
④强化最低工资制度在保障中低收入者劳动收入方面的作用

- A.①③      B.①④      C.②③      D.②④

19.某外贸公司虚列出口货物数量、虚报出口货物价格,违法取得国家出口退税款。这一行为

- ①违背了税收固定性,属于偷税行为      ②违背了税收的强制性,属于欠税行为  
③不利于为国家公共服务筹集财政资金      ④用欺骗方法获得国家税收优惠,属于骗税行为

- A.①②      B.①④      C.②③      D.③④

20.要解决下图漫画中反映的问题,需要



- A.促进国民经济保持高速增长      B.增加低收入者收入,取缔过高收入  
C.大力推进减税降费,降低企业负担      D.坚持在经济增长的同时实现居民收入同步增长

21.当一国经济出现下滑时,政府往往会采取积极的财政政策进行应对,该政策在实施的过程中常常会使用增发国债,扩大财政赤字等措施。下列传导关系正确的是

- ①通货膨胀加剧      ②拉动经济增长      ③财政赤字扩大      ④增加社会总供给      ⑤增加社会总需求

- A.③→④→②      B.④→⑤→②      C.③→⑤→②      D.①→⑤→②

22.国家商务部决定取消汽车整车、专用车、农用车和摩托车中外合资生产企业中的中方股份不得低于 50%的持股比例限制,下列选项所用宏观调控手段与上述措施相同的是

- A.国家工信部发放了国内首批 5G 手机入网许可  
B.国务院陆续提高 18 种主要农产品的收购价格  
C.国家制定实施“十三五”经济发展规划  
D.国家相关部门依据《反不正当竞争法》规范经济活动

23.在 2019 年的“6.18”电商促销季,很多物流公司遭遇了司机紧缺的窘境。一些物流公司甚至上演了“抢人”的无奈之举。工作强度大、运输成本高、安全没保障成为了很多货车司机选择退出的主要原因。下列选项中有助于解决物流公司“用工荒”举措的是

- ①物流公司利用智能化平台,优化运力资源配置  
②政府通过提高货运司机岗位津贴增强职业吸引力  
③物流公司提高货运司机的工资,增强工资保障力度  
④交管部门减少对货运司机的处罚,降低运输成本

- A.①③      B.①④      C.②③      D.③④

24.公共物品是消费者可以共同消费或享用的物品。一旦把这种公共物品提供给消费者,便难以防止其他人消费或享用。对此认识正确的是

- A.市场通过价格机制来配置公共物品      B.私人订制的服装属于公共物品  
C.消防等公共物品需要由国家来提供      D.市场对此类物品的调节存在盲目性

25.2019 年 10 月,M 省运用“互联网+”公共资源交易思维建成了公共资源交易平台,连接多个区县分中心、各类市场用户、各个相关系统,通过平台融合、业务融合、数据融合实现业务“一网通办”,交易资源包括建设工程、政府采购、土地矿权等。这一做法的预期效果是

- ①公共资源交易价格降低      ②企业的市场竞争能力提高  
③公共资源交易效率提高      ④企业间竞争更加公平公正

- A.①②      B.①③      C.②④      D.③④

26.2019 年 12 月 10 日至 12 日召开的中央经济工作会议强调,理念是行动的先导,要坚定不移贯彻创新、协调、绿色、开放、共享的新发展理念。对新发展理念的认识正确的是

- ①创新发展注重的是解决发展不平衡问题  
②绿色发展注重的是解决人与自然和谐共生问题  
③共享发展注重的是解决社会公平正义问题  
④协调发展注重的是解决发展内外联动问题

- A.①②      B.①④      C.②③      D.③④

27.现代化经济体系是由社会经济活动各个环节、各个层面、各个领域的相互关系和内在联系构成的一个有机整体。下列不属于现代化经济体系内容的是

- A.创新引领、协同发展的产业体系      B.统一开放、竞争有序的市场体系  
C.效率优先、兼顾公平的收入分配体系      D.多元平衡、安全高效的全面开放体系

28.华为技术有限公司总裁任正非表示,支持公司科研人员用“美国砖”“欧洲砖”“日本砖”修建中华民族的“万里长城”。这一观点

- ①符合技术开发全球化的潮流      ②违背了独立自主创新的要求  
③会促进公司股票不断升值      ④符合国家倡导的开放发展理念

- A.①②      B.①④      C.②③      D.③④

29.十九大报告指出,我国社会主要矛盾已经转化为人民日益增长的美好生活需要和不平衡不充分的发展之间的矛盾。促进这一主要矛盾转化的根本原因是( )

- A.社会经济的发展促进了人民消费观念的更新升级  
B.人民日益增长的美好生活需要促进了矛盾的转化  
C.供给侧结构性改革的成功促进了主要矛盾的转化

D.社会主义市场经济的发展,解放和发展了生产力

30. 中国能办大事。从“两弹一星”到青藏铁路、北京大兴国际机场、粤港澳大桥-----习近平同志指出,我们最大的优势就是社会主义制度能够集中力量办大事,这是我们成就事业的重要法宝。中国能集中力量办大事得益于( )

- ①我国的基本经济制度提供了有力的支撑
- ②坚持独立自主与对外开放
- ③充分发挥政府和市场“两个手”的作用
- ④国家利益、集体利益与个人利益是完全一致的

A.①③ B.②④ C.①④ D.②③

31. 人民币对美元汇率在鼠年春节后首个交易日开盘出现较大幅度变动,人民币对美元汇率以6.90 开盘后,接连跌破 7.00 和 7.01 关口。若不考虑其他因素,由此可能引发的经济现象是( )

- ①我国某出口企业扩大生产规模,积极招募工人
- ②小李一家改变出行计划,把国内游改为国外游
- ③我国某企业减少对美国技术进口,加大自主创新
- ④某美资企业减少在中国投资,将生产线撤回本国

A.①③ B.②④ C.①④ D.②③

32. 习近平强调,经济是机体,金融是血脉,两者共生共荣。以下做法正确反映金融业服务于实体经济的是( )

- ①发挥保险业的保障功能,分散和转移制造业转型升级的风险
- ②优化股票市场资金借贷功能,拓宽实体经济的融资渠道
- ③降低金融杠杆率,化解资本市场泡沫风险
- ④定向降低存款准备金率,引导资金流向实体经济

A.①③ B.②④ C.①④ D.②③

33. 促进我国经济平稳运行要全社会总供给和社会总需求保持基本平衡。社会总供给是指一个国家或地区在一定时间内(通常为 1 年)实际提供的最终产品和劳务的总量。据此推测,以下经济内容应该包含在我国 2019 年社会总供给的是( )

- ①2019 年上半年,我国某上市公司吸引海外投资 15 亿美元
- ②2019 年 9 月,山东省商品房竣工面积 781 万平方米
- ③2019 年 8 月,某国外公司为河北钢铁集团提供减排技术培训等有偿服务
- ④2019 年,华为智能手机在国内和国外销售量突破 2 亿台

A.①② B.①④ C.②③ D.③④

34. 2018 年中央经济工作会议明确指出,2019 年国资国企改革,要坚持以市场化为主导,遵守政企分开、政资分开和公平竞争原则,加快政府从“管企业”向“管资本”的转变。这( )

- ①能够促使政府厘清职能,更好地进行科学宏观调控
- ②有利于提高国企的市场竞争力,做大做强国有资本
- ③旨在巩固国有资本在社会总资产中的优势地位
- ④意味着要赋予市场在国资国企改革中的决定性作用

A.①② B.②④ C.②③ D.③④

35. 我国居民消费特别是高端消费流向海外,是近年消费市场的一个显著变化。我国居民海外消费连续几年位居全球第一,主要呈现出以下特点:买质量-----生活用品“扫”个遍;买新鲜-----个性商品抢断货;买品牌-----文化内涵被看好。这给我国企业的主要启示是( )

- ①面向市场,调整升级产品结构
- ②重视商品品质与特色,培育民族品牌
- ③降价促销,获取更多的利润
- ④实施“走出去”战略,占领海外市场

A.①② B.①③ C.②④ D.③④

36. 2018 年 7 月 15 日,国家药品监督管理局通告了长春长生生物科技有限公司违法违规生产狂犬病疫苗。经查明事实后,长春长生被罚 91 亿元,并依法吊销其《药品生产许可证》。为了避免此类事件再次发生,需要( )

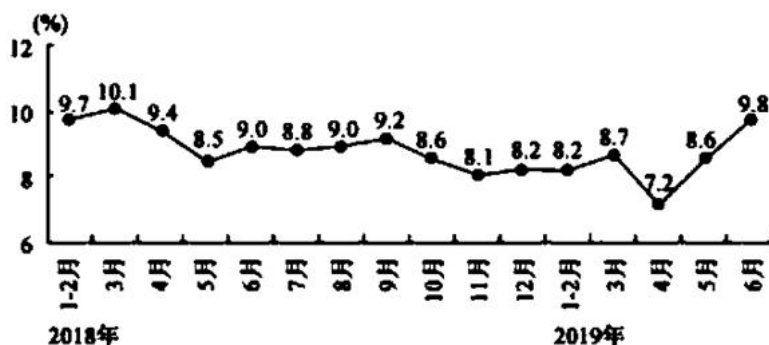
- ①发挥国家宏观调控作用，避免市场调节的自发性
- ②努力建设以法律为支撑、道德为保障的社会信用制度
- ③国家采取强制性行政手段直接调节市场秩序问题
- ④企业遵守市场道德，树立良好的信誉和形象

A. ①② B. ①③ C. ②④ D. ③④

37. 受中美贸易谈判、经济下行压力增加等因素影响,2019年8月,人民币兑美元汇率累计降幅达到3.6%,并于8月5日“破7”。不考虑其他情况,以下推导过程正确反映了人民币汇率变动对中国出口美国商品影响的是

- A. 人民币升值→中国商品在美国市场价格下跌→中国商品在美国市场需求增加
- B. 人民币贬值→中国商品在美国市场需求减少→中国商品在美国市场价格上涨
- C. 人民币升值→中国商品在美国市场价格上涨→中国商品在美国市场需求减少
- D. 人民币贬值→中国商品在美国市场价格下跌→中国商品在美国市场需求增加

38. 数据显示,2019年上半年国内生产总值450933亿元,同比增长6.3%,这是1992年以来27年中最低的一次。同期,我国社会消费品零售总额增速如下图所示。据此可以推断出



- ①我国三次产业结构逐渐升级
- ②我国居民的消费结构不断优化
- ③我国经济面临较大下行压力
- ④消费对经济增长的贡献率提高

A. ①② B. ①④ C. ②③ D. ③④

39. 2019年我国政府过紧日子,推出了史上最大规模的减税降费。前三季度,全国减税降费1.78万亿元,预计全年减税降费总额将达到2.3万亿元。开展大规模减税降费

- ①是政府通过货币政策调节经济运行的表现
- ②是采取积极的财政政策应对经济下行的体现
- ③发挥了财政在促进资源合理配置中的作用
- ④减轻了企业和个人负担,稳定了经济预期

A. ①② B. ①③ C. ②④ D. ③④

40. 据商务部数据,2019年1至10月,我国境内投资者共对全球164个国家和地区的5365家境外企业进行了非金融类直接投资,累计实现投资94.6亿美元,同比增长5.9%,其中,六成对外投资流向租赁和商务服务业、制造业、批发和零售业,而在房地产业、体育和娱乐业等管控行业,对外投资没有新增项目,对此,以下理解正确的是

- ①改变投资流向旨在优化当地的经济结构
- ②“走出去”步伐加快,对外投资稳中有进
- ③我国对外开放水平提高,营商环境优化
- ④对外投资结构优化,非理性投资得到遏制

A. ①③ B. ①④ C. ②③ D. ②④

41. 我国是个人口众多的大国,解决好吃饭问题始终是治国理政的头等大事。中国人的饭碗任何时候都要牢牢端在自己手上,我们的饭碗应该主要装中国粮。下列有利于我国粮食安全的举措是:

- ①实施市场多元化战略,扩大粮食进口



②依靠科技支撑,推进农业现代化建设

③食品安全源头在农产品,要用最严格的监管确保广大人民群众“舌尖上的安全”

④要强化政府对农业的支持保护,创造良好务农条件和环境

A.①②      B.②④      C.②③      D.③④

42.白皮书提出要实施“以我为主、立足国内、确保产能、适度进口、科技支撑”的国家粮食安全战略。下列对这一战略理解不正确的是:

A.确保我国的粮食安全必须坚持独立自主自力更生的原则

B.要充分发挥我国丰富的农业资源,提高粮食产量

C.要加强科技创新,用科技推动粮食的生产

D.在开放的环境下,解决粮食问题要更好地统筹两个市场两种资源

43.农业是国民经济的基础,粮食是基础的基础,《中国的粮食安全》白皮书指出:我们必须确保我国谷物基本自给、口粮绝对安全,把近 14 亿中国人的饭碗牢牢端在自己手中。下列举措有利于保障我国粮食安全的有:

①落实和完善党和国家在农村的各项基本政策,发展科技,增加对农业的投入

②推动城乡发展一体化,转移农村剩余劳动力

③推进农业现代化,坚守耕地红线,提高耕地质量,增强农业综合生产能力

④调整优化农村经济结构,走新型工业化道路

A.①②      B.②④      C.③④      D.①③

44.我国农业生产中化肥和农药的过度使用,导致耕地板结化、酸性化严重,危害农业生态环境,威胁粮食安全。要从根本上解决这一问题,必须:

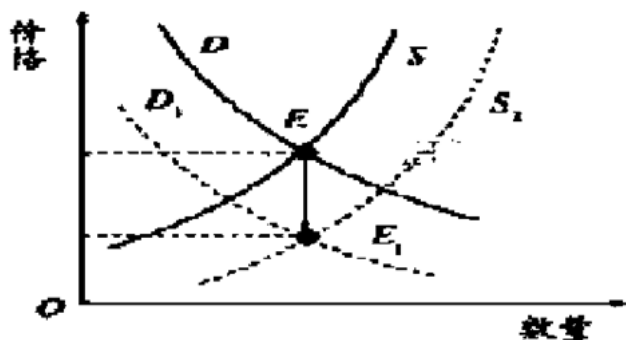
A.促进农民收入增加

B.稳定粮食种植面积

C.转变农业发展方式

D.提高耕地产出效率

45.下图表示某商品供求关系变化与价格变动的关系,其中D为需求曲线,S为供给曲线,E为均衡点。下列能导致均衡点发生如图变化的是:



①受国家补贴政策与市场影响,近年来我国活羊养殖数量大幅增加,市场需求低迷

②国家推广农业科技,提高大米劳动生产率

③为维护粮食安全,我国政府推动粮食最低收购价逐步向农产品目标价格制度转变

④经济增长动力不足,煤炭生产产量仍处在高位

A.①②      B.①④      C.②③      D.③④

46.中国人口占世界的近 1/5,粮食产量约占世界的 1/4。中国依靠自身力量端牢自己的饭碗,实现了由“吃不饱”到“吃得饱”,并且“吃得好”的历史性转变。对此,下列说法错误的是:

A.我国居民食品消费支出减少,恩格尔系数逐年下降

B.这归根于我国经济发展水平的提高和生产能力的增强

C.我国居民恩格尔系数总体下降,消费结构得到改善

D.我国居民的生活水平随着经济社会发展而不断提高

47.为了解决粮食供需矛盾,确保国家粮食安全,需要:

①保障耕地安全,发展规模化农业

②推动农村土地所有权改革,保护农民权益

③提高粮食进口关税,提高农业生产率

④加大对农业科技的投入,提高粮食产出效率

A.①②      B.①④      C.②③      D.③④

48.推动粮食产业转型升级，培育大型跨国粮食集团，支持中小粮食企业发展，促进形成公平竞争的市场环境。积极引导多元主体入市，市场化收购比重不断提高，粮食收购主体多元化格局逐步形成。这有利于：

- ①增强非公有制经济控制力，使各种所有制经济公平公正参与竞争
- ②改变公有制经济主体地位，完善基本经济制度
- ③增强国有经济活力、抗风险能力，发挥国有经济的主导作用
- ④夯实社会主义市场经济的微观基础，促进各种所有制经济共同发展

A.①②      B.①④

C.②③      D.③④

49.新时代我国社会主要矛盾已经转化为人民日益增长的美好生活需要和不平衡不充分的发展之间的矛盾。当前我国主要农产品已从过去的供需紧张转向平衡状态，一方面，我国农产品中低端供给较为充足，另一方面，放心安全的农产品供给又明显不足。要解决上述问题，必须：

- ①大力发展现代农业，不断扩大产品种植范围
- ②加快培育新型职业农民，提高劳动生产率
- ③加大农业科技创新力度，优化农产品种植结构
- ④加快粮食加工转化，持续增加工业产值

A.①②      B.②③

C.③④      D.①④

50.十九大提出，保持土地承包关系稳定并长久不变，要求进一步完善承包地“三权分置”制度，真正让农户的承包权稳下去、经营权活起来，充分释放改革红利。党和政府制定并实施“三权分置”制度有利于：

- ①从根本上改变农村以家庭联产承包责任制为基础的经济形式
- ②转变农业发展方式，走新型农业现代化道路
- ③提高土地配置的效率，保障农民土地所有权
- ④增加农民财产性收入，推动城乡发展一体化

A.①③      B.①④

C.②④      D.②③