

普通高等学校招生全国统一考试 原创押题密卷(一)

文科综合能力测试

本试卷共 16 页,47 题(含选考题)。全卷满分 300 分。考试用时 150 分钟。

★祝考试顺利★

注意事项:

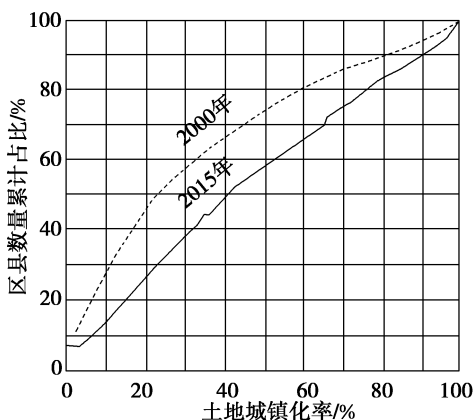
1. 本试卷分选择题和非选择题两部分。
2. 答题前,考生务必将自己的姓名、准考证号填写在本试卷相应的位置。
3. 全部答案在答题纸上完成,答在本试卷上无效。
4. 考试结束后,请将本试卷和答题纸一并上交。

一、选择题:本题共 35 小题,每小题 4 分,共 140 分。在每小题给出的四个选项中,只有一项是符合题目要求的。

SOHO 位于纽约曼哈顿下城,历史上是铸铁工厂区,曾因经历长时间的衰败成为“地狱”的代名词,后来闲置下来的许多厂房和仓库被一批艺术家改建成他们的工作室和画廊。1973 年纽约市政府将 SOHO 列为保护区,这是世界上首次将工厂仓库列为历史文化遗产并提供法律保护。如今 SOHO 已是闻名世界的文化创意产业集聚地,也被视为创意产业的发源地。据此完成 1~3 题。

1. 纽约市政府将 SOHO 列为保护区的主要目的是 ()
A. 适时恢复传统铸铁生产
B. 充分发挥区域资源优势
C. 促进有序合作与合理竞争
D. 整改后供其他钢铁企业使用
2. 推测纽约市政府为促进 SOHO 振兴采取的主要措施 ()
①大力开发房地产 ②发展文化艺术产业 ③引进汽车制造业 ④改造为主题文化公园
A. ①②
B. ②③
C. ③④
D. ②④
3. SOHO 从“地狱”到如今的“锈带铮亮”反映了某些区位要素的影响力越来越强,这些区位要素主要是 ()
A. 能源与原材料
B. 技术与人文环境
C. 物流与市场
D. 劳动力与土地价格

土地城镇化表现为城镇的建成以及城镇面积的扩大。县域(县级区域)土地城镇化水平划分为低($\leq 10\%$)、中低($10\% \sim 30\%$)、中($30\% \sim 50\%$)、中高($50\% \sim 70\%$)、高($> 70\%$)五种类型。下图示意 2000 年和 2015 年我国县域土地城镇化水平。据此完成 4~5 题。

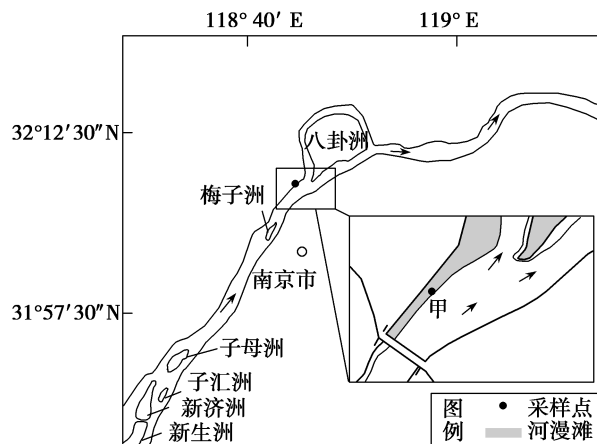


4. 2000 年我国县域土地城镇化 ()
A. 低水平和中低水平的区县数量大致相当
B. 中等水平的区县数量占比约为 65%
C. 中高水平区县数量占比高于 70%
D. 高水平区县数量占比最大

5. 据图推测 2000~2015 年我国

- A. 县域土地城镇化区域差异增大
B. (特)大城市土地扩张速度加快
C. 中小城市用地处于高速增长阶段
D. 县域土地利用向集约化发展

河漫滩是位于河床主槽一侧或两侧,河流洪水期时被淹没,枯水期时出露的滩地。下图为长江某河段部分区域示意图。据此完成 6~8 题。



6. 符合该段河流水文特征的是

- A. 水流急,流量大
B. 水流缓,流量大
C. 水流缓,有凌汛
D. 水流急,流量小

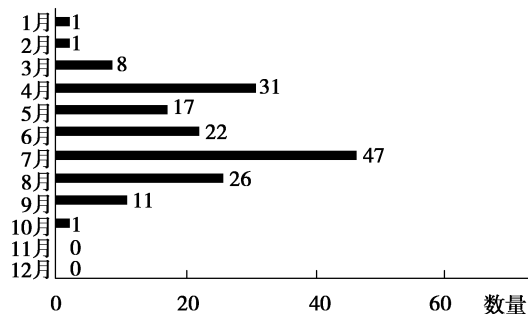
7. 某地质爱好者在甲地取样,发现河床垂直剖面上有鹅卵石与细沙共存的现象,原因可能是

- A. 该河段地势起伏大,河流落差大
B. 该河段河道平直,流水侵蚀能力强
C. 洪水流动过程中流速变化大
D. 不同年份洪水期水流速度变化大

8. 近年来甲地堆积物颗粒变得细而均匀,可能是甲地

- A. 上游来水量增大
B. 洪水期流量增加
C. 芦苇等植物的覆盖率提高
D. 挖沙船频繁作业

2019 年 7 月 3 日下午,辽宁省铁岭开原市遭受突发龙卷风袭击。龙卷风造成部分地区电力、通信中断,并造成人员伤亡。龙卷风是一种强烈的、小范围的空气旋涡,其风力可达 12 级。龙卷风发生的概率平原大于山区,大城市里发生龙卷风的情况很少。下图为我国 1961~2010 年强龙卷风事件发生数量逐月分布图。据此完成 9~11 题。



9. 辽宁省铁岭开原市龙卷风的成因是

- A. 冷锋快速推进,暖气团快速抬升
B. 在极不稳定的天气状况下空气进行强烈对流运动
C. 暖湿气流受地形阻挡强烈抬升
D. 长时间受赤道低气压带控制

10. 据图分析,我国强龙卷风事件发生的特征为

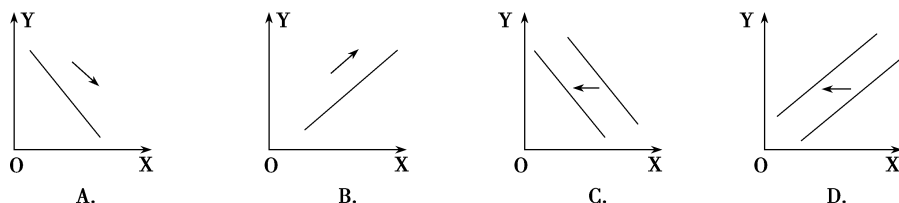
- ①有明显的季节性特征 ②集中在春夏两季和早秋 ③7月最多,8月次之 ④70%的强龙卷风发生在 12~20 时

- A. ①②
B. ②③
C. ③④
D. ①③

11. 龙卷风发生的概率平原大于山区,但大城市里龙卷风很少的原因是 ()

- A. 城市植被稀少,植物蒸腾作用小
- B. 城市空气中水汽含量高
- C. 建筑物高大密集,地表摩擦力大
- D. 城市逆温天气多发,不利于空气对流

12. 2020 年 1 月 4 日人民币对美元的汇率中间价为 698.89,2019 年 1 月 4 日人民币对美元的汇率中间价为 685.86。不考虑其他因素,下图能正确描述 2019 年 1 月一年来美国旅游市场价格(Y 轴)对中国赴美国旅游的游客数量(X 轴)的影响的是 ()



13. 某村通过集体产权改革厘清农村资产、明晰资产权属、明确成员数量、合理量化股权、成立农村股份经济合作社,使资源变资产、农民变股东,实现了集体、农户“双受益”。该村这一发展模式有利于 ()

- ①调整分配关系以增加农民的财产性收入
- ②盘活农村资源以提高资源利用效率
- ③发展集体经济以控制国民经济命脉
- ④吸收社会资本以促进各种所有制经济共同发展

- A. ①②
- B. ①④
- C. ②③
- D. ②④

14. 2020 年 1 月 6 日,中国人民银行全面下调金融机构存款准备金率(指金融机构为保证客户提取存款和资金清算需要而缴存在中央银行的存款占其吸收存款总额的比例)0.5 个百分点,释放长期资金 8 000 多亿元。这一举措 ()

- ①增加金融市场流动性
- ②增加储蓄存款风险和收益
- ③提高企业经济效益
- ④能降低社会融资的实际成本

- A. ①②
- B. ③④
- C. ①④
- D. ②③

15. 2019 年 12 月 10 日至 12 日,中央经济工作会议在北京举行。会议提出 2020 年要加快补齐民生短板,有效解决进城务工人员子女上学难问题。为此,需要 ()

- ①增加新税种,增加财政收入以保证教育需要
- ②完善税收制度,保障财政收入的可持续增长
- ③优化教育经费投入使用结构,提高资金效益
- ④改变征税对象,激发企业开办学校的积极性

- A. ①②
- B. ③④
- C. ①④
- D. ②③

16. 乡村振兴、规划先行。某村建立由村党组织、村委会、村民和相关企业的代表组成乡村规划协调会,对乡村报批规划进行深入协商论证,有效解决了该村以往规划随意变更、不切合本村实际的问题。乡村振兴规划协调会的成立 ()

- ①丰富了民主监督的形式
- ②提供了协商民主的有效渠道
- ③提升了基层政权的公信力
- ④促进了基层管理的有序发展

- A. ①③
- B. ②③
- C. ①④
- D. ②④

17. 2020 年 1 月 2 日,新华社报道,山东省政府近日出台电子政务和政务数据管理办法,要求县级以上政府将电子政务和政务数据发展纳入国民经济和社会发展规划,对无条件共享类的政务数据,使用部门可以通过省级或者市级政务信息资源交换共享平台直接获取。实施政务数据共享有利于 ()

- ①政府依法科学决策,提高行政效率
- ②提升政务服务效能,提高服务能力
- ③政府审慎行使权力,建设有限政府
- ④切实转变政府职能,由管理向服务转变

- A. ①②
- B. ①④
- C. ②③
- D. ③④

18. 我国经济社会每发展前进一步,扶贫标准就提高一次。我国始终保持着经济发展与减贫的同步推进,用消除绝对贫困的实际行动为实现联合国 2030 年可持续发展的减贫目标做出了重要贡献。由此可见 ()
- ①我国坚持以人民为中心的发展理念 ②我国支持和落实联合国进行的各项工作 ③我国是促进世界稳定和发展的
重要力量 ④和平与发展已成为世界各国的共同愿望
- A. ①② B. ①③ C. ②④ D. ③④
19. 1949 年 9 月底,在中华人民共和国即将诞生之际,毛泽东同志充满自信地预见:“随着经济建设高潮的到来,不可避免地将要出现一个文化建设的高潮。中国人被人认为不文明的时代已经过去了,我们将以一个具有高度文化的民族出现于世界。”70 年过去了,这个预见正在逐渐变为现实。下列对这个预见变为现实的主要原因分析正确的是 ()
- ①中华文化具有深厚的底蕴,呈现着各民族文化的丰富色彩 ②我国经济持续稳定发展为文化的发展提供了物质保障 ③文化兴则国运兴,我国文化的发展提升了我国的综合国力 ④我国坚持以马克思主义为指导,党引领先进文化发展方向
- A. ①② B. ①③ C. ②④ D. ③④
20. 2019 年国庆上映的《我和我的祖国》《中国机长》《攀登者》等一批献礼影片,依托现代科技,还原祖国经历的无数个历史经典瞬间,讲述普通人与国家之间息息相关、密不可分的动人故事,引起人们的强烈共鸣。由此可见 ()
- ①文化的感染力取决于其艺术形式 ②社会实践是优秀文化作品的源泉 ③优秀作品总能丰富人的精神世界 ④大众传媒是文化传播的重要途径
- A. ①② B. ②③ C. ①④ D. ③④
21. 一个人的青春是平庸无奇还是璀璨夺目,“觉醒”堪称关键变量。“觉醒”了的青年,遇见旷野,可以栽种树木,遇见沙漠,可以开掘井泉,即使处于痛苦、困厄之中,也能潜心积蓄站起来的力量。下列选项对此理解正确的是 ()
- ①意识能动性是对事物正面的、理想化的反映 ②高昂的精神对人们改造客观世界具有推动作用 ③意识对人体生理活动具有调节和控制作用 ④精神力量可以直接转化为物质的力量
- A. ①② B. ①④ C. ②③ D. ③④
22. 2019 年,诺贝尔化学奖颁发给了研发锂离子电池的科学家。20 世纪 70 年代的石油危机催生了对新能源储能的需求,也推动了电池研发,获奖科学家为所有人创造了一个可重复充电“超长待机”的世界,从而使无化石燃料社会成为可能。材料表明 ()
- ①人们不断走向终极真理 ②实践是认识发展的动力 ③人类实践活动具有社会历史性 ④科技创新是最基本的实践活动
- A. ①② B. ①④ C. ②③ D. ③④
23. 国家主席习近平在发表 2020 年新年贺词中强调:“一年来,许多人和事感动着我们。一辈子深藏功名、初心不改的张富清,把青春和生命献给脱贫事业的黄文秀,为救火而捐躯的四川木里 31 名勇士,用自己身体保护战友的杜富国,以十一连胜夺取世界杯冠军的中国女排……许许多多无怨无悔、倾情奉献的无名英雄,他们以普通人的平凡书写了不平凡的人生。”这启示我们 ()
- ①价值选择比价值判断重要,要有正确的价值追求 ②要在实现自我价值的基础上服务社会实现社会价值 ③追求远大理想,求真务实,在劳动和奉献中创造精彩人生 ④坚守正确的价值判断和价值选择准则,书写非凡人生
- A. ①② B. ①④ C. ②③ D. ③④
24. 儒家认为:“大人之能以天地万物为一体也,非意之也,其心之仁本若是,其与天地万物而为一也。”在国与国以及民族与民族的关系上,儒家提倡王道、反对霸道,追求天下为公的大同境界。这反映了儒学 ()
- A. 崇尚神秘主义人生观 B. 主张和谐的世界观
C. 有鲜明的人文主义情怀 D. 注重伦理道德教育

25. 下表为秦朝县令、县丞律令行政与自主行政所占比率对比情况表

序号	行政运作内容	总数	律令行政及所占比率(%)		自主行政及所占比率(%)	
1	县令、丞下达的政令与执行	34	14	41.2	20	58.8
2	上级下达县令、丞的政令与执行	14	5	35.7	0	0
3	本机构内部政务的申告与裁决	7	4	57.1	3	42.9
4	政务涉及其他机构的申告与裁决	16	14	87.5	0	0
5	政令下达与执行(小计)	48	19	39.6	20	41.7
6	政务裁决(小计)	23	18	78.3	3	13.0
7	合计	71	37	52.1	23	32.4

这反映出当时 ()

- A. 秦朝实行高度的中央集权
- B. 以严刑峻法为治国方略
- C. 地方有一定的行政自主权
- D. 中央对地方控制力减弱

26. 宋代有一种叫纱公服的衣服,夏天穿着凉爽舒适,很受民众欢迎而成为“流行时装”。但是因其质料轻薄、透明、有伤观瞻不合礼仪而一度被统治者禁止穿着。据此可知,宋代 ()

- A. 民众的道德操守严重滑坡
- B. 治国理念受到理学思想影响
- C. 丝织业技术水平快速提升
- D. 市民阶层审美情趣发生变化

27. 有学者指出:成化、弘治两朝之后,明初官方推行的钞币制度逐渐退出民间流通,与之相适应,主要由民间工商业者推动的白银货币化趋势逐渐占据主导地位,出现了朝野广泛用银的现象。这种变化表明 ()

- A. 明朝的重农抑商政策松动
- B. 世界市场推动中国经济变革
- C. 工商业者的社会地位上升
- D. 国家干预经济能力有所减弱

28. 民国三年,严复连续发表《说党》系列文章,阐释其对政党政治的看法。严复认为政党政治在某种程度上起到了疏通民意、保护民权的作用。但同时又说:“如果轻率地认为,只要中国有了政党制度,中国就会立即富强起来,这的确是浅人之见。”据此可知,严复 ()

- A. 对近代政党政治有清醒的认识
- B. 认为中国实行政党政治利弊参半
- C. 对戊戌变法失败进行深刻反思
- D. 找到了一条正确的富国强兵道路

29. 1820年,中国的GDP约为英国的7倍,却在鸦片战争中被英国击败。1860年,中国的GDP大于英法的总和,却没能阻止英法联军火烧圆明园。1890年,中国的GDP约为日本的5倍,但中国军队却在甲午中日战争中一败涂地。据此推知 ()

- A. 经济总量对一国来说没有意义
- B. GDP排名准确反映一国经济发展水平
- C. 中国国际地位与GDP排名背离
- D. 经济结构优劣是战争胜负的重要因素

30. 1939年12月初,阎锡山配合蒋介石在山西发动了第一次“反共”高潮,制造了“十二月事变”。面对这一形势,朱德、彭德怀领导八路军在进行坚决反击的同时,根据中央指示,主动把吕梁地区的大部分地区让给了阎锡山,中共只控制一小部分地区和一条通道。这反映出 ()

- A. 国共合作抗日面临彻底分裂的危险
- B. 共产党的局部反攻严重受挫
- C. 共产党努力维护抗日民族统一战线
- D. 敌后战场与沦陷区犬牙交错

31. 中国《科技日报》总编辑刘亚东指出,在世界全球化加速的时代背景下进行的科技研究,总结、汲取别人或国外的经验没有错,也是应该做的,但弯道超车往往成了投机取巧的代名词。由此可以推知中国某些科研工作者在科技研究中尚 ()

- A. 存在忽视理论的短板
- B. 缺乏脚踏实地的情怀
- C. 存在盲目自大的情绪
- D. 缺乏虚心学习的精神

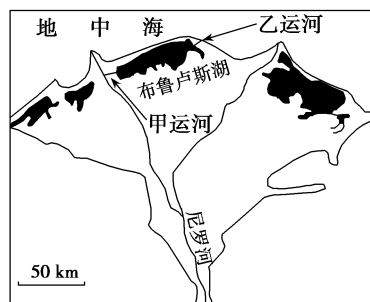
32. 雅典审判苏格拉底的法庭是由 500 名来自社会各阶层民众的陪审员组成的。苏格拉底在法庭上狂妄自大的态度和发言两次引起全场人群哗然,经过两次投票,最终陪审团以 360 票比 140 票判他死刑。这次审判 ()
- A. 其过程违背了民主司法程序 B. 贯彻罪罚一致原则
- C. 暴露雅典民主与自由的矛盾 D. 践行众生平等理念
33. 文艺复兴前夕,意大利的市民阶层重视自由,因为没有自由就不能携带商品走南闯北;敢于冒险,因为害怕漂洋过海,商品就缺乏广阔的市场;主张宗教宽容,因为不敢和异教徒接触,就会失去可观利润;重视理性,因为没有理性就会破产。材料旨在强调当时 ()
- A. 人文主义思想的经济渊源 B. 理性主义成为当时主流思想
- C. 市民阶层摆脱了宗教束缚 D. 意大利最早进行了文艺复兴
34. 从历史上看,每当美国挥舞贸易保护主义大棒时,更多体现的是政党政治选举的隐性需求。至于“国家利益”和“民族经济主义”是否与大众的利益相一致则成了次要的问题。这表明美国贸易保护主义 ()
- A. 完全背离本国大众利益 B. 是政党自利取向的产物
- C. 搬起石头砸了自己的脚 D. 顺应了民族主义的潮流
35. 有学者指出:经济全球化增加了各国经济对世界经济的依赖性和敏感性,经济制裁和经济封锁成为越来越重要的和有效的霸权手段。与此同时,伴随信息传播的迅捷,强国可以借助现代传媒使自己的文化成为强势文化,从而增加对霸权的合法性认同。上述材料揭示出,当今世界 ()
- A. 单极化趋势更加明显 B. 霸权主义借助了全球化
- C. 全球化引发霸权主义 D. 强势文化的先进性特征

二、非选择题:共 160 分。包括必考题和选考题两部分。第 36~42 题为必考题,每个试题考生都必须作答。第 43~47 题为选考题,考生根据要求作答。

(一)必考题:共 135 分。

36. 阅读图文资料,完成下列要求。(24 分)

布鲁卢斯湖位于尼罗河三角洲前缘中部(如下图所示),在湖的北面由于河流泥沙沉积作用形成沙坝,原有的潮汐湿地沉降形成的盐沼演化形成布鲁卢斯湖。布鲁卢斯湖湖水深度浅,西部有甲运河与尼罗河相连,东部有乙运河连通地中海,湖水盐度东、西部差异大,中部季节变化显著。湖中分布众多岛屿,生物群落丰富多样。直到 20 世纪中期,布鲁卢斯湖仍然处在海洋强烈影响之下。随着尼罗河干流和支流众多水坝的修建,尼罗河洪水得到控制。阿斯旺大坝建成后,从尼罗河流经甲运河的流量增大且季节分配均匀,但尼罗河带来的泥沙大量减少,布鲁卢斯湖生态环境发生了显著变化。据专家预测,布鲁卢斯湖前途十分黯淡,其生命终将结束。



(1)指出布鲁卢斯湖东、西部湖水盐度差异,并说明中部湖水盐度季节变化显著的原因。(6 分)

(2)分析布鲁卢斯湖生物群落丰富多样的原因。(6 分)

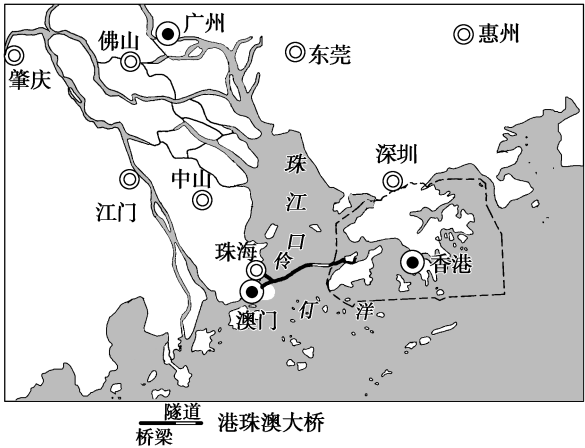
(3)分析阿斯旺大坝建成后其对布鲁卢斯湖生态环境的影响。(6分)

(4)预测布鲁卢斯湖最终的结局,并说明理由。(6分)

37. 阅读图文材料,回答问题。(22分)

材料一 2019年2月18日,中共中央、国务院印发《粤港澳大湾区发展规划纲要》。提出要把该区域建设成为充满活力的世界级城市群、具有全球影响力的国际科技创新中心。

材料二 下图为港珠澳大桥和粤港澳大湾区示意图。粤港澳大湾区包括香港、澳门两个特别行政区和广东省的广州、深圳、珠海、佛山、惠州、东莞、中山、江门、肇庆,人口超过7 000万,面积约5.6万平方千米,GDP约1.5万亿美元,有多所世界500强大学和多家世界500强企业。



(1)从地理位置角度分析粤港澳大湾区发展的优势条件。(6分)

(2)分析港珠澳大桥全线贯通对粤港澳大湾区发展的主要意义。(6分)

(3)简述粤港澳大湾区建设具有全球影响力的国际科技创新中心的有利条件。(4分)

(4)请你就如何将粤港澳大湾区建设为充满活力的世界级城市群谈谈建议。(6分)

38. 阅读材料,完成下列要求。(14 分)

2019 年 9 月 25 日,北京大兴国际机场正式通航,中国的交通史也掀开了新的篇章。大兴国际机场立足自主创新,开发应用 103 项新专利、新技术,65 项新工艺、新工法,国产化率达 98% 以上。机场可以实现“零间隔换乘”地铁和高铁,过了安检最远步行 600 米,大约 8 分钟就能到登机口,国际国内航班中转最快 60 分钟,进港首件行李 13 分钟即可到达。根据航空业务量猜测,到 2022 年,大兴国际机场旅客吞吐量将达到 4 500 万;到 2025 年,旅客吞吐量将达到 7 200 万。双层出发车道边的设计也是为了让旅客更加便捷的到达航站楼。大兴国际机场还是国内可再生能源利用比例最高的机场。机场内通用车辆清洁能源车使用率 100%,污水处理率 100%。

大兴国际机场位于北京市大兴区榆垓镇、礼贤镇与河北省廊坊市广阳区之间,地处京津冀核心地带,距雄安新区 55 公里,距北京城市副中心 54 公里,距河北廊坊市 26 公里。大兴国际机场是空地一体化的综合交通枢纽,通过多种空地交通接驳,周边 28 座城市旅客可通过高铁网和高速路网 3 小时内到达大兴国际机场,交通圈覆盖城市人口达 2 亿多。大兴国际机场不仅将助力雄安新区建设,也将成为推动区域协同发展理念深刻变革的样本。

结合材料并运用经济生活知识,分析说明大兴国际机场建成通航的意义。(14 分)

39. 阅读材料,完成下列要求。(12 分)

保护黄河是事关中华民族伟大复兴和永续发展的千秋大计。习近平总书记指出,“黄河宁,天下平”。70 年来,在党中央坚强领导下,沿黄军民和黄河建设者开展了大规模的黄河治理保护工作,开创了治黄事业新篇章,取得了举世瞩目的成就,创造了黄河岁岁安澜的历史奇迹。实践证明,只有在中国共产党领导下,发挥社会主义制度优势,才能真正实现黄河治理从被动到主动的历史性转变,从根本上改变黄河三年两决口的惨痛状况。

结合材料并运用政治生活知识,说明如何发挥社会主义制度优势,真正实现黄河治理从被动到主动的历史性转变。(12 分)

40. 阅读材料,完成下列要求。(26 分)

意识形态工作是党的一项极端重要的工作。目前西方敌对势力将其价值观进行精心包装,推动资本主义意识形态对外渗透。随着全球化的推进、新媒体的发展、多元思潮的冲击,意识形态话语传播力在扩大意识形态影响力、夺取意识形态话语权方面发挥的作用越来越大。

党的十九届四中全会要求,落实意识形态工作责任制,注意区分政治原则问题、思想认识问题、学术观点问题,旗帜鲜明反对和抵制各种错误观点。完善坚持正确导向的舆论引导工作机制。坚持党管媒体原则,坚持团结稳定鼓劲、正面宣传为主,唱响主旋律、弘扬正能量。构建网上网下一体、内宣外宣联动的主流舆论格局,建立以内容建设为根本、先进技术为支撑、创新管理为保障的全媒体传播体系。改进和创新正面宣传,完善舆论监督制度,健全重大舆情和突发事件舆论引导机制。建立健全网络综合治理体系,加强和创新互联网内容建设,落实互联网企业信息主体责任,全面提高网络治理能力,营造清朗的网络空间。

(1)结合材料,运用文化生活知识,说明坚持党管媒体原则的重要意义。(10 分)

(2)结合材料,运用系统优化的知识,分析怎样建设好全媒体传播体系。(10 分)

(3)在全媒体时代,人人都有麦克风。请就青年学生如何正确使用自己的麦克风,弘扬正能量提出三条建议。(6 分)

41. 阅读材料,完成下列要求。(25 分)

材料一 根据专家系统研究,在传统农业阶段,每 500 公顷土地只能养活 2—1 000 人。而到了近代,随着资本和技术集约型的现代农业的发展,每 500 公顷土地供养的人口猛增至 5 000 人,这样的增长速度在世界农业发展史上是从没有过的。当然现代农业高速增长也是与化肥大量投入密切相关。马克思曾经指出:“现代科学在农业的运用,将把农村居民从土地上赶走,使人口集中于工业城镇”。这种大规模的集中,“将把从事工业生产和农业生产、城市和农村生活方式的优点结合起来”。总之,世界农业现代化是与工业化、城市化相伴而生的,其实质和核心是化“农”,就是农民比重大幅减少,农业比重大幅下降,城市化水平大幅度提高的历史演进过程。

——摘编自张新光《20 世纪以来世界农业发展中几个带有规律性的问题》

材料二 改革开放后,中国依靠自己的努力解决了几亿人的吃饭问题,为世界减贫事业做出了无与伦比的贡献。但是在全球环境危机、粮食危机日益加深的今天,如何解决本国人民的温饱和保障本国的粮食安全仍然是一个重大的经济问题和政治问题。贫困和饥荒是一个世界性的难题,特别是对那些不发达的发展中国家尤其如此。饥荒和贫困也已成为全球意义上贫困的符号,并且将会是人类永远挥之不去的符号。

——摘编自曹瑞臣《作物改变世界》

(1)根据材料一并结合所学知识,概括世界农业现代化的特点。(10 分)

(2)根据材料一、二并结合所学知识,说明中国能够解决吃饭问题的原因并谈谈如何解决饥荒这一世界性难题。(15 分)

42. 阅读材料,完成下列要求。(12 分)

材料 20 世纪 90 年代单边主义一度大行其道,美国不顾包括西欧主要国家在内的国际社会的反对,发动了伊拉克战争,世界多极化趋势似乎受挫。美国学者克劳斯·海默在 90 年代初宣称世界进入了以美国为主导的单极时刻。在这种单极论盛行下,基辛格头脑冷静,在 1993 年告诫世人,由于共同敌人和威胁的消失,西方联盟的凝聚力下降,欧洲、日本与美国的利益冲突增多。同时,由于经济增长速度不同,日本、德国或欧盟及中国必将崛起,美国尽管还是唯一的超级大国,但对国际体系的控制力在下降。

——摘编自人民网学术论坛《世界多极化加速演进》

根据材料并结合世界史的相关史实,评析材料中的观点(任意一点或整体),得出结论。(要求:结论不能重复材料中观点,持论有据,论证充分,表述清晰。)(12 分)

(二)选考题:共 25 分。请考生从 2 道地理选考题、3 道历史选考题中每科任选一题作答,并用 2B 铅笔在答题纸上把所选题目题号后的方框涂黑。注意所选题目的题号必须与所涂题号一致,并在答题纸选答区域指定位置答题。如果多做,则每科按所做的第一题计分。

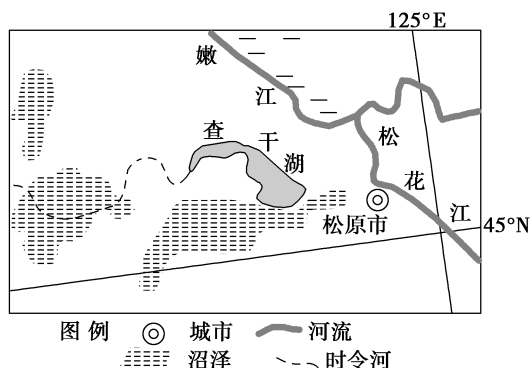
43. [地理——选修 3:旅游地理](10 分)

2019 年“五一”节,全国一大波景区推出门票优惠活动。河南省七大景区全部免门票,包括老君山、龙潭大峡谷、老界岭、尧山景区冰雪旅游、青天河 5 个 5A 景区和龙峪湾、五龙等 22 个 4A 景区。免门票政策的出台有利于景区克服“门票经济”的软骨病。

指出此次河南省实施免门票活动的景区的特点及免门票政策可能带来的不利影响。

44. [地理——选修 6:环境保护](10 分)

查干湖位于霍林河末端与嫩江的交汇处,是霍林河尾间的一个堰塞湖,是吉林省内最大的天然湖泊。一段时期内由于不合理的开发,湖泊出现了萎缩,鱼类及湿地动物、植物近乎灭绝,成了盐碱泛起的“害湖”。近几年当地政府贯彻国家“绿水青山就是金山银山”的指示,高度重视查干湖的生态环境保护,积极推行开挖人工运河、扩大湖泊水域、保护湖泊及其周围的生物、严格执行法定的休渔期、渔业生产集中在冬季等一系列措施,使查干湖生态环境走向了良性发展。下图为查干湖位置示意图。



指出查干湖的生态价值。并说明当地政府的一系列保护措施对查干湖生态环境的重要意义。

45. [历史——选修 1:历史上重大改革回眸](15 分)

材料 清军入关前,满族最重要的社会治理体制改革就是建立八旗制度。八旗制度是清代一种特殊的兵农合一的社会组织。八旗的政治特性是领主分封制,但与西周分封制不同的是“封而不建”。八旗制度体系下,八旗人丁主要从事军事行为,八旗满族是个整体的军事贵族阶层,其成员都是享受特殊权益的人群。八旗人众别立户籍,不隶州县,不入民籍,“旗民分治”。八旗制度包含的基本精神如民族区隔、贵贱分等、军事化等多种成分。这种体制随着清军入关而覆盖到整个中国的社会结构之上,造成了社会结构空前复杂化和社会分层的深化。

——摘编自赵轶峰《八旗、保甲与清前期社会结构》

(1)根据材料并结合所学知识,分析满洲八旗制度改革的特点。(8 分)

(2)根据材料并结合所学知识,说明满洲八旗制度改革的影响。(7 分)

46. [历史——选修 3:20 世纪的战争与和平](15 分)

材料 二战后德国对历史问题的反省非常彻底,对其解决有着一系列的态度与举措。二战后德国历届领导人都明确承认,希特勒德国发动侵略战争,德国对其后果“全面承担责任”,并向受害国人民“认罪、道歉”“请求宽恕”。联邦德国还颁布了一系列法律规定,以防止纳粹沉渣泛起和新纳粹产生。教育青年面对纳粹罪行和侵略真相,树立正确历史观。根据 1952 年联邦德国同美英法三个占领国签订的《波恩条约》,德国要对境内外受纳粹迫害者进行赔偿。尊重战后国际协定,承认战后边界,对邻国放弃一切领土要求。走和平崛起道路,置身于一一体化的欧洲,减少邻国对纳粹德国“东山再起”的疑惧。1970 年,联邦德国总理勃兰特的“华沙之跪”被称之为欧洲的一千年来最强烈的谢罪表现。通过以勃兰特为代表的历届政府的不懈努力,有力地推动着德国与东方国家的和解进程,使德国顺利加入联合国而融入国际大家庭。

——摘编自梅兆荣《德国如何反省二战侵略历史》

(1)根据材料并结合所学知识,概括德国解决历史问题的重大举措。(9 分)

(2)根据材料并结合所学知识,分析勃兰特“华沙之跪”的积极影响。(6 分)

47. [历史——选修 4:中外历史人物评说](15 分)

材料 甲午战争时,刘永福奉旨渡台帮办防务。此役,清军在朝鲜及直东奉三省被日军打得丢盔弃甲,溃不成军;李鸿章苦心孤诣经营二十余年的北洋舰队损兵折将,全军覆没。清政府被迫与日本签订丧权辱国的《马关条约》,将台湾等地割让给日本。噩耗传来,全岛丧气。在这生死存亡关头,僻处台南的刘永福义愤填膺,聚众宣誓,要与台湾共存亡,“为大清之臣,守大清之地,分内事也,万死不辞,一时千载,纵使片土之剩,一线之延,亦应保全,不令倭得。”他在极端困难的条件下,率领台南军民坚持抗日,迫使侵台日军“付出了近卫师团长北白川宫能久亲王,近卫师团第一旅团长山根信成以下四千六百四十二人阵亡的代价,花了四个月时间,才勉强占领台湾。”

——摘编自廖宗麟《刘永福在近代反侵略斗争中的功绩和地位》

(1)根据材料并结合所学知识,概括刘永福奉旨渡台帮办防务的背景。(6 分)

(2)根据材料并结合所学知识,简析刘永福在台湾反侵略方面的贡献。(9 分)