

石景山区 2019—2020 学年第一学期高三期末试卷

历史

学校_____ 姓名_____ 准考证号_____

考生须知

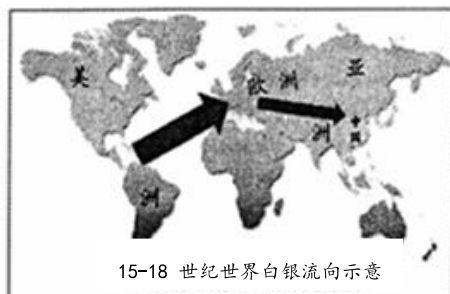
1. 本试卷共 8 页，共 28 道题，满分 100 分。考试时间 90 分钟。
2. 在答题卡上准确填写学校名称、姓名和准考证号。
3. 试题答案一律填涂或书写在答题卡上，选择题请用 2B 铅笔作答，其他试题请用黑色字迹签字笔作答，在试卷上作答无效。
4. 考试结束，请将本试卷和答题卡一并交回。

第 I 卷（选择题，共 48 分）

本卷共 24 小题，每小题 2 分，共 48 分。在每小题给出的四个选项中，只有一项是符合题目要求的。

1. “父母官”一词来源于《礼记·大学》，先秦文献中“父母”是指百姓的统治者，汉代开始民间把廉洁奉公、关怀百姓的地方官称为“父母官”。以下对“父母官”称谓认识不正确的是
 - A. 受中国传统民本思想影响
 - B. 对优秀地方官的肯定和褒誉
 - C. 促进了社会的稳定与和谐
 - D. 显示了官民阶层的不平等性
2. 钱穆认为中央集权制度能维持此大一统之局面历数千年之久而不败……直到今日，我们拥有这样一个广土众民的大国家，举世莫匹，这是中国历史之结晶品，称赞它是“中国历史上无上成绩”。以下关于中央集权制度表述正确的有
 - A. 建立中央集权制度是因为当时中国周边复杂的国际环境决定的
 - B. 中央集权制度被公认为开启了世界文明特别是政治文明的先河
 - C. 不能为中国古代社会经济的发展提供更有利的政治和文化保障
 - D. 既有利于统一多民族国家巩固和发展也保障了中华文明的延续
3. 西汉桓宽在《盐铁论》中说“铁器兵刃，天下大用，非庶众所宜事也”。早在汉初政府就曾禁止商人向岭南地区的南越王国贩卖铁器，迫使南越王赵佗三次谢罪，南方许多农业部落，纷纷请求内附，自愿改为汉郡县。这主要表明当时汉王朝
 - A. 运用经济手段，提高财政收入
 - B. 重农抑商，加强中央集权
 - C. 垄断战略资源，维护王朝统治
 - D. 削藩置郡，巩固边疆地区

4. 热播电视剧《长安十二时辰》为我们展现了大唐长安城恢弘气象，涉及到了许多历史信息。以下表述不符合史实的是
- A. 剧中十二个时辰相当于现在的十二个小时
- B. 唐朝长安城是著名的陆上丝绸之路的起点
- C. 城中的衣食住行受西北少数民族习俗影响
- D. 长安城有严格的城市治安和市场管理制度
5. 科技史家李约瑟认为，中国的科学技术水平宋代时就居世界之首，相当于 18 世纪英国工业革命前的水平。造成后来中国错过率先工业化机遇的原因有
- ①没有产权保护的 legal 体系 ②盛行家庭单位的生产模式
- ③缺乏更广阔的海内外市场 ④皇权专制得到进一步加强
- A. ①②③ B. ①②④ C. ①③④ D. ①②③④
6. 有学者认为：“任何一项制度，绝不是孤立存在的。各项制度间，必然是互相配合，形成一整套。”下列选项中符合此观点的是
- ①分封制与井田制 ②三省六部制与科举制
- ③均田制与租调制 ④内阁制与宰相制度
- A. ①②③④ B. ①②③ C. ①③④ D. ①②④
7. 导致下面图文材料中的现象出现的原因是



1400 年到 1800 年间……中国不仅是亚洲纳贡贸易体系的中心，而且在整个世界经济中即使不是中心，也占据支配地位……它吸引和吞噬了大约世界生产的白银货币的一半。

——贡德·弗兰克《白银资本》

- ①新航路开辟及早期殖民扩张 ②中国丝、茶、瓷器等商品享誉国际市场
- ③中国已经成为世界金融中心 ④明清时期中国资本主义萌芽出现并发展
- A. ①② B. ②③ C. ③④ D. ①④
8. 梁启超在《五十年中国进化概论》说：“光绪二年，有位出使英国大臣郭嵩焘，做了一部游记（命题人注：《使西纪程》）。里头有一段，大概说，现在的夷狄和从前不同，他们也有二千年的文明。噫哟！可了不得。这部书传到北京，把满朝士大夫的公愤都激起来了，人人唾骂……闹到奉旨毁版，才算完事。”直到 1891 年郭嵩焘去世，该书仍未能公开发行。该书的遭遇反映了
- A. 阻碍中国近代化的顽固势力强大 B. 洋务派的主张不合当时中国国情
- C. 郭嵩焘过于夸大和赞美西方文明 D. 洋务派主张未得到统治者的支持

9. 小说《子夜》描写 20 世纪 30 年代吴老太爷从乡下来到上海，坐进汽车里，像一具刚从棺材里爬出来的僵尸。南京路上，到处是光怪陆离的灯光和高耸的摩天大楼。最让吴老太爷大受刺激的，是一位身穿高开叉旗袍的时髦少妇……这情形，不禁让吴老太爷全身发抖。终于，吴老太爷大叫一声，昏死过去。吴老太爷的反应说明了
- A. 近代上海社会风俗全盘西化 B. 近代中国对女性束缚已解除
- C. 国人大多坚持中西合璧观念 D. 近代社会习俗变迁仍然艰难
10. “左图右史”是历史研究的基本方法。下列选项中对应正确的是
- A. 在①处打响了武装反抗国民党反动派的第一枪
- B. 在②处革命党人起义成功后建立了“中华民国”
- C. 在③处洪秀全领导了农民起义建号“太平天国”
- D. 在④处蒋介石建立国民政府背叛了国民大革命
11. 中央党校教授柳建辉在《正视抗日战争》一书中有这样一段记载：当时“华北 200 余县的抗日武装提出的任务是一个县一天打死一个鬼子，每月便合计能毙日军 6000 人……”这段记载充分说明
- A. 侵华日军力量强大，抗日战争异常艰苦
- B. 缺乏统一军事指挥，抗日武装散兵游勇
- C. 没有根据地的支持，敌强我弱力量悬殊，
- D. 没有正规军的配合，地方武装战斗力差
12. “为什么战旗美如画，英雄的鲜血染红了它”。在庆祝中华人民共和国成立 70 周年阅兵式上，战旗方队展示了各个时期荣誉功勋部队的战旗，其中在土地革命战争时期建立功勋的英雄连队是
- A. “珍宝岛战斗功臣连” B. “大渡河连”
- C. “平型关大战突击连” D. “渡江功臣连”
13. “解放战争时期中共召开的唯一的一次中央全会，会议做出的各项政策规定，不仅对迎接中国革命的胜利，而且对新中国的建设有重大作用。”这次会议指的是
- A. 中共第七次全国代表大会 B. 中共第七届中央委员会第二次全体会议
- C. 第一届全国人民代表大会 D. 中国人民政治协商会议第一届全体会议
14. 到 2022 年，我国德智体美劳育人体系将进一步完善，立德树人落实机制将进一步健全。回顾新中国成立以来教育发展历程，其中全面发展的教育方针确定是在
- A. 向社会主义过渡时期 B. “文化大革命”结束后
- C. 现代化建设新时期 D. 全面建设社会主义时期



15. 1964 年中、法两国政府发表联合公报决定建立外交关系。有人对此评论 “法国不管美国的公开威胁和抗议而承认人民中国，给了美国一记响亮的耳光。” 此评论说明
- ①中法建交是中国加强同西方国家关系的重大突破
 - ②两极格局下法国力图摆脱美国控制实现独立自主
 - ③有利于打破美国等反华势力对中国的封锁、包围
 - ④西方资本主义阵营内部出现分化，已经土崩瓦解
- A. ①②③ B. ①②④ C. ②③④ D. ①②③④
16. 美国学者约瑟夫·奈认为 “中国的经济增长不仅让发展中国家获益巨大，中国特殊的发展模式和道路也被一些国家视为可仿效的榜样。” 下列选项中对此理解有误的是
- A. 中国发展模式决定了世界走向
 - B. 各国发展道路应适应本国国情
 - C. 中国倡导互惠互利与合作共赢
 - D. 中国综合国力尚未在世界前列
17. 现代奥运会倡导 “所有国家，所有民族” 都是奥林匹克大家庭的一员。但古代希腊奥运会却对运动员的身份有严格的规定：参赛选手必须为纯正的希腊人，父母必须是希腊血统，必须是自由人，必须是男子，在道德上或政治上必须无缺点，没有不良纪录等。运动员的这些规定
- A. 反映了自我迷恋的小国寡民理想
 - B. 是为了弘扬和平竞争精神
 - C. 体现出极端的 “爱国主义” 色彩
 - D. 与希腊民主制度关系密切
18. 右图漫画说明古罗马
- A. 整个社会法律至上
 - B. 法律面前公民平等
 - C. 罗马法律保护私有财产
 - D. 区别对待公民和自由民
19. 妥协是政治的艺术，是西方民主政治得以确立和发展的一种手段。钱乘旦、陈晓律《在传统与变革之间——英国文化模式溯源》中说 “……这一次没有用对抗的手段，而是用融合的手段……在融合中产生出崭新的制度……在此后三百年中，英国再也没有发生过重大的社会动荡，取得了惊人的进步。” 材料中的 “手段” 是
- A. 1640 年处死国王查理一世
 - B. 1688 年光荣革命
 - C. 1689 年颁发《权利法案》
 - D. 1832 年议会改革



20. “德国 19 世纪历史的主要题目就是统一和自由，那时，德国还不是像法国和英国那样统一的民族国家。”推动德意志统一的因素有

- ①工业革命的开展 ②启蒙思想的影响
③强硬有力的政策 ④民族的认同意识

- A. ①②③ B. ①②④ C. ①③④ D. ①②③④

21. 下表是 1870——1913 年美、德、英、法工业产值在世界工业生产中的比重变化表。
- 出现此变化的主要原因是

年份 \ 国别	美国	德国	英国	法国
1870 年	23%	13%	32%	10%
1913 年	38%	16%	14%	6%

- A. 国家加强对经济的干预
B. 第二次工业革命的进行
C. 对世界市场的激烈争夺
D. 新兴资本主义国家崛起

22. 右图是有关美国“蓝鹰运动”的一幅漫画，NRA 是《全国工业复兴法》的英文缩写。下列对漫画解读不正确的是




- A. 有利于企业的合法规范经营
B. 防止盲目竞争引起生产过剩
C. 旨在维护工人经济政治权益
D. 通过国家干预调整劳资关系


23. 过去 40 多年来, 全世界最主要的共同趋势是经济自由化、全球化。但当今反全球化反精英主义再次掀起高潮, 这种现象说明

- ①经济全球化已陷入绝境
②欧美丧失了全球优势地位
③全球化加剧了阶层分化
④经济全球化是一把双刃剑
- A. ①②
B. ②③
C. ②④
D. ③④


24. “不主张用作品去再现生活，而是提倡从人的心理感受出发，表现生活对人的压抑和扭曲”。以下作品体现这一流派特点的是



A



B



C



D

第Ⅱ卷（非选择题，共 52 分）

本大题为非选择题，共 4 题，其中第 25 题 12 分，第 26 题 14 分，第 27 题 14 分，第 28 题 12 分。

25. 宋代书院发展兴盛。阅读下列材料，回答问题。（12 分）

材料一 唐朝覆灭，中国历史进入“五代十国”分裂时期，官学遭受破坏、庠序失教，中国开始出现一批私人创办的书院。书院的经费，得到官府的资助，也依靠民间自己筹集，主要靠学田供给。中国古人讲求诗礼传家，把读书看作一等一的大事，承载着文明和思想火花的最具代表性的“四大书院”应运而生。

材料二 应天书院位于河南省商丘，范仲淹、欧阳修、王安石、曾巩、张载、富弼等曾在此讲学或求学。《宋史》记载：“宋朝兴学，始于商丘”。“天下庠序，视此而兴”。

岳麓书院位于湖南省长沙市岳麓山脚。朱熹曾来访，与张栻论学，开书院会讲之先河，由此形成以“朱张之学”为正宗的学术传统。

白鹿洞书院，位于江西省九江市庐山五老峰南麓。南宋朱熹亲自讲学，还制定了“博学之、审问之，慎思之，明辨之，笃行之”等五条教规，此即有名的《白鹿洞书院揭示》，影响后世几百年，其办学的模式为后世效仿。

嵩阳书院，位于河南省登封嵩山南麓。先后在此讲学的有范仲淹、司马光、程颢、程颐、杨时、范纯仁等很多名儒，此后，嵩阳书院成为宋代理学的发源地之一。

——摘编自《中国古代四大书院》

材料三 宋代书院的产生和发展与当时社会经济、政治的发展，与官学、私学、科举制度及文化学术思想的演变有着密切的联系。书院颇具特色的教学和研究活动、自由争辩和讨论的学风、求真求实的问学精神等等是推动宋代学术文化发展的重要动力。

——摘编自刘玲娣《宋代书院及宋代学术文化的发展》

根据以上材料并结合所学知识，说明宋代书院兴盛的原因及意义。（12 分）

26. 阅读材料，完成下列要求。（14分）

材料一 在民族主义的感召和激荡下，英、法等民族国家先后建立。到19世纪前期，民族主义在西欧、北美取得了辉煌胜利，并为传播到整个欧洲乃至世界奠定了基础。随着资本主义的发展和工业化、现代化的迅猛进展，欧美各国原有的民族国家内部市场已容纳不下急速膨胀的生产力。于是，这些国家利用人民的民族主义情结，狂热地宣扬本民族优越论，打着“传播文明”和为本民族“谋福利”的旗号，进行野蛮的殖民侵略和掠夺，建立起帝国主义殖民体系。

——摘编自程人乾《论近代以来的世界民族主义》

（1）根据材料一，概括指出近代西方民族主义的影响。（6分）

材料二 冯天瑜指出“晚清一批仁人志士力主发展实业，争取利权，挽救民族危亡，可称之为‘经济民族主义’，因不合时宜而未能取得成效，一直作为历史之流未被人们注意，然而，它不仅热忱可感，还包含若干真理的颗粒”。

——王春风《经济民族主义研究述评》

（2）根据材料二并结合所学知识，分析导致晚清“经济民族主义”出现的原因，并概述其重要表现。（8分）

27. 阅读材料，完成下列要求。（14分）

材料 德川幕府逐一地断绝了同西方世界的联系，要使日本与世隔绝、一成不变，以便使他们的统治永存。但日本还是有了某些发展，这些发展渐渐改变了这个国家的力量对比，打破了现状。

日本社会正处于转变之中。它正经历着深刻的经济变化和社会变化，而这又酿成了政治上的紧张局势；这种紧张局势在海军准将佩里迫使日本打开贸易大门时达到极限。日本人中的很多人已充分认识到这个社会需要改造。

——摘编自斯塔夫里阿诺斯《全球通史》

(1) 依据材料并结合所学知识，概述明治维新前的日本面临的深刻变化。(8分)

(2) 结合所学知识，谈一谈明治维新期间日本是如何进行社会改造的。(6分)

28. 阅读材料，完成下列要求。(12分)

材料 港珠澳大桥被誉为圆梦桥、同心桥、自信桥、复兴桥，将促使粤港澳大湾区互联互通再进一步。但工程体量之巨大，建设条件之复杂，是以往世界同类工程都没有遇到的，其中的外海沉管隧道施工核心技术被业内人士称为“全世界最困难、最复杂的技术”，当时的中国在此领域的技术积累几乎是一片空白。

林鸣，担任岛隧工程项目总经理、总工程师。他是长跑爱好者，每天清晨5点准时开跑，风雨无阻，他说，如果跑步都不能坚持，还怎么能把世界级的超级工程坚持干下来呢？港珠澳大桥的建设面对难以承受的外方天价技术资询费用，林鸣坚信：只有走自我研发之路，才能掌握核心技术，攻克这一世界级难题。他说：“桥的价值在于承载，而人的价值在于担当。”这些年来，为了保证项目能顺利走到最后，林鸣将项目上每一个人都看作“走钢丝”的人，每一道程序都要做到“零质量隐患”。他说：“我只是一名普通的中国建设者，港珠澳大桥岛隧工程是我建筑生涯的尖端梦想。我想，如果每个行业都能做一两个世界尖端梦，那么我们的国家就能更好地实现中国梦。”

——摘编自《环球网》、《中国青年网》

(1) 根据材料并结合所学知识，概括林鸣主持港珠澳大桥工程项目的意义及面临的难题。(6分)

(2) 根据材料，说明林鸣及其团队体现的时代精神。(6分)

-