

2019~2020 学年度高三年级期中考试试题

政治试卷

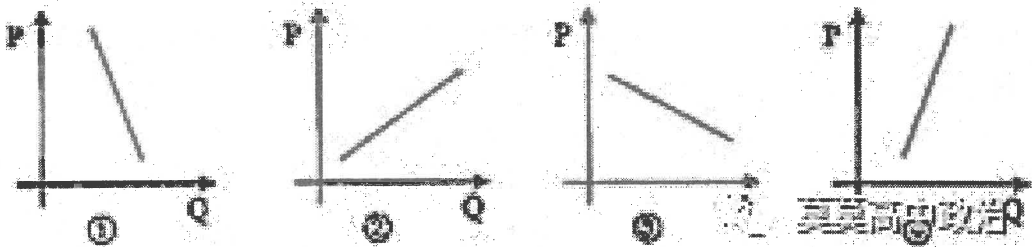
命题人：李文静 审核人：位维维

本试卷分 I 卷（选择题）和 II 卷（非选择题）两部分。选择题共 48 题，非选择题共 5 题。试卷共 8 页。考试时间 110 分钟。满分 100 分。

卷 I（选择题 共 48 分）

一、选择题（本大题共 48 小题。每小题 1 分。满分 48 分。在四个选项中，只有一项是最符合题意的。）

1. 2018 年度十大生活流行语之一——“大数据杀熟”，是指同样的商品或服务，老客户看到的价格反而比新客户要更贵的现象。从经济学上分析，“杀熟”现象存在的一个重要原因是老、新用户的需求曲线不同。据此，下列图像中（P 为价格，Q 为数量）能够反映老、新用户需求曲线的图像分别是



- A. ①② B. ①③ C. ②④ D. ③④
2. 当前，随着科技发展和人工智能的广泛应用，我国许多知名企业持续加大研发投入，在打造高质量产品的同时，大大提高了劳动生产率，取得了在全球同行业供给和需求变革中的主动权。下列推导能正确反映企业提高劳动生产率意义的是
- ①商品价值总量增加 ②单位商品价值量降低 ③个别劳动时间缩短
④提高企业经济效益 ⑤缩短社会必要劳动时间 ⑥增加商品的附加值
- A. ⑤→②→④ B. ③→①→④ C. ③→⑥→① D. ②→①→⑥

3. 人民币汇率中间价，不考虑其他因素，对图表信息认识正确的是

品种	2018 年 3 月 20 日	2018 年 12 月 20 日
美元/人民币	6.3246	6.8936

- ①人民币贬值，有孩子在美国读书的家庭支出增加
②人民币贬值，海外代购和海淘成本明显降低
③美元升值，我国原材料依赖进口的企业成本增加
④美元贬值，我国出口型企业价格竞争优势增强
- A. ①② B. ①③ C. ②③ D. ②④
4. 最新数据显示，当前世界上 90% 的二维码个人用户在中国，我国已成为名副其实的二维码大国。手机扫码支付已经渗透到国人生活中的每一个角落。扫码支付方式的流行：
- A. 说明我国已经进入了数字货币时代
B. 会减少现金使用量，方便市场交易
C. 会增加货币流通量，引发通货膨胀
D. 凸显了货币支付手段的基本职能
5. 当今世界，市场竞争日益激烈，互补品竞争战略能给企业带来独特的竞争优势，为企业的生存立足、发展壮大带来便利。下列做法属于运用该战略进行经营的是
- ①某企业投资人工智能生产线，减少人力操作
②可口可乐公司面向国际市场推出不同口味的饮品
③某企业从客户的实际需要着手，为其提供产品“套餐”
④某企业低价出售剃须刀，促使顾客购买利润更高的替换刀片
- A. ①② B. ①③ C. ③④ D. ②④
6. 消费品召回是指生产者按照规定对已售出或者提供给消费者的缺陷消费品，通过补充或修正消费说明、修理、更换、退货等方式，消除缺陷或降低安全风险的活动。2019 年 2 月，国家市场监管总局组织起草《消费品召回管理规定（征求意见稿）》，向社会公开征求意见。这一规定的制定有利于
- ①优化消费结构，提高享受资料消费比重
②保障消费者人身财产安全，维护其合法权益
③规范缺陷消费品召回，增强企业社会责任感
④为消费创造动力，促进消费者节约消费
- A. ①② B. ①④ C. ②③ D. ③④

7. 近年来,我国国有金融资本规模稳步增长,国有金融机构改革持续推进,运营效益明显提升,为促进社会主义市场经济平稳健康发展作出了重要贡献。当前要继续按照市场化原则,稳妥推进国有金融机构混合所有制改革。对此理解正确的是

- ①国有金融资本属于国家所有即全民所有的公有制形式
- ②必须保持国有金融资本在金融领域的主体地位和控制力
- ③推进国有金融机构混合所有制改革必须尊重市场经济规律
- ④推进国有金融机构公司制改革必须保证国有金融资本绝对控股

A. ①③ B. ②④ C. ②③ D. ①④

8. 近日,娃哈哈推出了价值98元的特别版营养快线,并附赠“营养快线彩妆礼盒”。泸州老窖、农夫山泉等品牌也尝试着从食品行业跨界做彩妆护肤类产品。这种做法

- ①旨在扩大品牌效应,践行以用户为中心的理念
- ②是为了吸引更多消费者,促进商品价值的实现
- ③突破传统,勇于创新,是经营战略上的大胆调整
- ④优化了产品结构,提升了企业的信誉和形象

A. ①③ B. ②④ C. ①④ D. ②③

9. 2019年4月1日,人力资源和社会保障部向社会发布了人工智能工程技术人员、云计算工程技术人员、数字化管理师、工业机器人系统运维员等13个新职业信息。这是自2015年版国家职业分类大典颁布以来发布的首批新职业。高端专业技术类新职业

- ①对劳动者的技能和素质要求更高
- ②更能体现劳动者的社会地位和价值
- ③与我国信息化催生产业结构升级有关
- ④能够保障劳动者接受职业技能培训的权利

A. ①② B. ②④ C. ①③ D. ③④

10. 目前,我国消费级无人机市场规模迅速扩大,为避免信息泄露、安全隐患等问题,反无人机市场需求将会持续增加。但现阶段我国尚未出台相关的政策以及技术标准,龙头企业也尚未显现,行业发展不规范,尚有很大的不确定性。我国反无人机行业的发展

- ①与消费需求的拉动作用密切相关
- ②受制于我国反无人机技术创新能力差的现状
- ③需要反无人机企业树立正确的经营战略
- ④需要共同发挥市场调节和宏观调控的基础性作用

A. ①② B. ①③ C. ②④ D. ③④

11. 供给价格弹性是指市场商品供给量对于价格变动作出反应的敏感程度,通常用供给量变动的幅度对价格变动幅度的比值,即供给价格弹性系数来表示。下列判断正确的是

- ①资金密集型行业经营规模改变困难,其产品的供给弹性大

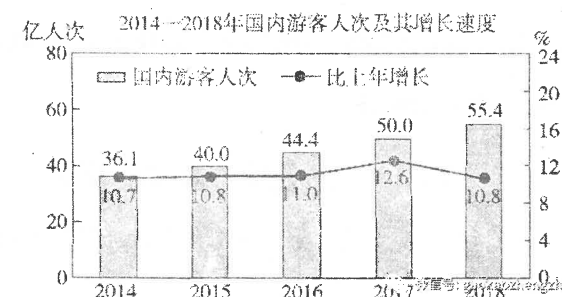
②劳动密集型行业经营规模改变容易,其产品的供给弹性大

③在农产品中,木材等商品因其生产周期较长,供给弹性大

④在农产品中,不易变质,容易储存的产品供给弹性大

A. ①③ B. ①② C. ②④ D. ③④

12. 右图为我国2014-2018年旅游业发展的数据,由此可以推断出



- ①我国旅游供给水平和旅游环境得到优化
- ②我国居民消费水平和消费质量得到提升
- ③收入差距缩小导致社会总体消费水平提高
- ④我国消费者避免了只注重物质消费的倾向

A. ①③ B. ①② C. ②④ D. ③④

13. 一段时期以来,我国方便面销量一度下降,但数据显示,2018年上半年,方便面行业销量增长4.5%,销售额增长8.6%,量价齐升,增长提速。下列对方便面行业发展“一波三折”的状况出现原因推测合理的有

- ①方便面之前销量下降与人民消费结构升级有关
- ②“外卖”市场的萎缩是导致其回暖的重要因素
- ③方便面销量回升与企业不断优化产品结构有关
- ④国家财政补贴的增加是该行业回暖的重要原因

A. ①④ B. ②③ C. ①③ D. ②④

14. 下图为某“王牌”网络营销人员整理的让客户下单的六要素。对此分析正确的是



- ①“社会认同”体现了盲目从众的消费
- ②“承诺一致”启示厂商应该诚信经营
- ③“喜好”反映了消费者的攀比心理
- ④“稀缺”折射出消费者的求异心理

A. ①③ B. ①④ C. ②③ D. ②④

15. 2019 年是中国银行和中国建设银行实施股份制改造试点 15 周年。国有独资商业银行进行股份制改造，最终成为具有国际竞争力的现代化股份制商业银行，是中国金融业一次全新的改革实践。国有独资商业银行股份制改革有利于

- ①建立良好的公司治理结构，转换经营机制
- ②使股份合作制成为公有制最主要的实现形式
- ③实现投资主体多元化，放大集体资本功能
- ④形成良好的财务约束和内在风险防范机制

A. ①④ B. ②③ C. ①③ D. ②④

16. 2019 年 4 月 16 日，习近平主席在重庆主持召开解决“两不愁三保障”突出问题座谈会并发表重要讲话。“两不愁”即不愁吃、不愁穿，“三保障”即义务教育、基本医疗、住房安全有保障。下列属于初次分配过程中有助于解决“两不愁三保障”问题的有

- ①提高种粮农民直接补贴标准 ②提高农民工最低工资标准
- ③建立农民工工资正常增长机制 ④提高当地最低生活保障标准

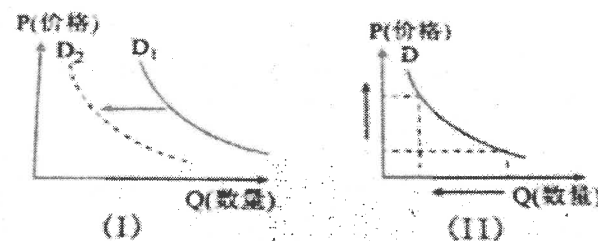
A. ①② B. ①④ C. ②③ D. ③④

17. 2018 年，我国在经济社会等多个领域取得了重大成就，国内生产总值 900309 亿元，比上年增长 6.6%；全国铁路固定资产投资完成 8082 亿元；为企业和个人减税降费 1.3 万亿元；全国棚户区住房改造基本建成 511 万套。对上述事实分析正确的是：

- ①国内生产总值不断增加反映了我国经济结构不断优化
- ②重视铁路基本建设有利于实现我国区域经济协调发展
- ③为企业减税降费有利于解决企业融资难融资贵的问题
- ④棚户区住房改造体现了财政惠民民生促公平的保障作用

A. ①② B. ①④ C. ②③ D. ②④

18. 若不考虑其他因素，用 D 表示某商品的需求曲线，下面的经济现象与图像一致的是（ ）



- ①取消新能源汽车增值税优惠对新能源汽车需求量的影响符合图（I）
- ②高铁提高运行速度对航空客运需求的影响符合图（I）
- ③煤炭限产能后煤炭价格上涨对天然气需求量的影响符合图（II）
- ④旅游景区的门票价格上调对游客需求量的影响符合图（II）

A. ①③ B. ①④ C. ②③ D. ②④

19. L 市探索农村资源变资产、资金变股金、农民变股东的“三变+产业+扶贫”的发展模式，走出了一条农业强、农村美、农民富的脱贫攻坚新路子。这一模式

- ①搭建了产业扶贫平台，有利于优化农村资源配置
- ②放大资金使用效益，有利于破解产业扶贫融资难题
- ③让农民成为债权人和受益人，拓展农民收入渠道
- ④改变我国农村基本经营制度，有利于实现共同富裕

A. ①② B. ①④ C. ②③ D. ③④

20. 互联网巨头与传统连锁零售商一起在线下致力于构建全场景智慧零售生态系统，为用户搭起随时可见、可触的智慧零售场景，满足用户多样化需求，已成为中国零售业探索的共同方向。互联网巨头纷纷布局线下零售的意义在于：

- ①日常消费品消费将更加便捷化且价格普遍低廉
- ②我国零售业运营将更加精细化且效益趋向提升
- ③消费者的消费体验将更加丰富且消费质量提高
- ④传统行业数字化能力全面提升且产品质量优化

A. ①② B. ①④ C. ②③ D. ③④

21. 2019 年国务院《政府工作报告》提出，按照竞争中性原则，在要素获取、准入许可、经济运行、政府采购和招投标等方面，对各类所有制企业平等对待。实行竞争中性原则：

- ①尊重了各类所有制企业平等的市场主体地位
- ②旨在营造各类所有制企业公平竞争的市场环境
- ③体现了民营经济是我国公有制经济的内在要素
- ④表明政府将减少干预不再主导公共资源配置

A. ①② B. ①④ C. ②③ D. ③④

22. 依据《中华人民共和国公司法》，2019 年 6 月 18 日，中国铁路总公司宣布改制成立中国国家铁路集团有限公司，这意味着铁路体制和公司架构将向着市场化进一步迈进。改制后的中国国家铁路集团有限公司：

- ①应当以其全部财产对公司的债务承担有限责任
- ②应当以其全部财产对公司的债务承担无限责任
- ③股东以其认购的股份为限对公司承担连带责任
- ④股东以其认缴的出资额为限对公司承担责任

A. ①② B. ①④ C. ②③ D. ③④

23. 2019年1月1日,《中华人民共和国电子商务法》正式施行。在平台网购,买到假货却投诉无门;商品有问题,给差评后却不断接到骚扰电话;……电子商务领域存在的乱象,或将得到有力整治。这说明
- ①我国政府对电子商务监督管理的依法履职能力和水平不断提高
②立法机关制定法律能够为我国电子商务健康发展提供有力保证
③完善我国电子商务法治化需要综合发挥全社会各种力量的作用
④我国电子商务实现有法可依是维护广大消费者利益的根本保证
- A. ①④ B. ①② C. ②③ D. ③④
24. 2019年5月,国务院提出持续开展职业技能提升行动,计划2019年进行职业技能培训1500万人次,至2021年共培训5000万人次,并且全国技能劳动者占就业人员总量比例要达到25%以上,高技能人才占技能劳动者比例要达到30%以上。开展职业技能提升行动是基于:
- ①劳动者职业能力与就业技能要求不适应,存在结构性就业矛盾
②大幅提高高技能人才的比例是增强我国核心竞争力的需要
③扩大技能就业创业就能实现稳定脱贫和有效防止返贫
④提高从业人员素质是提升服务业吸纳就业能力的保证
- A. ①② B. ①④ C. ②③ D. ③④
25. 据2019年6月28日统计数据显示,伴随着国民经济的“稳中求进”,我国快递行业完成快件量330亿件,业务量占全球40%,全行业业务收入突破4000亿元,快递企业加快布局“一带一路”。由此可推断出:
- ①收入差距缩小使得居民的消费结构明显改善
②我国经济稳定增长,人们收入不断增加
③人们消费方式的变化助推快递业持续发展
④消费观念的变化使人们的消费行为更加理性
- A. ①② B. ①④ C. ②③ D. ③④
26. 到2020年,我国将基本形成有利于绿色发展的价格机制,内容之一就是全国城市及建制镇全面建立生活垃圾处理收费制度,对居民用户实行垃圾计量收费和差别化收费(即分类投放垃圾的,适当降低收费标准)。这一举措:
- ①自觉遵循了市场经济的一般规律 ②意味着价格在绿色发展起决定作用
③充分利用了价格调节机制的灵敏性 ④表明市场配置资源主要通过价格手段
- A. ①② B. ①③ C. ②④ D. ③④

27. 2019年1月29日,十三届全国人大常委会第八次会议继续审议外商投资法草案。面对进一步扩大改革开放,早期制定的“外资三法”已难以适应构建开放型经济新体制的需要,亟需在总结实践经验的基础上,制定统一的外资基础性法律,为新形势下进一步扩大对外开放,积极有效利用外资提供更加有力的法治保障。制定外商投资法:
- ①是进一步扩大对外开放、推动形成全面开放新格局战略部署的重要举措
②旨在通过保护外商投资合法权益,展现中国坚定不移扩大对外开放的决心
③体现了上层建筑适合经济基础状况,必将促进生产力的发展
④有利于完善涉外法律法规体系,完善法治化国际化便利化营商环境
- A. ①② B. ①③ C. ②④ D. ①④
28. 下表是2019年中国企业与美国企业世界500强榜单的相关数据。据此可以推断:

	数量(家)	销售收益率(%)	净资产收益率.(%)
中国企业	129	5.3	9.9
美国企业	121	7.7	15

注:近10年来,我国上市公司并购重组交易数量从2006年648起增加至2016年2486起。

- ①中国企业整合全球资源的能力高于美国企业
②中国企业与美国企业盈利能力的差距不断扩大
③我国企业的兼并重组战略有助于提升其规模和竞争力
④内需市场快速发展,为壮大中国企业提供了重要动力
- A. ①② B. ①④ C. ②③ D. ③④
29. 央行发布消息称,决定于2019年9月16日下调金融机构存款准备金率0.5个百分点(不含财务公司、金融租赁公司和汽车金融公司)。本次降准更多的是针对实体经济领域,叠加目前房地产市场的监管政策依然趋紧,预计本次降准很难使得资金大规模流入房地产市场。央行降准对中国经济发展产生积极影响的路径:
- ①央行定向降准—释放流动性—引导资金流向制造业—夯实现代经济体系基础
②央行全面降准—流动性增强—挖掘消费潜力和活力—物价上涨压力不断增加
③央行定向降准—存贷款利率下调—降低小微企业经营风险—激发市场的活力
④央行全面降准—存贷款利率下调—股票价格上涨—促进资金融通、提高使用效率
- A. ①③ B. ①④ C. ②③ D. ②④

30. 为实施精准扶贫,内蒙古某旗推出“保险+期货+订单农业+扶贫”的农业收入保险项目,为农户防范种植风险和增加种植收入提供保障。这一项目的意义在于:
- ①整合资源,推动扶贫方式创新 ②释放需求,增加农户的投资理财收益
③形成合力,扩大农业企业规模 ④分散风险,激发农业农民生产积极性
- A. ①② B. ①④ C. ②③ D. ③④
31. 2019年8月18日,《中共中央国务院关于支持深圳建设中国特色社会主义先行示范区的意见》发布。《意见》强调,支持深圳建设中国特色社会主义先行示范区,有利于在更高起点、更高层次、更高目标上推进改革开放,形成全面深化改革、全面扩大开放新格局。支持深圳建设中国特色社会主义先行示范区旨在:
- ①深入参与国际经济竞争与合作,积极落实“走出去”战略
②将深圳建设成为竞争力、创新力、影响力卓越的全球标杆城市
③为全球经济稳定和增长提供了持续强大的推动力
④扩大开放,建立与国际接轨的开放型经济新体制
- A. ①③ B. ①④ C. ②③ D. ②④
32. 2019年1月—7月,新疆旅游人数和旅游总消费持续增长。累计国内外游客7 833. 51万人次,同比增长38. 72%;旅游总消费1 214. 48亿元,同比增长40. 72%。新疆旅游总消费持续增长将带来的影响是:
- A. 居民收入提高→增强居民消费预期→促进享受型消费发展
B. 促进相关产业发展→扩大消费需求→生产供给增加
C. 扩大内部需求→刺激旅游业发展→拉动经济增长
D. 消费需求增加→相关企业扩大规模→企业盈利能力增强
33. 2019年8月份,我国多地天气以高温为“主角”,局部地区最高气温可达40℃。伴随天气一同升温的还有“高温津贴”的话题,受“政出多门”、职责不清、认识误区、侥幸心理等因素影响,有些地区和行业存在拿西瓜、绿豆汤替代高温津贴的现象,高温津贴发放打了折扣。对此理解正确的是:
- ①此举侵害了劳动者合法权益,不利于劳动者积极性的调动
②劳动者要不断增强维权意识,消除影响平等就业的制度障碍
③企业没有真正遵守市场道德,需要增强社会责任的担当意识
④劳动监察部门要加大检查力度,不断增加高温福利发放额度
- A. ①② B. ①③ C. ②④ D. ③④
34. 2018年11月,上海证券交易所发布《上市公司重大违法强制退市实施办法》。据此,上证所将对有重大违法行为、损害国家利益、社会公众利益的上市公司予以强制退市处罚。上

高三政治期中试卷

交所这一规定

- ①运用了法律手段,有利于企业增强社会责任感
②属于行政手段,旨在促使企业守法经营
③有利于维护市场秩序,倒逼企业健康发展
④有助于推动企业建立现代企业制度,完善法人治理结构
- A. ①② B. ①③ C. ②③ D. ②④
35. 为贯彻落实中央经济工作会议精神,顺应居民消费升级大趋势,进一步优化供给,促进形成强大国内市场,国家发展改革委同有关部门共同研究制定了《进一步优化供给推动消费平稳增长促进形成强大国内市场的实施方案(2019年)》。下列能扩大国内市场的财政措施有:
- ①优化消费补贴,促进消费升级 ②放宽服务消费领域市场准入
③发展消费金融,挖掘消费潜力 ④落实个税专项附加扣除政策
- A. ①② B. ①④ C. ②③ D. ③④
36. 2019年全年我国将减轻企业税负和社保缴费负担近2万亿元。下表为减税降费的部分措施。
- | 2019年减税降费类目 | 2019年减税降费内容 |
|-------------|--------------------------|
| 制造业 | 从16%下降到13% |
| 交通运输业、建筑业 | 从10%下降到9% |
| 适用6%的行业 | 对生产、生活性服务业增加税收抵扣 |
| 小规模纳税人 | 增值税起征点从月销售额3万元提高到10万元 |
| 电价 | 降低制造业用电成本、一般工商业平均电价降低10% |
- 从上表的信息中可以看出()
- ①国家通过经济手段,大力支持实体经济发展
②普惠性减税与结构性减税并举,减轻企业负担
③提高小规模纳税人增值税起征点,扩大企业规模
④降低制造业和一般工商业用电成本,提高企业效益
- A. ①② B. ①③ C. ②④ D. ③④
37. 2018年12月,备受关注的《市场准入负面清单(2018版)》正式公布,这标志着我国全面实施市场准入负面清单制度。负面清单列明了企业不能投资的领域和产业,在负面清单的基础上,各类市场主体可以依法平等进入清单之外的领域。我国实施市场准入负面清单制度
- ①能让市场规则公平开放透明 ②是形成良好的市场秩序之需
③能有效解决市场调节的不足 ④能防止出现市场失灵的现象
- A. ①② B. ①③ C. ②④ D. ③④

第5页 共8页

38. 党的十八大以来,习近平总书记站在全面建成小康社会、实现中华民族伟大复兴中国梦的战略高度,把脱贫攻坚摆到了治国理政的突出位置,确保到2020年我国现行标准下农村贫困人口实现脱贫,贫困县全部摘帽,让贫困人口和贫困地区同全国一道进入全面小康社会。实施脱贫攻坚战略,开展精准脱贫
- ①是贯彻绿色发展理念的突出体现 ②是贯彻共享发展理念的必然要求
③是完善社会保障体系的重要举措 ④是实现共同富裕目标的必然要求
- A. ①③ B. ①④ C. ②③ D. ②④
39. 在经济全球化深入发展的同时,贸易保护主义等逆全球化思潮有所抬头。对此理解正确的是
- ①总体而言,经济全球化符合经济规律,符合各方利益
②经济全球化大方向是正确的,同时也存在着一些问题
③发展中国家应维护经济安全,坚决抵制全球化
④经济全球化应在我国的主导下进行
- A. ①② B. ③④ C. ①④ D. ②④
40. 国家发改委、商务部发布的《外商投资准入特别管理措施(负面清单)(2019年版)》指出,自2019年7月30日起,外资进入船舶代理、城市燃气、电影院、演出经纪机构、增值电信、油气勘探开发等领域的限制将进一步放宽或取消。上述举措对我国的影响是
- ①促进资本全球化,推动经济全球化的发展
②促进国内市场竞争,提升中国相关产业的发展水平
③发挥外资在我国技术进步、产业发展、结构优化中的积极作用
④放开我国对外商投资的管制,优化营商环境
- A. ①② B. ①④ C. ②③ D. ③④
41. 2019年5月10日,李克强总理就减税降费政策实施情况听取企业负责人意见建议。他强调,减税降费是全年重点工作,要持续用力,加快推进,落实到位。减税降费:
- ①是优化营商环境、激发市场主体活力的重要举措
②有利于降低制度性交易成本,稳增长、稳就业
③是我国政府调节个人收入分配、实现社会公平的体现
④说明科学的货币政策能够固本培元、增强经济发展后劲
- A. ①② B. ②③ C. ①④ D. ③④
42. 2019年4月28日,国务院印发的《改革国有资本授权经营体制方案》指出,要坚持党的领导,坚持和完善社会主义基本经济制度,坚持社会主义市场经济改革方向,以管资本为主加强国有资产监管,切实转变出资人代表机构职能和履职方式,建成与中国特色现代国有企业制度相适应的国有资本授权经营体制。改革国有资本授权经营体制要:
- ①坚持放管结合完善机制,促进国有资产保值增值
②坚持党的领导,确保国有企业更好地贯彻落实中央政策

- ③坚持政企合一,最大限度减少政府对市场活动的直接干预
④坚持基本经济制度,毫无保留支持公有经济和非公经济发展

A. ①② B. ①④ C. ②③ D. ③④

43. 据财政部官网发布的公告显示,2019年3月10日发行的第一期和第二期国债最大发行总额300亿元,其中,第一期期限为3年,最大发行额180亿元,票面年利率4%;第二期期限为5年,最大发行额120亿元,票面年利率4.27%。下列对国债认识正确的有:
- ①国债流动性强,方便灵活支取
②国债具有信用等级高、不可转让等特点
③发行国债是国家取得财政收入的重要形式
④国债利率高低受期限长短、市场利率等因素影响
- A. ①② B. ①④ C. ②③ D. ③④
44. 保持社会总需求与总供给的平衡,是国民经济持续快速健康发展的需要。当社会总需求严重小于社会总供给时,会引起社会商品价格总水平持续下跌,失业增多,企业实际存货水平上升,国民经济增长缓慢甚至停滞等。下列可以增加我国社会总需求的是:
- ①我国进口的国外高档汽车
②某民企投资七千万建设新工厂
③五一小长假国人的文化旅游消费
④我国某公司生产新型节能建材
- A. ①③ B. ①④ C. ②③ D. ②④
45. 2019年5月22日,财政部、税务总局正式发布公告,给予集成电路设计和软件产业企业所得税优惠。公告指出,在2018年12月31日前白获利年度起计算优惠期,第一年至第二年免征企业所得税,第三年至第五年按照25%的法定税率减半征收企业所得税,并享受至期满为止。下列对此认识正确的有:
- ①企业所得税的纳税人是企业,负税人是购买芯片的消费者
②在税优政策的支持下,股市芯片和软件板块有持续活跃的可能
③政策出台使该产业成为支撑社会发展的战略性、基础性产业
④这表明税收是调节经济的重要杠杆,有利于优化资源配置
- A. ①③ B. ①④ C. ②③ D. ②④

46. 近年来,四川省在乡村振兴战略实施过程中,增强党的领导,创新“自治、法治、德治”的乡村治理实现形式,有效地推动了政府、社会组织、村民等多方主体在社会治理中发挥作用,充分激发了乡村社会活力。推进乡村治理的意义在于
- ①发扬基层民主,深化村民自治实践 ②保证多方主体依法行使国家权力
③创新乡村治理中的组织体系 ④夯实乡村振兴的基层治理基础
- A. ①② B. ①④ C. ②③ D. ③④
47. 《重大行政决策程序暂行条例》于2019年9月1日起施行。该《条例》对重大行政决策事项范围、重大行政决策的作出和调整、重大行政决策责任追究等方面作出了具体规定。该条例的出台旨在
- ①健全科学民主依法决策机制,规范重大行政决策行为
②尊重公民的知情权、参与权、表达权和监督权
③建立起全面的行政监督体系,推进政务公开
④推进依法行政,建设高效诚信的法治政府
- A. ①② B. ①④ C. ②③ D. ③④
48. 截至2019年6月,我国援藏各省份累计组织1.8万多名干部和专业技术人员进藏,累计实施援藏项目1万多个、落实援藏资金超过400亿元,有力支持了西藏的扶贫发展。材料体现了
- ①西藏人民的生存权和发展权得到了制度的保障
②支援省份的帮助和扶持是西藏地区脱贫发展的重要途径
③我国坚持各民族共同繁荣原则,努力实现共同富裕
④人才强国战略在西藏地区得到了全面的贯彻和体现
- A. ①② B. ①④ C. ②③ D. ③④

卷II (非选择题 共52分)

(认真审题并请将答案写在答题纸上)

二、非选择题(49题12分,50题8分,51题8分,52题12分,53题12分)

49. 阅读材料,完成下列要求。

创新是引领发展的第一动力,科技创新是国家竞争力的核心。

材料 近年来,我国经济的发展带动了信息产业的超高速发展。截止2018年底,我国网民规模达8.29亿人,互联网普及率达59.6%,超过全球平均水平2.6个百分点。据预测,5G时代,中国将成为移动用户数增长最多的国家。

2013年,工信部、发改委和科技部组织成立了“IMT-2020(5G)推进组”,与欧美日韩等国家建立5G交流与合作机制,加强与诺基亚、高通等国外企业的合作。2015年,我国推出“中国制造2025”国家战略,提出要全面突破5G技术。目前,华为等通信巨头频频完成技术突破,成为5G技术的引领者。在5G技术及服务领域,中国的相关专利申请件数占全球34%,居全球第一。

5G技术的运用不仅加快了基站、天线、光缆、芯片、射频器件等通信设备相关产业的发展,也有力推动远程医疗、工业控制、远程驾驶、智慧城市、智慧家居等多种应用走进了人们的生活。

结合材料,运用经济知识分析我国5G技术快速发展的驱动因素。(12分)

50. 阅读材料，完成下列要求。

党的十九大报告首提“乡村振兴战略。”并把它列为决胜全面建成小康社会需要实施的七大战略之一。庄严地写入党章。中央农村工作会议和中央一号文件对此全面部署。

材料 目前，城乡在居民收入和消费、基础设施和基本公共服务、居民需求等方面都存在一定的差距。同时，城镇居民希望农村能够提供清洁的空气、洁净的水源、恬静的田园风光等生态产品；农村居民希望有稳定的就业和收入、完善的基础设施、公共服务、可靠的社会保障，过上有尊严的生活，这些新的期待都要求全面振兴乡村。

运用《经济生活》知识，依据材料，分析我国为什么要实施乡村振兴战略？（8分）

51. 阅读材料，完成下列要求。

材料：改革开放以来，我国打破地区封锁和行业垄断，清除市场壁垒，竞争政策不断发展完善。2008年开始实施的《反垄断法》对滥用行政权力排除、限制竞争做了明确规定。2016年国务院印发的《关于在市场体系建设中建立公平竞争审查制度的意见》规定，政府出台政策措施，要进行公平竞争审查，防止出台排除、限制竞争的政策措施，逐步清理废除妨碍全国统一市场和公平竞争的规定和做法。2018年12月，中央经济工作会议正式确立了竞争政策的基础性地位。

强化竞争政策的基础性地位是企业高质量发展的助推器。结合材料和所学经济知识对此加以说明。（8分）

52. 阅读材料，完成下列要求。

材料 2018年11月23日港珠澳大桥开通仪式在广东珠海举行。港珠澳大桥工程总投资约1200亿元，其中主体工程造价约480亿元，由中央政府支持的资金加粤港澳三地政府投入的资本金共204亿元，还有276亿元则由粤港澳三方共同组建的项目管理机构通过贷款的融资方式解决，待大桥建成后实行收费还贷。港珠澳大桥联通澳门、香港与广东九市，形成一个规模庞大的超级城市群。大桥的贯通使三地的人流、物流、资金流和信息流大大畅通，产品综合运输成本下降，人员往返便捷，购物消费选择余地更大。三地在经济贸易、科技创新、旅游观光、人文交流等多个领域进行深度合作，还将形成一个全球性的产业走廊，粤港澳大湾区走向世界将更加快捷、便捷。

结合材料，运用《经济生活》的知识分析港珠澳大桥建设成功的原因及意义。（12分）

53. 阅读材料，完成下列要求。（12分）

玛多，藏语意为“黄河源头”。位于青海省果洛藏族自治州的玛多县，为保护美丽的生态环境，推行“党建+生态环境保护”，构筑生态文明建设坚强堡垒。

玛多县着力发挥党的建设在生态建设中的重要作用，把党的基层组织活力转化为生态环境保护的内在动力。通过专题辅导、讲座等形式，让各级党员领导干部树立“玛多最大的价值在生态、最大的责任在生态、最大的潜力在生态”的理念。调动全县1400多名党员引领生态文明创建工作，开展无职党员设岗定责，设立“生态环境巡查监督岗”。实行生态环境保护工作“党政同责、一岗双责”，各级党组织把生态管护、生态恢复治理、生态保护作为第一责任，建立生态环境保护长效机制。

结合材料和政治生活知识，说明玛多县推行的“党建+”在生态环境保护中发挥了怎样的政治优势。（12分）