

## 2019年汕头市普通高考第二次模拟考试试题

## 文科综合

## 注意事项:

1. 本试卷分第Ⅰ卷(选择题)和第Ⅱ卷(非选择题)两部分。答题前,考生务必将自己的姓名、准考证号填在本试卷和答题卡相应位置上。
2. 回答第Ⅰ卷时,选出每小题答案后,用铅笔把答题卡上对应题目的答案标号涂黑,如需改动,用橡皮擦干净后,再选涂其他答案标号。写在本试卷上无效。
3. 回答第Ⅱ卷时,将答案写在答题卡,写在本试卷上无效。
4. 考试结束后,将本试卷和答题卡一并交回。

## 第Ⅰ卷

本卷共35小题,每小题4分,共140分。在每小题给出的四个选项中,只有一项是符合题目要求的。

L集团是世界知名的纺织服装巨头,其市场定位中高端。该集团采用“虚拟供应链”模式,直接充当客户供应商的角色,生产任务以外包的形式交给其它有实力的企业进行,公司负责统筹并密切参与整个生产流程。“如果获得来自欧洲的成衣订单,公司从韩国买纱并运往台湾进行纺织和染色,到中国订购拉链,之后把纱和拉链等运到泰国进行生产”。图1为L集团的供应链管理服务模型。完成1~3题。

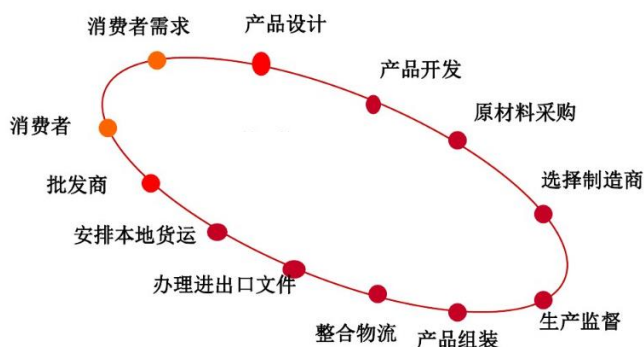


图1

1. 根据材料,“虚拟供应链”的核心是  
A. 消费者需求      B. 产品开发      C. 产品组装      D. 原材料采购
2. L集团把纱和拉链等运到泰国进行服装生产主要考虑的因素是  
A. 市场      B. 劳动力      C. 技术      D. 原料
3. L集团采用“虚拟供应链”模式的主要目的是

- A. 组建跨国集团，开拓世界市场
- B. 充分利用各地优势条件，实现产品款式多样化
- C. 专注于自身的核心优势，提高市场竞争力
- D. 扩大生产规模，增加产品供应量

我国毛乌素沙漠东南缘的萨拉乌苏河流域，地处黄土高原与毛乌素沙漠的过渡带，蕴藏着丰富的晚第四纪气候环境演变的地质信息。图2为距今2.3~1万年期间萨拉乌苏河流域米浪沟湾地层剖面示意图，其中黑垆土是发育于黄土母质上的一种土壤。读图完成4~6题。

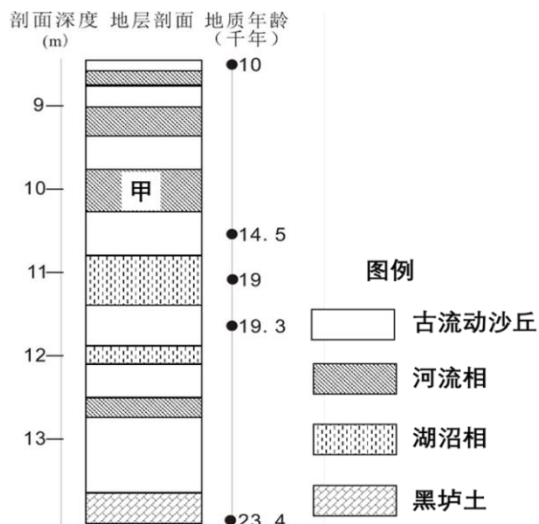


图2

4. 根据材料推测距今1.9万年时期萨拉乌苏河流域的自然环境可能是
- A. 气候湿热，出现雨林
  - B. 气候干热，沙漠扩张
  - C. 气候暖湿，湿地增加
  - D. 气候干冷，出现针叶林
5. 沉积速率是指单位时间内的沉积物厚度。根据材料分析，萨拉乌苏河流域米浪沟湾平均沉积速率最大的时期为
- A. 距今2.34~1.93万年
  - B. 距今1.93~1.9万年
  - C. 距今1.9~1.45万年
  - D. 距今1.45~1.0万年
6. 地层剖面示意图中甲时期的大气环流特点是
- A. 受西北季风影响增强
  - B. 受东南季风影响增强
  - C. 受东南信风影响增强
  - D. 受河陆风影响增强

国内外学者运用智能交通卡数据(SCD)研究多个城市轨道交通的热点问题。地铁智能交通卡数据记录了智能交通卡卡号、刷卡进站站点和时间、乘坐线路、刷卡出站站点和时间。基于这些数据，研究人员以半小时为时间间隔统计了2014年4月14日北京市进入和离开地铁的乘客数量(图3)。根据材料，完成7~9题。

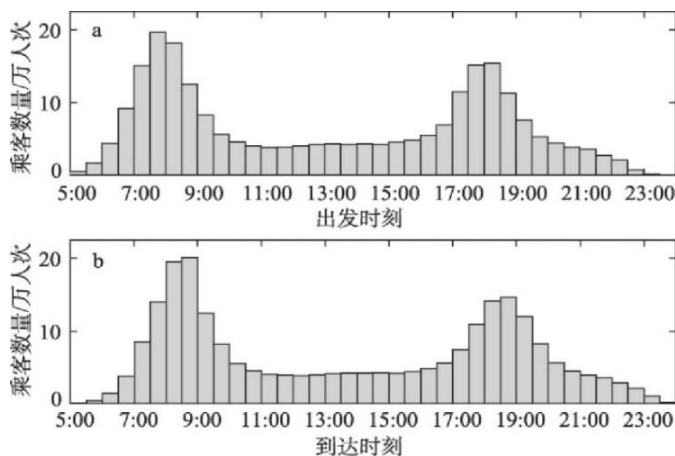


图3

7. 运用地铁智能交通卡数据进行地铁客流时空分布研究具有的优势不包括
- 数据详细地记录了居民出行的全部轨迹
  - 数据结构简明，只包含地铁出行的客流
  - 以地铁站点信息为基础，可兼容其他统计数据
  - 数据详实、精确地记录了乘客的检入和检出时间与地点
8. 根据客流量最高峰值的对比，北京地铁客流量的晚高峰拥挤程度低于早高峰，这是由于
- 乘客上班出行时间弹性较大
  - 乘客上班的交通方式更加多样
  - 乘客下班的交通方式更加多样
  - 乘客下班出行时间弹性较大
9. 从出发与到达时刻客流量的相关度，可以推测出大部分乘客的乘车时长约为
- 半小时
  - 2小时
  - 4小时
  - 10小时

位于印度洋的查戈斯群岛拥有世界最大珊瑚礁，生活着成群的海鸟。19世纪老鼠被带至该群岛的部分岛屿，鼠患严重的岛屿珊瑚礁遭受了巨大的破坏。科研人员发现无鼠岛生态系统的含氮量是鼠患岛的2.5倍。据此完成10~11题。

10. 导致鼠患岛的珊瑚礁遭受巨大破坏的主要原因是
- 老鼠啃噬珊瑚礁
  - 老鼠啃食海草、藻类，危害珊瑚礁
  - 老鼠导致鸟类大量减少
  - 老鼠的粪便污染珊瑚礁
11. 恢复鼠患岛上含氮量的措施是
- 植树造林
  - 从邻岛引进鸟粪
  - 加强鸟类的监测
  - 大规模灭鼠

12. 假设其他条件不变，下列选项与图4反映的信息相符合的是

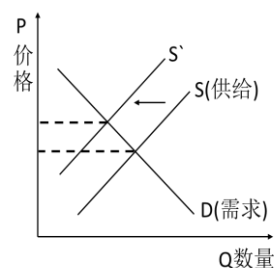


图4

13. 2019年及更长的一段时间，中国将更多地培育经济发展的新动能，将进一步推进“三+”，即“互联网+”、“大数据+”、“智能+”。“三+”时代的到来有利于企业
- ①转变经营战略，专注网络销售
  - ②发现有效需求，改善资源分配
  - ③承担社会责任，提高市场价值
  - ④提高生产效率，改变分工格局
- ①②
  - ②③
  - ②④
  - ③④

14. 经国家统计局核算，我国2018年国民经济统计数据如表所示。

| GDP增长率 | 最终消费支出<br>对GDP增长贡献率 | 第三产业增加值<br>对GDP增长贡献率 | 高技术制造业<br>增长率 |
|--------|---------------------|----------------------|---------------|
| 6.6%   | 76.2%               | 59.7%                | 11.7%         |

据此可以推断出

- ①国民经济升级，增长转向高速增长阶段      ②需求结构优化，消费成为增长主要驱动  
③消费结构升级，居民服务消费较快增长      ④产业结构升级，科技成为发展第一动力  
A. ①②      B. ②③      C. ③④      D. ①④

15. 首届中国国际进口博览会展出数万件世界一流的展品，涵盖了全球最先进的智能及高端装备，世界一流的汽车、家电、日用消费品，来自五大洲的172个国家、地区参会，成交额达578亿美元。中国国际进口博览会将服务经济社会发展全局，服务对外开放战略，其发挥作用的路径是

- ①扩大中高端供给---促进消费转型升级---满足人民群众美好生活需要  
②进口先进技术设备---实现自主创新---深化供给侧结构性改革  
③优化我国贸易环境---扩大外商投资---提高开放型经济发展水平  
④搭建公共平台---分享中国发展机遇---促进开放发展、合作共赢  
A. ①②      B. ②③      C. ②④      D. ①④

16. 过去，群众千方百计托关系打听案件进展，如今，法院通过网络平台主动、及时公开审判流程信息；过去，判决书只有双方当事人能看到，如今，公众对判决进行类案分析已经成为常态。这些举措有利于

- ①完善国家监察体制      ②进一步推进政务公开  
③加强公民与社会监督      ④提升审判机关公信力  
A. ①②      B. ①③      C. ②③      D. ③④

17. 2018年10月，全国人大常委会首次审议国务院关于国有资产管理情况的年度综合报告，为管好用好国有资产加上一道“安全门”。全国人大常委会的这次审议是基于

- ①全国人大常委会依法行使审议权、监督权      ②国务院是全国人大常委会的职能部门  
③全国人大常委会勇担责任，对民负责      ④人民代表大会制度实行民主集中制  
A. ①②      B. ③④      C. ②③      D. ①④

18. 5年实践表明，“一带一路”参与各国携手应对世界经济面临的挑战，开创发展新机遇，谋求发展新动力，拓展发展新空间，实现了优势互补、互利共赢，“一带一路”正成为一条繁荣之路、开放之路、创新之路。各国共建“一带一路”

- ①说明和平问题成为当今时代的主题  
②为完善全球治理体系变革提供了新思路  
③将推动世界多极化、经济全球化深入发展  
④表明共同利益是国际交往的出发点和落脚点  
A. ②③      B. ①④      C. ①③      D. ②④

19. 无论是深受年轻观众喜欢的电视节目《上新了·故宫》，抑或是“故宫淘宝”上那些妙趣横生的文创产品、故宫微博上那些“萌萌哒”的“段子”……进入网络时代，故宫仿佛开始了“逆生长”，不断以新的方式，走进公众尤其是年轻人的生活。故宫的“逆生长”说明

- ①必须坚持优秀传统文化的创造性转化和创新性发展
- ②大众传媒的运用必将促进文化的传播、继承和发展
- ③必须立足人民群众，关注人民群众的精神文化需求
- ④必须深入推动文化体制改革，不断增强文化创造力

A. ①②                      B. ①③                      C. ②③                      D. ③④

20. 习近平总书记指出，山水林田湖草是一个生命共同体，人的命脉在田，田的命脉在水，水的命脉在山，山的命脉在土，土的命脉在林和草，这个生命共同体是人类生存发展的物质基础。生命共同体的思想蕴含的道理是

- ①人类社会是客观的，其存在与发展不以人的意志为转移
- ②生态环境的保护要善于抓住重点、把握主流、多措并举
- ③生产方式决定着社会的性质和面貌，决定人类社会发展
- ④生态是统一的系统，是相互依存、紧密联系的有机链条

A. ②③                      B. ①③                      C. ①④                      D. ①②

21. “居安思危，思则有备，有备无患”，坚持底线思维、增强忧患意识，是中国共产党战胜风险挑战、不断从胜利走向胜利的重要思想方法、工作方法。要坚持这种方法的哲学依据是

- ①坚持实践第一的观点，勇于探索
- ②正确发挥意识的能动性，未雨绸缪
- ③事物是质与量的统一体，突破关键
- ④矛盾双方既对立又统一，化危解难

A. ①③                      B. ②④                      C. ①②                      D. ③④

22. 燕京八绝之一的景泰蓝，以贵重金属和天然矿物质釉料为原材料，集聚了冶金、雕刻、绘画、美术、镶嵌等传统工艺。每一件器物从设计到制作，要经过7道工序、108道流程，需要匠人密切的合作，是对人脑力和体力的双重考验，这才使得景泰蓝具有宝石般的光泽和质感。材料体现的唯物辩证法道理是

- ①作品制作需要上好的原料等客观条件，但更需要匠人发挥主观能动性
- ②匠人们有机地集聚多种传统工艺，把握了事物之间的具体联系
- ③作品从设计到制成是一个有机整体，需要统筹安排、有序配合方能完成
- ④批判继承传统工艺，即保留又克服，实现传统工艺的创新性发展

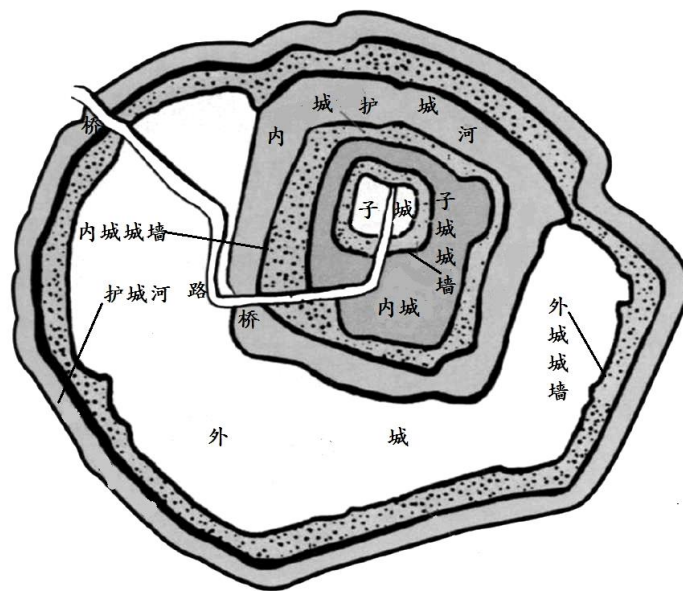
A. ①②                      B. ②④                      C. ②③                      D. ③④

23. “一座岛，两个人，三生不离。”王继才夫妇默默坚守开山岛32年的事迹，经媒体报道后，感动了无数人。这座“馒头大的岛”，缺食少淡水，石多泥土少，飞鸟不做窝，台风时常扰。王继才夫妇何以能在这里深深扎下根？他们的回答是：“守岛就是守家，国安才能家安。”王继才的事迹给我们的哲学启示是

- ①价值观影响人生道路的选择
- ②在奉献中实现人的自我价值
- ③主观能动性的发挥决定人生价值的实现
- ④人生价值的实现离不开艰苦奋斗的精神

A. ①②                      B. ②④                      C. ①③                      D. ①④

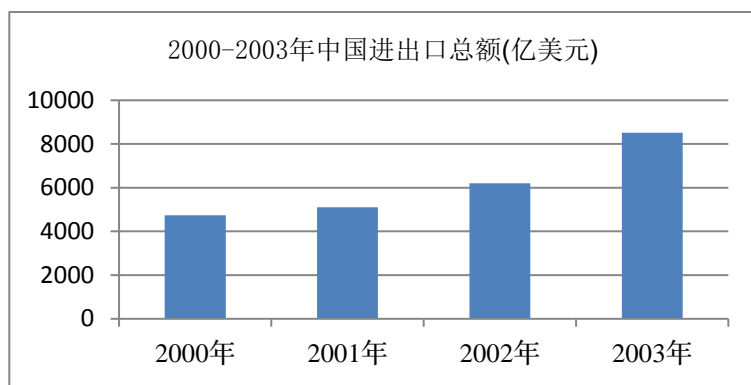
24. 下图为春秋后期吴国属地淹城的平面图，该城的设计规划体现了突出的实用价值。



该图反映了春秋后期

- A. 城市商品经济高度发展
  - B. 皇权至上的观念逐渐形成
  - C. 社会动荡战乱频繁的政局
  - D. 中央集权制度的雏形出现
25. 东汉史官班固认为长安的山河天险孕育了秦朝的暴政，西汉建都长安只是权宜之计，而东汉都城洛阳是周公“制礼作乐”的地方，是天下的中心，定都于此接续了正统，迎来了太平盛世。班固论证东汉合法性的理据反映出
- A. 秦朝暴政与地理环境密切相关
  - B. 东汉延续了西汉的主流思想
  - C. 都城选址不当导致了西汉灭亡
  - D. 东汉恢复了西周的礼乐制度
26. 唐末，财经部门出现了固定的职官机构即度支、户部和盐铁转运使。财税大宗都由盐铁转运使和度支使掌管，户部使在三司中是相对清闲的职位。据此可知，唐末财政机构改革
- A. 有效避免了藩镇势力过度膨胀
  - B. 加剧了皇权与相权的矛盾
  - C. 对宋代制度设计产生重要影响
  - D. 导致三省六部制名存实亡
27. 宋元以前，我国江北、江南广大地区农民既种田又养蚕，并按规定上缴谷物和布帛等产品给国家。明朝中期以后杭州、嘉兴、湖州和珠三角一带许多农民专事蚕桑，而其他许多地区“妇女无工于蚕事”。这一变化发生的背景是，明代中后期
- A. 政府调整了赋税缴纳方式
  - B. 环境气候发生剧烈变化
  - C. 南方已成为全国经济中心
  - D. 海上丝绸之路逐步兴起
28. 1898年6月，清政府宣布“废八股，兴西学”，结果在民间引起轩然大波，三个月后清政府恢复八股。1901年清政府再次宣布废除八股取士，民间反对声浪却大不如前，八股取士得以废除。这一变化说明
- A. 侵华战争激发了国人救亡意识
  - B. 变法图存成为统治阶层共识
  - C. 西学赢得知识阶层的广泛认同
  - D. 中体西用思想成为社会主流

29. 某史书写道：“20世纪40年代，云南省主席向国民政府反映说，惯吃牛肉的美军吃光了云南的耕牛，破坏了当地的农业生产。”该史书的这一历史叙述
- A. 否定了美军在抗战中发挥的作用                      B. 为日军的战略进攻极力辩护
- C. 全面评价了美军驻华产生的影响                      D. 丰富了抗日战争研究的视角
30. 1950年统计数据显示，辽宁本溪和鞍山钢铁产量占全国产量80%，沈阳拥有2000多家工厂，200多种工业。这些工业中心电力供应主要来自鸭绿江水电站。这说明，当时
- A. 苏联援助发挥了重要作用                      B. 巩固国防安全十分迫切
- C. 一五计划取得了巨大成就                      D. 形成了合理的工业布局
31. 图：



- 上述现象说明，当时我国
- A. 国企改革成效显著                      B. 对外开放进入了新阶段
- C. 综合国力迅速增强                      D. 工业生产能力显著提升
32. 西汉司马迁自述撰写《史记》的目的是“欲以究天人之际，通古今之变”，而古希腊希罗多德自述其写作《历史》的目的是“为了保存人类的功业，使之不致由于年深日久而被人们遗忘”。由此可知，两者的史学思想都
- A. 受各自政治、文化环境影响                      B. 包涵了强调人伦道德的内容
- C. 体现了以人为本的价值理念                      D. 重视记述社会生活方式变迁
33. 18世纪末，同法国作斗争几乎成为欧洲各国一切国际会议和外交谈判的中心问题。这反映了当时法国
- A. 工业生产领先欧洲
- B. 实行殖民扩张政策
- C. 掀起反封建的浪潮
- D. 工人运动此起彼伏
34. 英国诗人雪莱被恩格斯称为“天才的预言家”，右图内容节选自雪莱1819年创作的《致英格兰人的歌》。上述作品反映了当时英国

英格兰人，你们为何  
要为奴役你们的老爷耕作？  
为何要用辛苦和细心  
去纺织暴君们身着的衣锦？  
.....  
你们蜷缩于地窖、窑洞与陋屋，  
你们修的厅堂，他人居住。  
为啥要甩抖自制的锁链？  
你们炼的钢，多么耀眼！



- A. 封建领主对农民的残酷剥削  
B. 君主立宪制度并不完善  
C. 科学社会主义思想广泛传播  
D. 生产关系变革引发新矛盾
35. 1960年苏联同社会主义国家的贸易额中经互会占了74%，到1963年这一比值猛增到84%。产生这种变化，主要是因为
- A. 美国对苏联实行遏制封锁政策  
B. 社会主义阵营不断巩固壮大  
C. 中国与苏联关系发生了新变化  
D. 经互会促进了苏联经济发展

## 第 II 卷

本卷包括必考题和选考题两部分，第36题～第41题为必考题，每个试题考生都必须做答，第42题～第48题为选考题，考生根据要求做答。

36. 阅读图文材料，完成下列问题。(22分)

阿塔卡马沙漠作为地球上与火星环境最相似的地区之一，对其自然地理环境的研究有助于为人类探测火星提供相关的参考资料。阿塔卡马沙漠位于南美洲西海岸南北向狭长分布，宽度只有几十公里。阿塔卡马沙漠被分为海岸山脉、中央山谷和安第斯山脉三大地形区，沙漠平均海拔高达2400米，属于高海拔沙漠。阿塔卡马沙漠气候极端干旱，多数地区年降水量不足1mm，被称为世界旱极。阿塔卡马沙漠广泛分布着干盐湖和盐壳。在阿塔卡马沙漠风成沙丘极少，内陆地区都没有成片大面积的风成沙丘。图7为阿塔卡马沙漠示意图及地形剖面图。

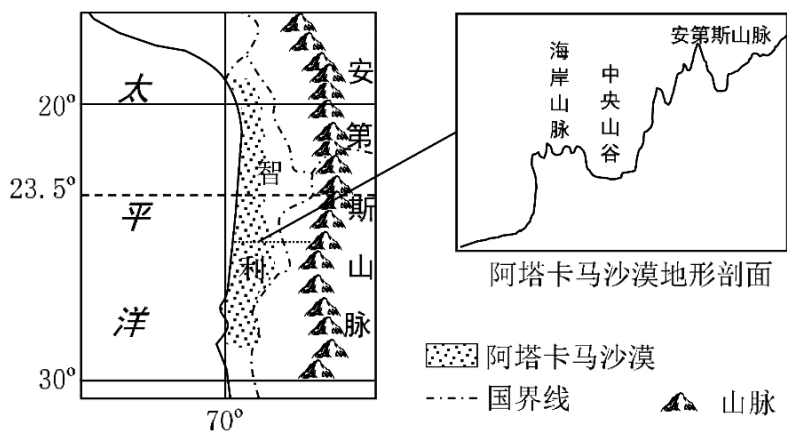


图 7

- (1)运用地理环境整体性原理，说明阿塔卡马沙漠自然地理环境特征。(8分)
- (2)从大气运动角度，简析阿塔卡马沙漠降水稀少的原因。(6分)
- (3)推测中央山谷边缘及内部没有成片大面积风成沙丘分布的原因。(8分)
37. 阅读图文材料，完成下列问题。(24分)
- 汕头市南澳县是广东省唯一的海岛县，由37个大小岛屿所组成，主岛面积128.35平方千米(图9)，现有7万多常住人口，周边小岛屿多为无居民小岛。主岛上海岸线曲折，天然深水避



风港湾和可供开发旅游的优质沙滩众多。濒临西太平洋国际主航线，自古以来是海上丝绸之路的重要节点。但长期以来，岛陆联系仅靠莱长渡口航线，经济发展缓慢，主要以渔业(沿海水产养殖与捕捞)和耕作业为主，旅游业与港口发展也陷入瓶颈。2009年，连接汕头市莱芜半岛与南澳岛的南澳大桥开工建设，由于桥梁修建对施工环境要求高，一度进展缓慢，后来改用墩身挂靠可移动式平台取代船舶式平台承接浇筑机械施工(图8)，施工速度大大提高。2015年全长9341米的南澳大桥建成通车，极大地改善了岛陆联系。有人说，南澳大桥的建设重新点亮了南澳岛这颗“海丝明珠”，未来规划将进一步完善主岛与附属岛屿的交通联系，但不考虑建桥，而将建设海底观光走廊。



图 8

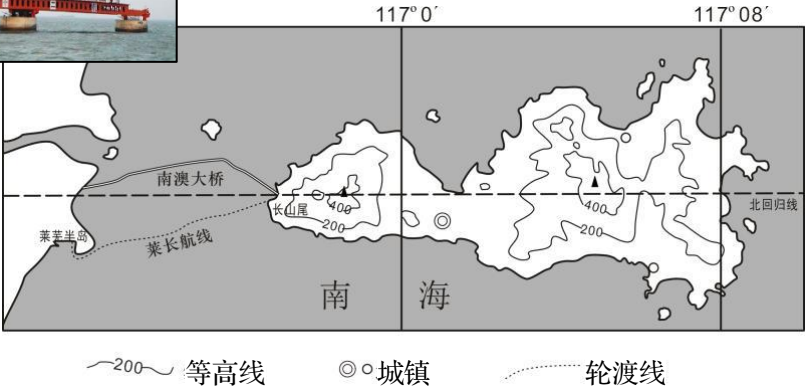


图 9

- (1)分析2015年前南澳港口发展的瓶颈因素。(6分)
- (2)试推断南澳大桥建桥过程使用墩身移动式平台施工取代船舶平台施工的自然原因。(6分)
- (3)分析为何说南澳大桥建成重新点亮了南澳这颗海丝明珠。(6分)
- (4)简述未来近主岛的小岛开发不建桥而建海底观光走廊的理由。(6分)

38. 阅读材料，完成下列要求。(14分)

2018年，国家市场监管总局围绕减环节、压时间，进一步放宽企业准入，压缩企业开办时间；全面实施公平竞争审查，建立新型监管机制，强化反垄断执法，加强知识产权保护；大力查处涉企违规收费，优化政务服务；加强与国际通行经贸规则对接，营造国际化、便利化的营商环境。

世界银行《2019营商环境报告》显示，2018年我国营商环境较前一年大幅提升32位，位列全球第46名。营商环境的改善，极大地释放了市场活力。

结合材料，运用经济生活的知识，分析营商环境改善对增强市场活力带来了哪些影响。(14分)

39. 阅读材料，完成下列要求。(12分)

2018年，某地基层社会治理的标准《社会治理指数评价体系》正式实施，这是该地打造共建共治共享的基层社会治理格局，增强人民群众获得感的重要举措。标准的各项指标中既有反映实际发展情况的客观指标，如“每千人配置全科医生人数”“居民人均可支配收入”等；也有反映居民对该地社会治理的支持率、满意度的评估指标，如“生活便利性满意度”“社会保障满意度”等。标准还要求做实决策前的听证会、推进中的协调会、完成后的评议会，项目选择让群众说了算，实施让群众全过程参与，最终成效让群众评判。

结合材料并运用政治生活的知识，说明该标准的实施对该地提升基层社会治理能力提出了哪些要求。(12分)

40. 阅读材料，完成下列要求。(26分)

建立中国共产党、成立中华人民共和国、推进改革开放和中国特色社会主义事业，是近代以来实现中华民族伟大复兴的三大里程碑。

材料一：1921年中国共产党成立，中国革命的命运发生了根本性改变。1949年新中国成立，中国真正成为独立自主的国家，确立了社会主义基本制度，人民成为国家的主人。1978年改革开放开始，中国用几十年时间走完了发达国家几百年走过的工业化历程，创造了人间奇迹。三大历史性事件贯穿的一条鲜明主线就是实现中华民族伟大复兴，揭示的一个伟大真理就是中国化马克思主义是实现中华民族伟大复兴的科学指南，昭示的一个基本结论就是中国共产党领导是实现中华民族伟大复兴的根本政治保证。

材料二：“革命理想高于天”，正是在理想信念的指引下，中国共产党人历经艰难，在嘉兴南湖的一艘小船上开启了伟大的革命。伟大的革命产生了伟大的文化，崇高的信仰、不屈的意志、忘我的奋斗、忠诚奉献、国家观念等，都是革命文化的重要内容。伟大的文化凝结着伟大的精神，在中国革命的征程中，形成了“红船精神”、井冈山精神、苏区精神、长征精神、延安精神、西柏坡精神等一系列革命精神。如今革命文化已经凝练成为一种继往开来的历史财富和文化资源，能为我们今天培养担当民族复兴大任的时代新人提供最好的营养剂。

(1)运用唯物辩证法发展观的知识并结合材料一，分析中国共产党领导的民族伟大复兴能够不断前进的原因。(10分)

(2)革命文化是培养时代新人的最好营养剂。运用文化生活的有关知识并结合材料二论证该观点。(10分)

(3)继承弘扬革命文化是新时期文化建设的重要任务之一。你认为应如何继承弘扬革命文化，请提出三条建议。(6分)

41. 阅读材料，完成下列要求。(25分)

材料一 先秦文献《尚书·禹贡》记载舜、禹之时中国人的“天下”大致范围是“东渐于海，西披于流沙”。《穆天子传》记载西周时期周穆王西游的最远之地是昆仑山以西的“西王母之邦”。公元前2世纪后半期，随着张骞出使西域，丝绸之路开通，中国人的视野不仅扩

大到了中亚、西亚和印度，甚至远达东地中海。东汉以后与南亚、中亚、日本的宗教、文化等民间交流也日渐频繁。唐宋海上陶瓷之路兴盛，与东南亚的联系紧密。元代蒙古帝国曾远征至中欧，并与罗马教廷建立过联系。明代郑和下西洋也曾抵达东非，但中国以自我为中心的“天下”观逐渐被“世界”观念所取代是在19世纪中期以后。

材料二 希腊人自古以来一直以爱琴海作为其繁衍生息的中心，到古风时代末，希腊人的殖民地已经星星点点遍及地中海、爱琴海和黑海沿岸。公元前5世纪的希波战争使希腊人第一次和西亚的波斯及其属国有了直接的接触。这个希腊人的“世界”最东面包括印度，西面则到了直布罗陀海峡，北面远达极北地区，南至非洲南端。16世纪之前除了马可·波罗带回去的一些似是而非的知识之外，西方人对东方的中国几乎一无所知。16世纪之后欧洲人的视野才扩大到了全世界。

——以上材料根据杨巨平《全球史概念的历史演进》编写

(1)根据材料一并结合所学知识，概括指出古代中国人对世界的探索有何特点，说明“天下”观被“世界”观念所取代的原因。(10分)

(2)根据材料二并结合所学知识，概述西方人探索世界的历程及其背景。(9分)

(3)根据以上材料并结合所学知识，指出中西方在探索方向上有何不同，并分析中西长期隔绝的历史原因。(6分)

42.阅读材料，完成下列要求。(12分)

材料：图10为清末民初，我国商品市场中机器棉布及其原料棉纱的流通示意图。

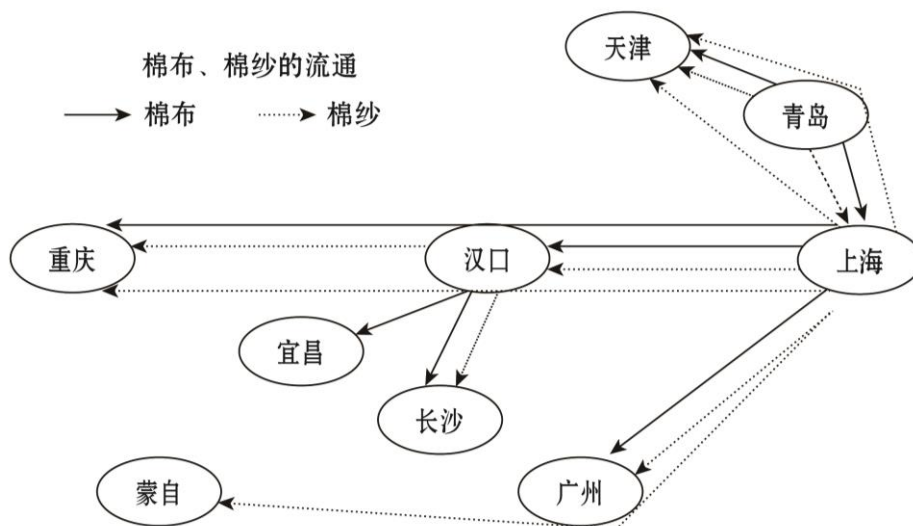


图10

(注：“蒙自”属云南省)

——资料来源：吴承明：《中国资本主义与国内市场》

请从以上材料中提取有关中国近代经济地理的信息，据此拟定一个论题，并结合所学知识加以论述。(要求：拟定论题，观点明确，史论结合，史实准确。)(12分)

请考生在第43、44两道地理试题中任选一题做答，如果多做，则按所做的第一题计分。  
做答时用2B铅笔在答题卡上把所选题目的题号涂黑。

43. 【地理——旅游地理】(10分)

“民宿”是指利用当地闲置资源，民宿主人参与接待，为游客提供体验当地自然、文化与生产生活方式的小型住宿设施。研究发现越是高收入、高学历的游客越爱选择民宿。浙江省桐庐县芦茨村位于富春江畔，主打以文化体验为核心的“慢生活体验区”，民宿聚集区以乡村为载体，融入当地的民间工艺与风俗民情。在当地政府的扶持下，目前芦茨村的民宿旅游发展较为成熟。凭借其特殊的民宿经济，先后获得“杭州市乡村旅游示范点”、“桐庐最佳休闲去处”等荣誉。图11为芦茨村及周边区域示意图。

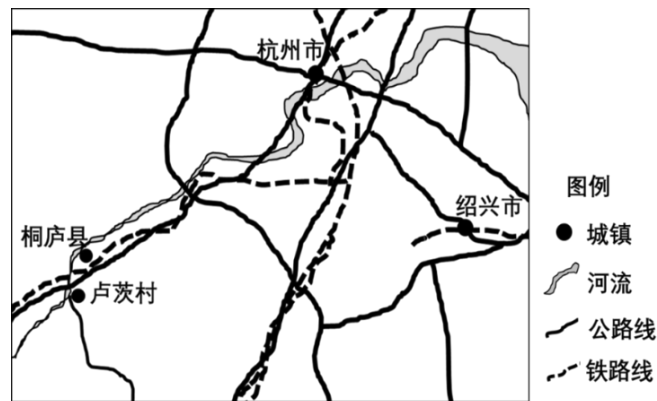


图11

简析芦茨村发展民宿旅游的区位优势。

44. 【地理——环境保护】(10分)

河岸植被缓冲带是指河岸两边向岸坡爬升的由树木及其他植被组成的缓冲区域。河岸植被缓冲带可作为生物滞留设施等低影响开发设施的预处理设施，也可作为城市水系的滨水绿化带，是进行河岸带生态系统管理时最常用的一种模式，已被美国农业部推荐为控制非点源污染的最佳管理措施之一。图12为河岸植被缓冲带结构示意图。

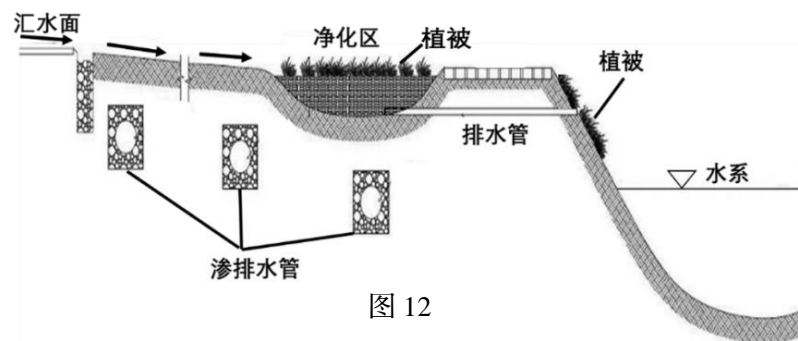


图 12

说明河岸植被缓冲带在河流生态修复方面的生态功能。

请考生在第45、46、47三道历史试题中任选一题做答，如果多做，则按所做的第一题计分。做答时用2B铅笔在答题卡上把所选题目的题号涂黑。

45.【历史——选修1：历史上重大改革回眸】(15分)

材料 辽圣宗(983~1031年在位)幼年即位，和母亲承天太后共同执掌朝政40年并进行了一系列改革，增强了辽朝的国力，与强邻北宋签定了“澶渊之盟”，确立了兄弟之国的政治关系。他们重视人才的选拔，不但信任有才能的契丹贵族，而且重视任用汉官、汉将，将科举取士作为选官方式之一，建立了主持科举考试的常设机构。圣宗与太后参考宋朝制度，确立了官员考核办法，奖励清勤自持者，惩治贪酷，使朝野风气较为清正。圣宗时又多次更定法令，规定奴婢犯罪由官府治罪，主人不得擅杀。同时辽圣宗还不断完善诉讼制度，健全司法和行政机构。自阿保机(872~926年)以孔子学说为治国的主导思想以来，儒家思想在辽朝统治集团中的影响逐渐加深。辽圣宗称唐太宗、后唐明宗和宋太祖、太宗为“五百年来中国(原)之英主”，积极学习中原的统治方式和思想文化。圣宗多次下诏倡导忠、孝、节、义等封建意识形态和行为规范，改变游牧民族中贵壮贱老、别籍异居、收母执嫂的传统。

随着各种制度和机构的健全、完善，辽朝的文治渐兴，史学也有所发展，修史制度也渐趋完备。契丹与辽朝的历史从口耳相传进入了使用本身的文字记录阶段，为研究契丹民族和辽朝的历史保留了大量珍贵资料。

——摘自白寿彝总编《中国通史》

(1)根据材料并结合所学知识，概括辽圣宗和承天太后改革的特点(8分)

(2)根据材料并结合所学知识，简述辽圣宗和承天太后改革的积极作用。(7分)

46.【历史——选修3：20世纪的战争与和平】(15分)

材料一 1946年3月，以美、苏为首的盟国管制委员会制定了“限定工业计划”以削弱德国工业规模。根据计划要求，德国钢的生产能力被限制为1938年的四分之一，化学制品和重型机器制造为三分之一，水泥工业为一半，车床生产仅为十分之一。消费品方面，以1938年为参照，允许德国利用近一半的纺织和制鞋工业生产能力，五分之一的汽车生产能力。军备生产也被禁止。被禁止生产的还包括远洋船舶、飞机、合成汽油、橡胶、铝和其他轻金属。德国必须交出一切远洋船舶，只能拥有近海船。德国拥有飞机，包括滑翔机和气球都是违法的。一切自然科学和工业研究机构必须关闭。德国必须以低于世界市场的价格向战胜国输出硬煤。

——摘自(德)卡尔·哈达赫著《二十世纪德国经济史》

材料二 随着马歇尔计划的实施，美国等国逐渐放宽了对德国工业的限制，从削弱德国转为扶植德国，并按照自己复兴德国的计划，着手进行一系列的整顿和改革，其目标逐渐转变为建立一个议会制的、经济自给自足的德国，并在政治上与西方保持一致。1949年5月至10

月，德国分裂为联邦德国和民主德国。随着美国政策的转变，联邦德国阿登纳政府开始推行社会主义市场经济机制，在马歇尔计划高达16亿美元援助的支持下，联邦德国经济迅速在1952年恢复到战前水平。

——摘编自吴于廑、齐世荣主编《世界史·现代史篇下》

(1)根据材料一并结合所学知识，指出以美、苏为首的盟国管制委员会制定“限定工业计划”的动机。(7分)

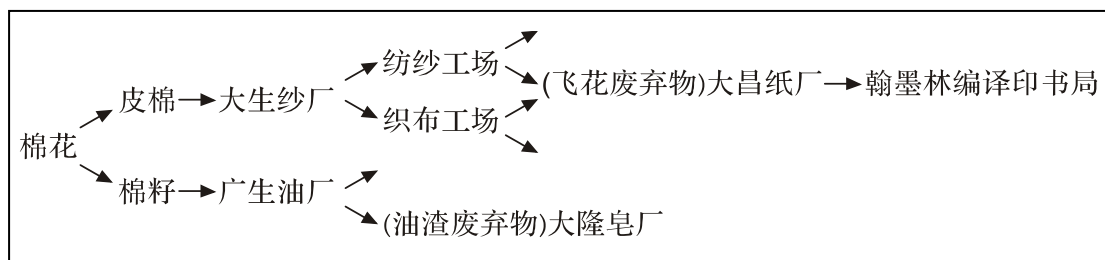
(2)根据材料二并结合所学知识，说明联邦德国经济迅速恢复的原因及影响。(8分)

#### 47.【历史——选修4：中外历史人物评说】(15分)

材料一 实业家张謇(1853~1926)是近代中国环保事业的先驱之一。1913年，张謇出任北洋政府农商总长后，先后草拟了一系列训令禁止国有森林采伐。他认为“黄河、扬子江、珠江，实为经流大干，是三千者，淤垫激薄，岁屡为灾”的原因在于“三千”上游发源地“无森林涵养水源……一旦洪水骤发，势若建瓴，方其急流，则混挟泥沙，奔泻直下，及遇回曲，溜势稍缓，则沉积而淀，便成涉阻……水益高而患益烈”。据此张謇提出“先于全国宏大之区，设保安林”的主张。经过张謇的努力，1914年，近代中国第一部《森林法》得以颁布。此后他还公布清明节为全国植树节，颁布《造林奖励条例》，支持和奖励民间造林，使植树造林深入民间。在家乡南通，张謇斥资植树保护江滩，组织保坍会，并从荷兰聘请水利工程师筑建保坍，在江岸栽种桃桑，建防护林。这一举措为南通百姓免受水患之灾发挥了重大作用。

——据羌建《张謇与我国环保事业的早期探索与实践》等

材料二 张謇所办纺织企业的生态化产业链示意图。



引自张廷栖《论张謇在环境保护方面的贡献》

(1)根据材料一并结合所学知识，概括指出张謇环境保护思想的内涵及形成的历史背景。(9分)

(2)根据材料一、二并结合所学知识，简要评述张謇为近代中国环境保护所作出的贡献。(6分)