

政治试题

2018.9.26

说明：本试卷分第 I 卷(选择题)和第 II 卷(非选择题)两部分，全卷满分 100 分，考试用时 90 分钟。

一、选择题(本大题共计 24 题，每小题 2 分，共 48 分。在每小题列出的四个选项中只有一项是最符合题目要求)

1、央视纪录片《货币》的片头词：“她在今天人们的心中，仿佛是空气，是水，是阳光，是陪伴人一生的东西……人们知道她从哪里来，但不知道她到哪里去，她就是熟悉而又陌生的货币。”货币之所以如此重要，最根本的原因是()

- A. 货币的本质是一般等价物，是社会财富的代表
- B. 货币具有神奇的魔力，能买到人们需要的一切
- C. 货币是特殊商品，有满足人们一切需要的属性
- D. 货币是国家强制使用的，代表着人们的经济利益

2、“以价格打开市场，以质量扩大份额。”这一企业经营战略主要体现了()

- A. 商品是使用价值和价值的统一体 B. 质量是企业的生命
- C. 商品的质量决定商品的价格 D. 价格低就可以打开市场

3、下列属于商品的是()

- ①自产自销的粮食产品 ②赠送给同学的礼物
- ③向灾区空投的物资 ④家庭用的自来水
- A. ①③ B. ①② C. ①④ D. ③④

4、2017 年“五一”假期，某家电商场打折促销，李明看中了一台 55 英寸的液晶电视，最终在支付了 6300 元后将电视抱回家。下列选项中货币职能与材料中货币职能一致的是()

- A. 王老板发给小李一个月的工资 4000 元
- B. “五一”期间洗衣机的销售标价是 1600 元
- C. 王先生在书店花 300 元买了 10 本书
- D. 王老师用 6200 元交清了半年的房租

5、我国现在流通的第五套人民币是建国 50 周年之际陆续发行的。第五套人民币()

- ①由国家发行并强制使用 ②其面值是由国家决定的
- ③其市场购买力由国家决定 ④其币值会持续稳定不贬值

A. ①② B. ①④ C. ②③ D. ③④

6、国家有权发行纸币，但不可任意发行纸币。商品流通过程中实际需要的货币数量是受流通规律支配的。在一定时期内，流通中需要的货币数量()

- ①与货币价值成正比 ②与货币流通速度成反比
- ③与商品价格水平成反比 ④与流通中的商品数量成正比

A. ①② B. ①③ C. ②④ D. ③④

7、某国 2018 年的商品价格总额为 16 万亿，流通中需要的货币量为 2 万亿。假如 2018 年该国商品价格总额增长 10%，其他条件不变，理论上 2018 年该国流通中需要的货币量为()

- A. 1.8 万亿 B. 2 万亿
- C. 2.2 万亿 D. 2.4 万亿

8、2018 年初，有不良信用记录的陈先生多次向不同银行申请办理信用卡，均被拒绝。这是因为()

- A. 有不良信用记录的人无法进行转账结算
- B. 银行信用卡因使用方便而限量发行
- C. 办理银行信用卡需要申请人的资信状况良好
- D. 提高银行信用卡的信用贷款额度

9、张老师一家暑假去北京旅游，在王府井超市看中了一台笔记本电脑标价 8800 元，并决定购买。他可以采取的付款结算方式可以是（ ）

①现金结算 ②支票结算 ③汇票结算 ④信用卡结算

A. ①②③ B. ①④ C. ①③ D. ②③

10、下表所示为 2005 年和 2017 年部分国家货币对美元的年平均汇率。根据表中数据，在不考虑其他影响因素的情况下，与 2005 年相比，2017 年（ ）

货币 \ 年份	2005 年	2017 年
美元	1.00	1.00
人民币	8.19	6.48
英镑	0.55	0.75

A. 人民币相对于美元贬值 B. 英国企业进口美国商品成本增加

C. 英镑相对于美元升值 D. 中国商品出口美国更具价格优势

11、原售价为 1.5——3 元的一枝菊花，在 2018 年清明节期间涨到了 4——5 元一枝。下列对这一现象认识正确的是（ ）

A. 传统习俗影响商品的价格 B. 生产条件影响商品的价格

C. 国家政策影响商品的价格 D. 气候条件影响商品的价格

12、印度尼西亚、马来西亚和泰国从 2016 年 3 月 1 日起限制天然橡胶的出口量，引发橡胶价格的上涨。材料中橡胶价格上涨的原因在于（ ）

①商品的供求关系发生了变化 ②国内贸易政策调整

③供给的减少 ④需求的减少

A. ①③ B. ②④ C. ③④ D. ①②

13、商品的价值量由生产商品的（ ）决定。

A. 个别劳动时间 B. 个别劳动生产率

C. 社会必要劳动时间 D. 社会劳动生产率

14、甲乙两家企业生产同一种商品，并以相同的价格出售这一商品，甲企业盈利，而乙企业亏本，其原因是（ ）

A. 甲企业的商品比乙企业的商品更富有需求弹性

B. 甲企业商品的价值大于乙企业商品的价值

C. 甲企业工人的劳动强度低于乙企业工人的劳动强度

D. 甲企业的劳动生产率高于乙企业的劳动生产率

15、“贵上极则反贱，贱下极则反贵。”（《史记·货殖列传》）从经济学角度看，这是（ ）

A. 价值规律的表现形式 B. 计划机制作用的结果

C. 劳动决定价值的体现 D. 供求关系对价值的影响

16、下列经济现象与《经济生活》道理对应正确的是（ ）

A. 冬天的黄瓜比夏天贵——供求影响价格

B. 制售假冒伪劣产品被淘汰——使用价值决定商品的价值量

C. 商品价值量大小不变——由个别劳动时间决定

D. 货多不值钱——卖方市场

17、甲企业与乙企业处于不同地方，拥有同样多的员工，在相同时间内所创造的商品数量如下表。由表可知（ ）

	甲	乙
原来	100 件	80 件
现在	80 件	100 件

①从单位商品价值量角度看，现在甲大于乙

②从个别劳动生产率角度看，现在乙高于甲

③从个别劳动时间角度看，现在乙少于甲

④从利润角度看，现在乙必然多于甲

A. ①③ B. ①② C. ②③ D. ③④

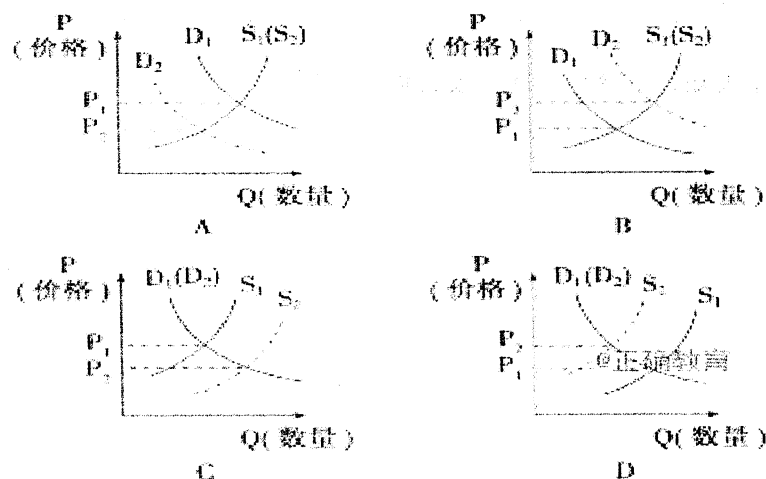
18、商品交换要遵循等价交换原则，这是价值规律的基本内容，下列说法正确的是（ ）

①等价交换是指交换双方的价值量相等 ②等价交换是指每一次交换都等价

③货币产生后，等价交换表现为价格符合价值 ④真正的等价交换从来都不存在

A. ①③ B. ②③ C. ③④ D. ①④

19. 北京市 2018 年 3 月 17 日出台的相关文件称，北京市目前已完成年度土地供应计划的 42%，是 2017 年同期商品住宅用地供应量的 7.3 倍。三季度末商品住宅用地供应将是 2017 年全年实际供应量的 2.5 倍。若用 S、D 分别表示商品房供给和需求曲线，不考虑其他因素，北京房地产市场会出现如下哪种情况()



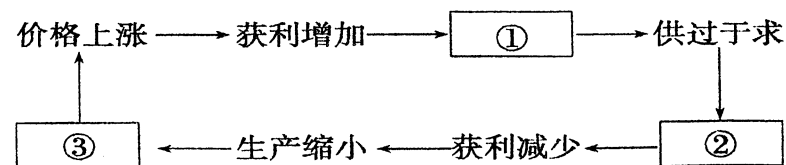
20. 消费受相关商品价格变动的影响，如果 A 商品和 B 商品的关系如下表。那么表格中反映商品需求量的 X 和 Y 分别是 ()

关 系	A 商 品		B 商品
互为替代品	价格上涨	需求量减少	X
互补商品	价格下跌	需求量增加	Y

A. X 增加，Y 减少 B. X 减少，Y 减少

C. X 减少，Y 增加 D. X 增加，Y 增加

21. 下图中①②③依次为 ()



A. 生产扩大 供不应求 价格下降 B. 生产扩大 价格下降 供不应求

C. 供不应求 生产扩大 价格下降 D. 价格下降 生产扩大 供不应求

22. 2018 年 5 月 8 日 100 美元兑人民币 649.83 元，到 7 月 20 日升至 669.46 元。

在其他条件不变的情况下，美元对人民币汇率的这一变化会使 ()

①我国居民降低对美国商品的需求 ②我国居民更多地选择去美国旅游

③我国企业减少对美国的商品出口 ④我国企业减少对美国的投资

A. ①② B. ①④ C. ②③ D. ③④

23. 甲商品的价格每下降 10 个单位，需求增加 15 个单位；乙商品的价格每下降 10 个单位，需求增加 5 个单位。下列说法，正确的是 ()

①甲商品需求弹性大，更适合采取“降价促销”的方式

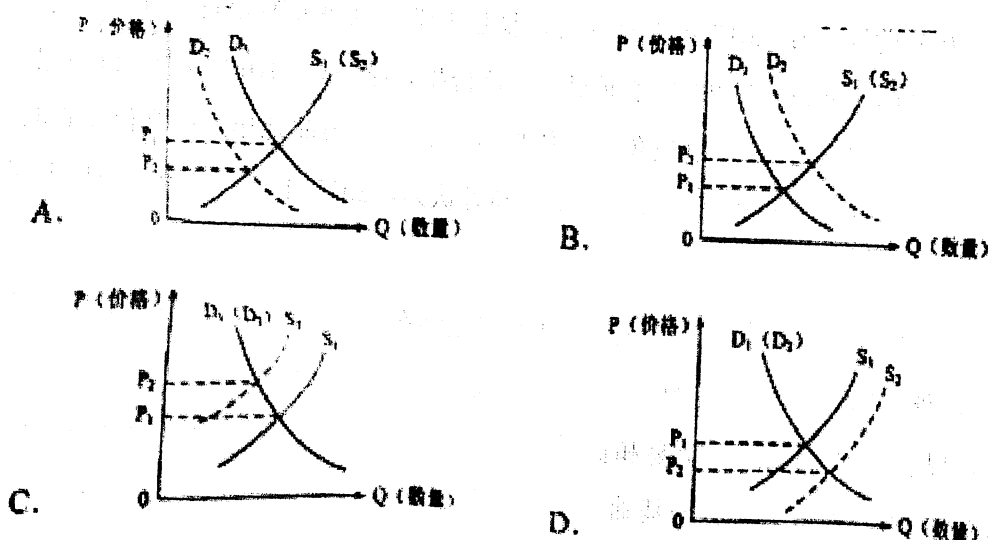
②乙商品需求弹性大，很适合采取“降价促销”的方式

③如果居民收入不断增长，则更适合扩大甲商品的生产

④如果整体经济不景气，则乙商品的生产会先受到冲击

A. ①③ B. ②④ C. ②③ D. ①④

24. 西晋著名文学家左思的《三都赋》创作完成后，都城洛阳的人们都认为写得好，争相传抄，一下子使纸帛的价格贵了好几倍，这就是成语“洛阳纸贵”的由来。若用 S、D 分别表示供给和需求曲线，下列图示正确反映“洛阳纸贵”的是 ()



二、非选择题 (本大题共 3 题，共计 52 分)

25、材料一 近年来,随着人们生活质量和水平的提高,绿色无公害蔬菜出现热销局面,且价格比普通蔬菜高 30%—40%。

材料二 经过三年的艰苦奋斗,小杨终于考上了理想的大学。开学前,她打算买一台笔记本电脑。小杨在网上搜索了一下相关信息,发现笔记本电脑的品牌众多,不同品牌、不同地区间价格差异也比较大。不过有一个相同点,那就是比起前几年,笔记本电脑的配置普遍提高了,价格普遍降低了。

1.运用所学的价格有关知识,分析绿色无公害蔬菜价格上涨的原因。(8分)

2.运用所学价格的有关知识,分析笔记本电脑价格普遍下跌的原因。(10分)

26、(20分)材料一:2017年1月5日,复旦大学金融研究院发布《复旦人民币汇率指数2016年分析与2017年展望》。这份报告指出,2016年人民币有效汇率大幅贬值,对美元贬值幅度创8年历史新低;人民币前几年过度升值积累的贬值压力在2016年继续得到释放。报告同时认为,2017年,人民币进一步大幅度贬值空间不大。

材料二:2017年3月15日,国务院总理李克强在回答记者提问时表示,人民币在国际货币体系中是有分量的,汇率会保持基本稳定。李克强说,我们也不希望打贸易战,这不利于国际贸易和货币体系的稳定。我们坚持人民币汇率形成体制的改革,实行以市场供求为基础、有管理的浮动汇率制度。可以说在人民币汇率弹性加大的情况下,我们保持人民币汇率在合理均衡水平的基本稳定。

请运用《经济生活》有关知识,谈谈2016年人民币对美元贬值幅度创8年历史新低,产生的影响及保持人民币汇率基本稳定的意义。

27.(14分)2016年11月1日,交通部、工业和信息化部等七部委联合发布的《网络预约出租汽车经营服务管理暂行办法》正式施行。细心的网友发现,自从去年7月网约车合法化后,多地网约车价格上涨了20%左右。对此,大家议论纷纷:

网友一:网约车市场准入标准严格,车辆供给骤减,价格上涨。

网友二:线下成本提升、税收上升和保险费增加,网约车价格“水涨船高”。

网友三:不仅基本价格在涨,溢价也在涨,坐不起了,改坐公交吧。

运用价格的相关知识,分析上述网友言论的合理性。

2018 级高一第一次大考政治答案

题号	1	2	3	4	5	6	7	8	9	10
答案	A	A	C	C	A	C	C	C	B	B
题号	11	12	13	14	15	16	17	18	19	20
答案	A	A	C	D	A	A	C	A	C	D
题号	21	22	23	24						
答案	B	B	A	B						

二、非选择题（本大题共 2 题，共计 52 分）

25. (1) 商品价格由其价值决定并受供求关系影响。(2 分) 由于绿色无公害蔬菜的生产比普通蔬菜的生产耗费更多的社会必要劳动时间，所以价值量大。(3 分) 同时，随着人们生活质量和水平的提高，对绿色无公害蔬菜的需求增加，所以绿色无公害蔬菜价格高。(3 分)

(2) 电脑价格下跌的主要原因是商品的价值发生了变化。(5 分) 随着电脑生产技术的日趋成熟，商品生产者普遍提高了劳动生产率，从而使单位商品的价值量降低，致使电脑价格下跌。(5 分)

26. (1) ①人民币贬值，我国出口商品价格降低，从而促进出口增长。(4 分)

②人民币贬值，推动进口商品价格上涨，外来商品进口减少。(4 分)

③人民币贬值，外币兑换的人民币数量增加，所以外来消费和外来投资会有所增长。(4 分)

(2) 对人民生活安定、经济社会持续健康发展，对世界金融的稳定、经济的发展，具有重要意义。(8 分)

27. (14 分) 答案: (1) 供求关系影响价格，供不应求，价格上涨。由于网约车供给不足，推动网约车价格上涨。(5 分) (2) 价值是价格的基础，价值决定价格。在其他条件不变的情况下，商品的价值量越大，价格越高。线下成本、税收和保险成本提升，网约车价值量变大，带动网约车价格上涨。(5 分) (3) 价格变动会引起人们对商品需求量的变动，一般说来，当某种商品价格上升时，人们会减少对它的购买，替代品的需求量会上升。网约车价格上涨，人们减少对其需求，转而去消费其他交通工具。(4 分)