

广元市万达中学、八二一中学 2019 年春高 2018 级半期联考

地理试题

命题人:陈瑞姣 审题人:李春华

本试题分第 I 卷(选择题)和第 II 卷(非选择题)两个部分,共 100 分,考试结束只交答题卡。

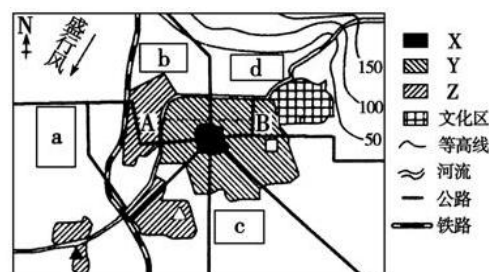
第 I 卷(选择题共 48 分)

本卷共 16 个小题,每小题 3 分,共 48 分。在每小题给出的四个选项中,只有一项是符合题目要求的。

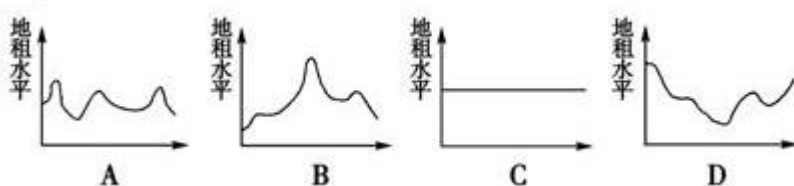
下图是“某城市规划简图”,该市常年盛行东北风。读图,回答 1-2 题。

1. 图中 X、Y、Z 表示该市商业区、住宅区、工业区,下列说法正确的是()

- A. X——住宅区 B. X——商业区
C. Y——工业区 D. Z——住宅区



2. 下面能正确表示上图中 A—B 虚线地租水平变化特征的是()



3. 决定下列农业区位选择的主导因素分别是: ①华南的双季稻种植 ②宁夏平原的水稻种植 ③新疆哈密盆地的瓜果生产 ④上海郊区的乳畜业 ()

- A. ①热量 ②水源 ③光照 ④市场 B. ①水源 ②地形 ③热量 ④市场
C. ①地形 ②国家政策 ③土壤 ④科技 D. ①土壤 ②热量 ③地形 ④国家政策

下图是“我国某大城市各类土地利用付租能力随距离递减示意图”。读图,完成 4-6 题。

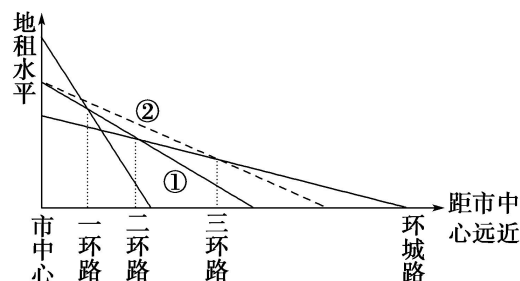
4. 当①线变成②线时,则住宅功能区可拓展到()

- A. 一环路 B. 二环路 C. 三环路 D. 环城路

5. 近年来该市的工业部门大部分由城区迁移到郊区的主要原因是()

- ①城区用地紧张,地租上涨 ②城市交通网的不断完善
③为了缓解城区日益严重的环境污染 ④郊区廉价劳动力丰富 ⑤人口向郊区迁移

- A. ①②⑤ B. ①②③ C. ②③④ D. ③④⑤



6. 近年来该市大型综合商场和超级市场逐渐从市中心向二、三环路迁移, 主要原因是()

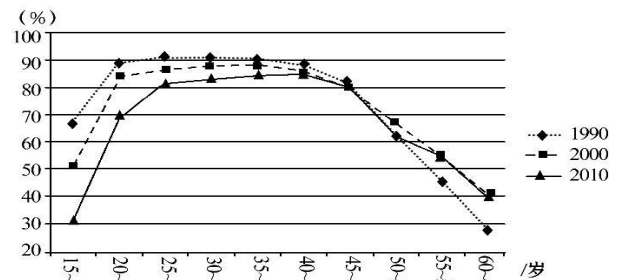
- ①二、三环路地租比市中心低 ②市中心交通拥堵 ③二、三环路人流量更大
④城市交通网的不断完善 ⑤市中心人口减少

- A. ①②③ B. ②③④ C. ③④⑤ D. ①②④

劳动参与率是衡量人们参与经济活动状况的重要指标, 是经济活动人口(包括就业者和失业者)占劳动年龄人口的比率。读我国分年龄组劳动参与率变化曲线图, 完成 7-8 题。

7. 关于图示信息的叙述正确的是()

- A. 随着年龄增长, 劳动参与率呈下降趋势
B. 我国经济活动人口主体集中在 25~49 岁
C. 15~19 岁人口劳动参与率低的原因是缺乏劳动技能
D. 随着时间的推移, 劳动参与率呈升高趋势



8. 为应对劳动参与率变化产生的不利影响, 最有效措施是()

- A. 提高高等教育的普及率 B. 逐步放宽生育限制 C. 适当延长退休年龄 D. 大幅提高养老金

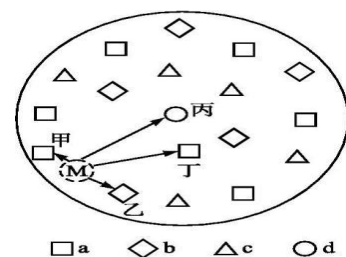
下图为某区域城市聚落分布模式图, a、b、c、d 分别代表不同等级的城市, 读图, 完成第 9-10 题。

9. 图示区域中, 等级最高的城市是()

- A. A B. b C. c D. d

10. M 区域居民去附近城市寻求服务, 到达频率最高的城市是()

- A. 甲 B. 乙 C. 丙 D. 丁



下表所列数据为某四个国家季风水田农业生产情况统计。据表回答 11-12 题

国家	种植面积(万公顷)	单产量(吨/公顷)	总产量(万吨)
甲	4 400	2.14	9 416.00
乙	2 950	4.23	12 478.50
丙	1 036	1.80	1 864.80
丁	168	4.36	732.48

11. 甲、乙、丙、丁代表的国家依次是

- A. 日本、印度、中国、泰国 B. 印度、中国、泰国、日本
C. 中国、泰国、印度、日本 D. 泰国、日本、中国、印度

12. 以下关于该农业地域类型的说法, 正确的是

- A. 由于地块狭小, 所以生产国的机械化水平都很低, 水利工程投资较大
B. 虽然精耕细作, 单产量较高, 但因为人口压力大, 仍属于粗放农业
C. 主要以家庭农场为单位进行生产, 规模较小, 商品率较低
D. 主要分布在水热条件匹配较好、人口稠密的平原地区

右图为三个地区农业资料。读图，完成 13-14 题。

13. 有关三个地区农业地域类型的判断，正确的是（

- A. ①为混合农业 B. ②为商品谷物农业
C. 三地的商品率都很高 D. ③为季风水田农业

14. 根据图中信息推断，下列说法错误的是（

- A. ③生产规模大 B. ①市场适应性差
C. ②作物单产高 D. ①③机械化水平高

读某城市城市人口占总人口比重变化图（图 I）和劳动力在各行业中的百分比图（图 II），回答 15-16 题。

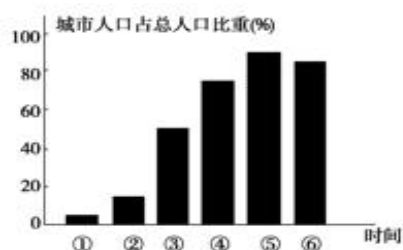


图 I

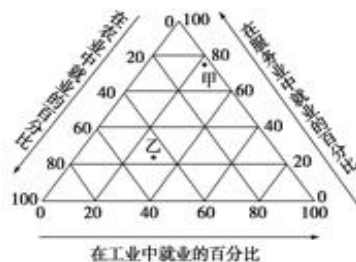


图 II

15. 图 I 中，⑤→⑥反映的现象是（

- A. 城市化加速发展 B. 城市郊区化 C. 逆城市化 D. 城乡差别拉大

16. 若图 II 中甲、乙代表世界上两类国家（发达国家和发展中国家），下列有关甲、乙的叙述正确的是（

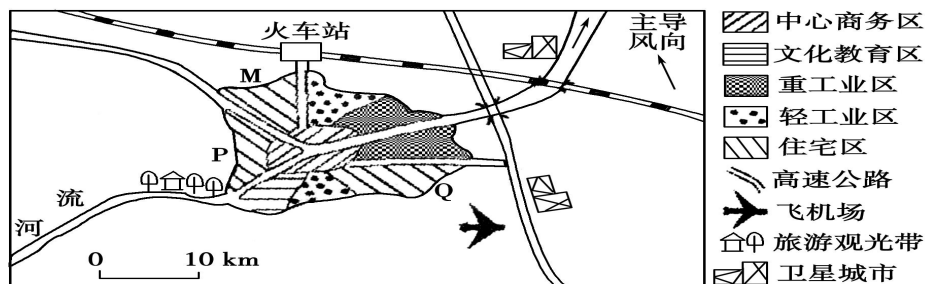
- A. 甲代表发展中国家，城市化水平低
B. 乙代表发达国家，城市化水平高
C. 乙国目前城市化速度较快，城市环境质量高
D. 甲国城市化速度缓慢，出现逆城市化现象

第 II 卷（非选择题共 52 分）

本卷3个大题，共52分。用黑色签字笔在答题卡上书写作答，在试题卷上作答，答案无效。

17. 读下列材料，回答问题。（14 分）

材料一 下图是“我国东部沿海某大城市示意图”，统计显示近年来有数十万人迁入该城市。



材料二 雨水收集系统是将雨水收集并进行处理后达到使用标准的系统，主要收集屋顶雨水和地面雨水。在目前我国水资源紧张、水污染加重、城市内涝加剧的情况下，将雨水收集并利用势在必行。

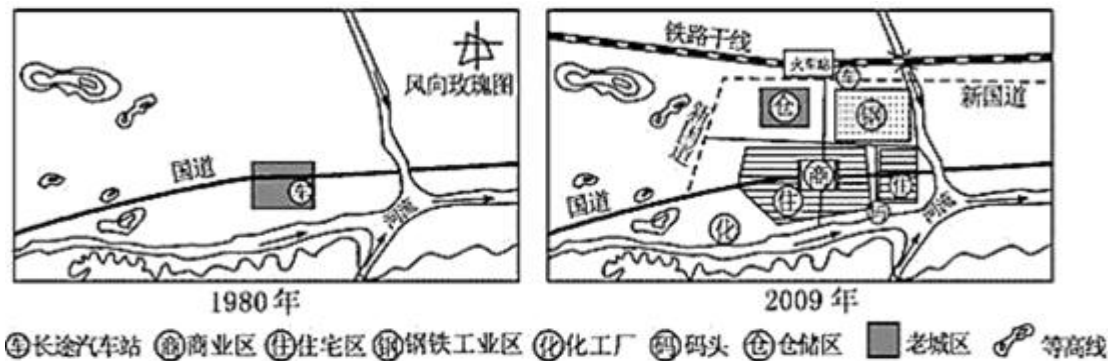
(1) 说明人口大量迁入对该城市造成的不利影响。(4分)

(2) 在 M、P、Q 三地中_____最可能是高级住宅区，简要说明原因。(6分)

(3) 近年来该城市大力发展雨水收集工作，简述该措施的意义。(4分)

18. 阅读下列材料，回答相关问题。(18分)

材料一 下图为某市 1980—2009 城市化的过程。



材料二 该市在城市化过程当中出现了一些问题(城市病)。专家建议打造生态城市，生态城市模式是一种理想模式，技术与自然充分融合，人的创造力和生产力得到最大限度的发挥，居民的身心健康和环境质量得到最大限度的保护。

(1) 据材料一说出该市城市化进程的主要表现。(4分)

(2) 材料二中“城市病”的表现有哪些？导致上述“城市病”的“病因”是什么？(8分)

(3) 试从环境、交通、能源利用等方面设想如何将你所生活的城市改造为生态城市。(6分)

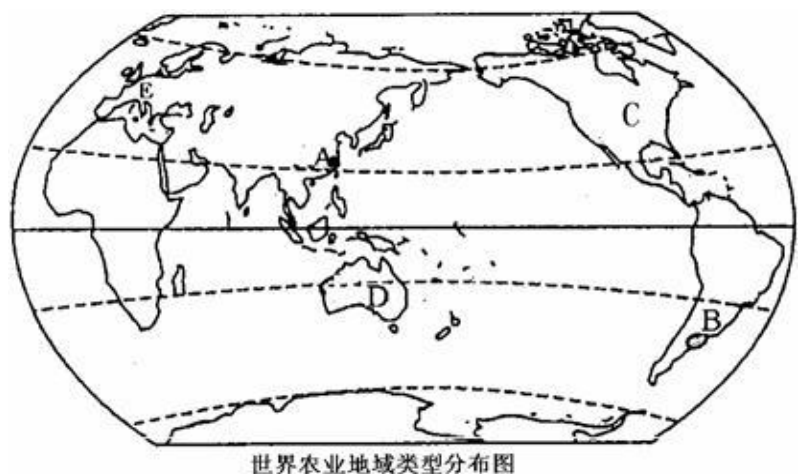
19. 阅读材料，回答有关问题。(20分)

材料一：世界农业地域类型分布图。

(1) A地农业发展中常遇到的气象灾害为_____，解决措施为_____。

C地区发展农业的区位优势中社会经济条件有哪些？(10分)

(2) 说出B地所属的农业地域类型，并归纳其生产特点(6分)



(3) 环地中海国家适合水果、花卉、蔬菜等生产的区位因素主要有哪些？(4分)