

南木林高级中学 2018——2019 学年度第 二学期期中

期中考试试卷

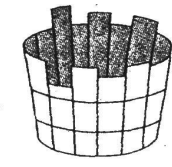
考试方式：闭卷 年级：高一 学科：地理 命题人：扎罗

注意事项：

- 1、本试题全部为笔答题，共 6 页，满分 100 分，考试时间 90 分钟。
- 2、答卷前将密封线内的项目填写清楚，密封线内禁止答题。
- 3、用钢笔或签字笔直接答在试卷(或答题纸上)。
- 4、本试题为闭卷考试，请考生勿将携带课本进入考场。

一、单项选择题：（每小题 2 分，25 小题，共 50 分）

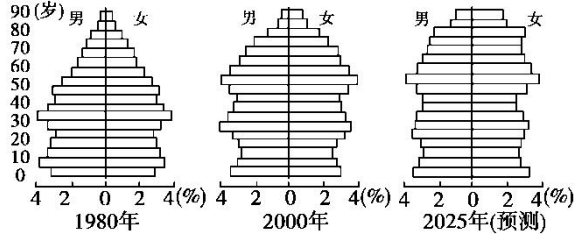
1. 下图为“木桶效应”图，如果组成木桶的各块桶板分别代表影响环境人口容量不同的资源种类，则木桶的“短板”决定（ ）



“木桶效应”

- A. 环境合理人口容量的多少
 - B. 环境人口容量的多少
 - C. 环境最适宜人口容量的多少
 - D. 环境合理承载力的大小
2. 关于人口迁移概念的理解，正确的是（ ）
- A. 凡人口在两地区间的空间移动，均称为人口迁移
 - B. 参与国际旅游属于人口迁移范畴
 - C. 我国大学生赴欧美留学攻读硕士、博士学位，属人口迁移
 - D. 属人口迁移范畴的迁移人口，其空间移动距离在 1000 千米以上

下图反映了亚洲某国人口增长与构成的变化及其发展趋势。据此回答 3~4 题。



3. 该国人口变化趋势的一个突出特征是（ ）
- A. 年轻劳动力过剩
 - B. 老龄化趋势显著

- C. 自然增长率上升
 - D. 人口出生率较高
4. 示意图显示，该国人口平均寿命状况是（ ）
- A. 平均寿命延长，女性长于男性
 - B. 平均寿命延长，男性长于女性
 - C. 平均寿命缩短，女性长于男性
 - D. 平均寿命缩短，男性长于女性

下表是非洲和欧洲某年人口增长的相关数据。读下表，完成 5~6 题。

大洲	人口出生率(%)	人口死亡率(%)	人口自然增长率(%)
非洲	4.0	1.4	2.6
欧洲	1.0	1.2	-0.2

5. 非洲人口增长模式属于（ ）
- A. 原始型人口增长模式
 - B. 传统型人口增长模式
 - C. 现代型人口增长模式
 - D. 不能确定
6. 欧洲人口自然增长率低的主要原因是（ ）
- A. 经济发展水平和文化水平较高
 - B. 人们的生育意愿较高
 - C. 资源贫乏，人口合理容量最高
 - D. 人们的离婚率较低
7. 下列关于人口迁移的叙述正确的是（ ）
- A. 我国“十一黄金周”，大批国内外游客前往八达岭长城，这种现象属于人口迁移
 - B. 20 世纪 60 年代之后，美国人口有向西部和南部移动的趋势
 - C. 人口迁移对迁出地有益无害
 - D. 人口迁移对迁入地有益无害
8. 城市等级与服务范围大小的关系是（ ）
- A、城市等级越高，数目越少，服务范围越小
 - B、城市等级越高，数目越多，服务范围越小
 - C、城市等级越低，数目越多，服务范围越小
 - D、城市等级越低，数目越多，服务范围越大
9. 下列关于城市化进程的叙述，正确的是（ ）
- A. 发展中国家城市化进程中出现逆城市化现象
 - B. 发达国家大都进入了城市化的中期加速阶段
 - C. 二战后，发展中国家的城市人口增长速度超过了发达国家
 - D. 城市化的后期阶段，往往城市的功能分区并不明确

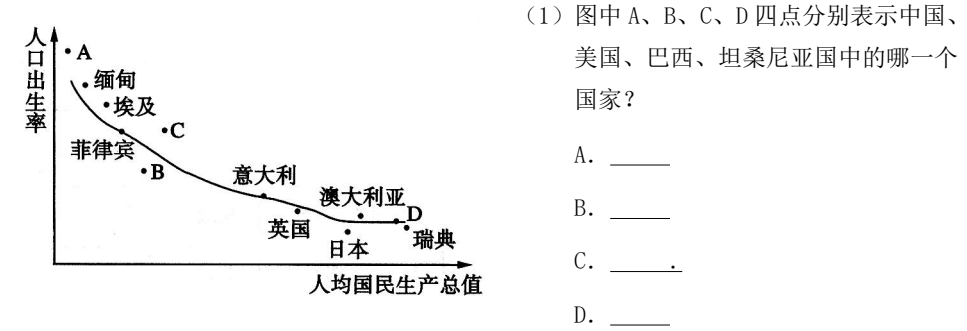
读长江中下游与青海、西藏地区土地生产潜力和最大人口密度表，完成 10~12 题。

	年生物量 (万吨)	可承载人 口(万)	最大人口密度(人 /km2)
长江中下游	88 600	22 000	395
青海、西藏	10 000	1 000	4

10. 青海、西藏环境承载力远远低于长江中下游地区的主要原因是（ ）
- ①地势高、气候寒冷
 - ②生态环境脆弱
 - ③自然资源丰富
 - ④土地生产潜力小
- A. ①③④
 - B. ②③④
 - C. ①②③
 - D. ①②④
11. 据分析研究，西藏的人口合理容量正在减小，原因可能是（ ）

二、综合题（26-28，共 50 分）

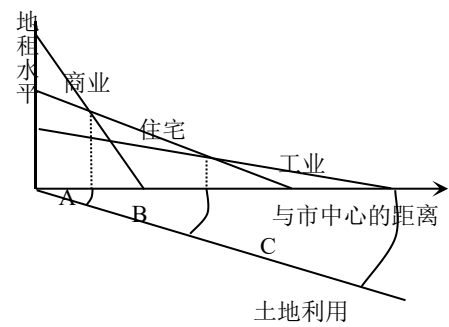
26. 读图“人口出生率与人均国民生产总值关系曲线图”，回答下列问题。（共 15 分）



- (2) 发展中国家与发达国家在人口出生率和国民生产总值方面各有什么特点？
- (3) 曲线图说明影响人口出生率的主要因素是_____
- (4) 中国人口出生率与其他发展中国家比较有何不同？原因是什么？

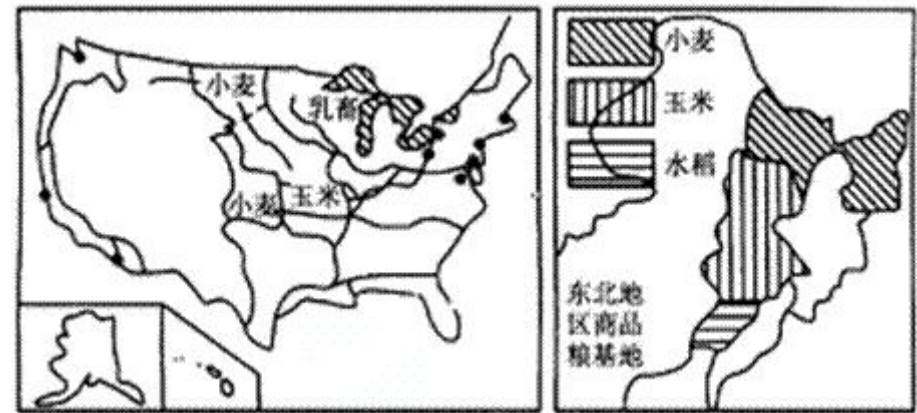
27. 读“各类土地利用付租能力随距离递减示意图”。（共 15 分）

- (1) 在竞争环境下，城市的每一块土地用于哪种经济活动，取决于各种活动的（ ）
- A、规模的大小 B、重要的程度
- C、付出租金的高低 D、由政府的决策
- (2) 土地租金高低取决于下列因素其中主要的是（ ）
- ①距离市中心的远近 ②土地利用方式
- ③交通通达度 ④ 企业的支付能力
- A、①② B、①③ C、②④ D、③④



- (3)、市中心应为图中 A、B、C 中的_____；这里最适合的城市功能用地应为 _____区。
- (4)、图中B区最适合的城市功能用地是 _____ 区，图中C区最适合的城市功能用地是_____ 区。
- (5)、图中 A、B、C 中占地面积最小的是_____，占地面积最大的是 _____。（填字母）。

28. 下图为“美国和中国东北地区农业分布示意图”。读图回答问题。（共 20 分）



- (1) 中国东北部和美国东北部地区农业地域类型分别属于_____，_____。
- (2) 影响两个地区小麦种植的有利自然条件是？
- (3) 我国东北地区种植水稻主要的不利因素有_____。
- (4) 下表为美国和中国东北玉米带的比较：

项目	美国玉米带	中国玉米带
纬度	37° N~45° N	42° N~46° N
地形	平原	平原

从表中可以看出，两地玉米单产为美国玉米带高于我国玉米带，原因有哪些？

从自然条件看：_____。

从社会经济条件看：_____。

高一地理期中考试参考答案

一、选择题

1-10 B C B A B A B C C D 11-20 A C C D B A B C C A 21-25 D C B B A

二、综合体

26.

- (1) 坦桑尼亚 中国 巴西 美国
- (2) 人口出生率：前者高后者低 人均国民生产总值：前者低后者高
- (3) 经济因素
- (4) 中国人口出生率比其他国家低；因为计划生育政策的实施

27.

- (1)、C ； (2)、B ； (3)、A ； 商业区 。 (4)、 住宅区 ， 工业区
- (5) A B

28.

- (1) 商品谷物农业（现代旱作谷物农业） 乳畜业
- (2) 夏季温暖多雨；地势平坦，均为黑土分布区，土壤肥沃；水源充足
- (3) 热量不足
- (4) 自然条件：美国玉米带纬度位置比我国玉米带稍低，无霜期长，热量条件优于我国东北地区 美国玉米带土壤有机质含量高于我国东北地区；
社会经济条件：美国农业科技水平高于我国